

KONU : MATEMATİĞE HAZIRLIK

KAZANIM : Aynı türde, aynı tipte ve farklı genişlikte iki nesne arasından geniş olanı gösterir.

## ETKİNLİK 1

Geniş olan sürahiyi işaretle.



Geniş olan bardağı işaretle.



Geniş olan fanusu işaretle.



## ETKİNLİK 2

Geniş olan mantarı işaretle.



Geniş olan kapıyı işaretle.



Geniş olan suluğu işaretle.



KONU : MATEMATİĞE HAZIRLIK

KAZANIM : Aynı türde, farklı tipte ve farklı genişlikte iki nesne arasından geniş olanı gösterir.

### ETKİNLİK 3


Geniş olan darbukayı işaretle.



Geniş olan eteği işaretle.



Geniş olan yatağı işaretle.



## ETKİNLİK 4

Geniş olan pantolonu işaretle.



Geniş olan pencereyi işaretle



Geniş olan sepeti işaretle.



KONU : MATEMATİĞE HAZIRLIK

KAZANIM : Farklı türde, farklı tipte ve farklı genişlikte iki nesne arasından geniş olanı gösterir.

## ETKİNLİK 5

Geniş olan nesne resmini işaretle.



Geniş olan nesne resmini işaretle.



Geniş olan nesne resmini işaretle.





KONU : MATEMATİĞE HAZIRLIK

KAZANIM : Aynı türde, farklı tipte ve farklı genişlikte iki nesne arasından geniş olanı gösterir.

## ETKİNLİK 6

Geniş olan nesne resmini işaretle.



Geniş olan nesne resmini işaretle.



Geniş olan nesne resmini işaretle.

