


## ETKİNLİK 1

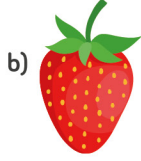
Uzun olanın altındaki kutucuğu işaretle.



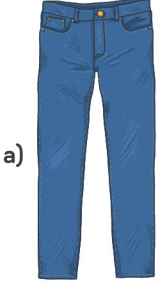
## ETKİNLİK 2

Aşağıdaki soruları cevaplayalım.


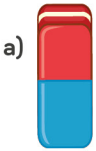
1. Aşağıdaki meyvelerden hangisi uzundur?





2. Aşağıdaki kıyafetlerden hangisi uzundur?



3. Aşağıdaki okul eşyalarından hangisi uzundur?




4. Aşağıdaki hayvanlardan hangisi uzundur?



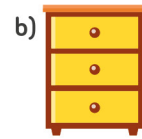
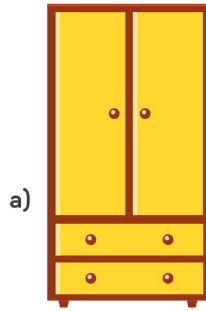
5. Aşağıdaki taşıtlardan hangisi uzundur?



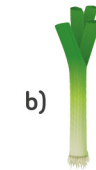
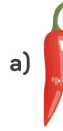
6. Aşağıdaki elektronik eşyalardan hangisi uzundur?



7. Aşağıdaki ev eşyalarından hangisi uzundur?



8. Aşağıdaki sebzelerden hangisi uzundur?




## ETKİNLİK 3



Yukarıdaki resme bakarak aşağıdaki soruları cevapla.

1. Resme bak, uzun olanın altındaki kutucuğu işaretle.



2. Resme bak, uzun olanın altındaki kutucuğu işaretle.



3. Resme bak, uzun olanın altındaki kutucuğu işaretle.



4. Resme bak, uzun olanın altındaki kutucuğu işaretle.



5. Resme bak, uzun olanın altındaki kutucuğu işaretle.









KONU : MATEMATİĞE HAZIRLIK

KAZANIM : İki nesne resmi arasından uzun/kısa olanı gösterir.

## ETKİNLİK 4

Aşağıdaki resimlere bak. Aynı olan nesne resimlerini eşle. Uzun olanları maviye, kısa olanları kırmızıya boya.




## ETKİNLİK 5



Yukarıdaki resmi aşağıdaki yönergelere göre boy.

- A) Uzun evi maviye boy.
- B) Kısa ağacı yeşile boy.
- C) Uzun uçurtmayı kırmızıya boy.
- D) Kısa çiçeği sarıya boy.
- E) Uzun ağacı turuncuya boy.
- F) Kısa evi mora boy.
- G) Uzun çiçeği pembeye boy.
- H) Kısa uçurtmayı kahverengiye boy.

Aşağıdaki cetvelden daha uzun bir cetvel çiz.



Aşağıdaki tırtıldan daha kısa bir tırtıl çiz.

