
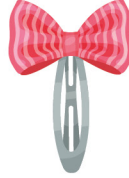


ETKİNLİK 1



Resimlere bak, büyük olanın altındaki kutucuğu işaretle.



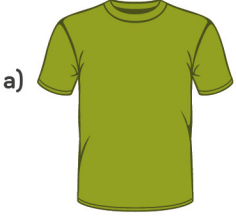
ETKİNLİK 2

Aşağıdaki soruları cevaplayalım.

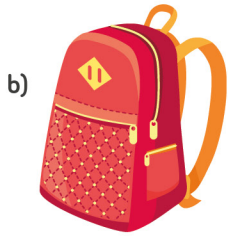
1. Aşağıdaki meyvelerden hangisi büyüktür?




2. Aşağıdaki kıyafetlerden hangisi büyüktür?



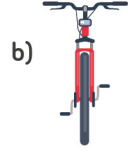
3. Aşağıdaki okul eşyalarından hangisi büyüktür?



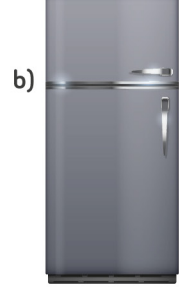
4. Aşağıdaki hayvanlardan hangisi büyüktür?



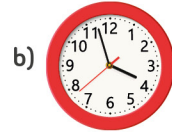

5. Aşağıdaki taşıtlardan hangisi büyüktür?



6. Aşağıdaki elektronik eşyalardan hangisi büyüktür?




7. Aşağıdaki ev eşyalarından hangisi büyüktür?



8. Aşağıdaki sebzelerden hangisi büyüktür?

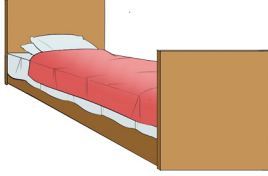
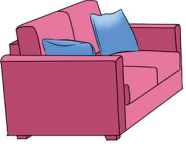


ETKİNLİK 3

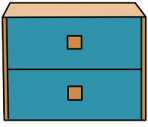


Yukarıda resme bakarak aşağıdaki soruları cevapla.

1. Resme bak, büyük olanın altındaki kutucuğu işaretle.



2. Resme bak, büyük olanın altındaki kutucuğu işaretle.



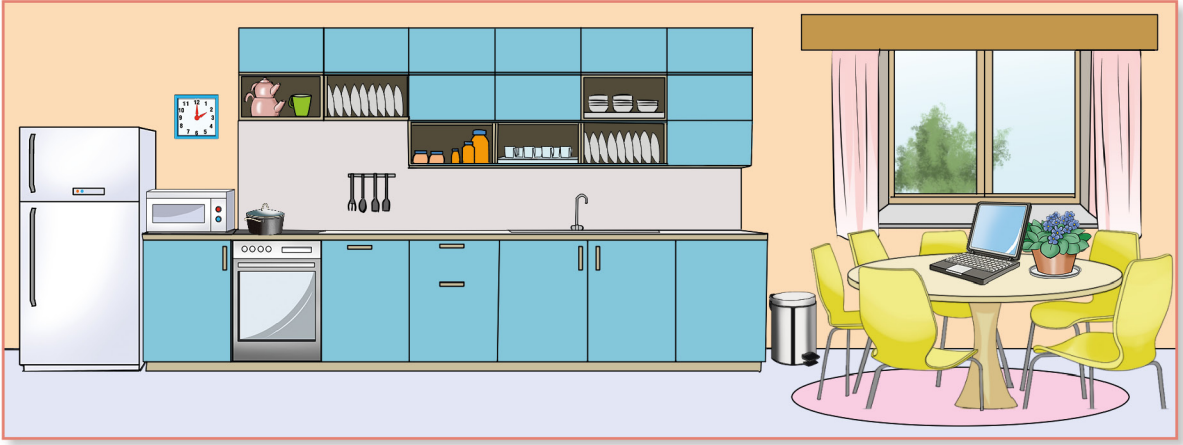
3. Resme bak, büyük olanın altındaki kutucuğu işaretle.



4. Resme bak, büyük olanın altındaki kutucuğu işaretle.



ETKİNLİK 4



Yukarıda resme bakarak aşağıdaki soruları cevapla.

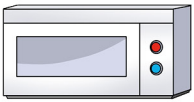
1. Resme bak, büyük olanın altındaki kutucuğu işaretle.



2. Resme bak, büyük olanın altındaki kutucuğu işaretle.



3. Resme bak, büyük olanın altındaki kutucuğu işaretle.



4. Resme bak, büyük olanın altındaki kutucuğu işaretle.

