



ÖZEL EĞİTİM VE REHBERLİK HİZMETLERİ
GENEL MÜDÜRLÜĞÜ

MEBÖZEL
EKPS

ORTAÖĞRETİM
VE ÖN LİSANS



EKPSS MEBÖZEL
DENEME SINAVI
Genel Yetenek - Genel Kültür



ÖZEL EĞİTİM VE REHBERLİK HİZMETLERİ GENEL MÜDÜRLÜĞÜ

Genel Yayın Yönetmeni	Prof. Dr. Kemal Varrın NUMANOĞLU
Editör	Kürşat DULKADİR
Koordinatör	Osman İlker BOBUŞ
Proje Danışmanı	Ali ASLAN
Dijital Medya	Muhittin DELİHASAN
Dijital İçerik Geliştirme	Mehmet Rasim TAŞ Tuğrul ADIYAMAN Oğuzhan UÇAR
Son Okuma	Sevil CANPOLAT Ayşenur ŞAHİN Kerem HUT
Ölçme Değerlendirme	Ufuk BENLİ Mustafa CAN
ISBN	978-975-11-5895-6
Genel Yayın Numarası	7753
Dizi Yayın Numarası	1752
Matbaa	Gazi Mesleki Eğitim Merkezi
Tasarım	Aren Tanıtım

Her hakkı saklıdır. Bu yayının tümü ya da bir bölümü T.C. Millî Eğitim Bakanlığında izin almaksızın hiçbir biçimde çoğaltılamaz, basılıp yayınlanamaz.



İSTİKLÂL MARŞI

Korkma, sönmez bu şafaklarda yüzen al sancak;
Sönmeden yurdumun üstünde tüten en son ocak.
O benim milletimin yıldızıdır, parlayacak;
O benimdir, o benim milletimindir ancak.

Çatma, kurban olayım çehreni ey nazlı hilâl!
Kahraman ırkıma bir gül... ne bu şiddet bu celâl?
Sana olmaz dökülen kanlarımız sonra helâl,
Hakkıdır, Hakk'a tapan, milletimin istiklâl.

Ben ezelden beridir hür yaşadım, hür yaşarım.
Hangi çılgın bana zincir vuracakmış? Şaşarım!
Kükremiş sel gibiyim; bendimi çiğner, aşarım;
Yırtarım dağları, enginlere sığmam, taşarım.

Garb'ın âfâkını sarmışsa çelik zırhlı duvar;
Benim iman dolu göğsüm gibi serhaddim var.
Ulusun, korkma! Nasıl böyle bir imânı boğar,
"Medeniyet!" dediğin tek dişi kalmış canavar?

Arkadaş! Yurduma alçakları uğratma sakın;
Siper et gövdeni, dursun bu hayâsızca akın.
Doğacaktır sana va'dettiği günler Hakk'ın...
Kim bilir, belki yarın... belki yarından da yakın.

Bastığın yerleri "toprak!" diyerek geçme, tanı!
Düşün altındaki binlerce kefensiz yatanı.
Sen şehid oğlusun, incitme, yazıktır atanı;
Verme, dünyâları alsan da, bu cennet vatanı.

Kim bu cennet vatanın uğruna olmaz ki fedâ?
Şühedâ fışkıracak, toprağı sıksan şühedâ!
Cânı, cânânı, bütün varımı alsın da Hudâ,
Etmesin tek vatanımdan beni dünyâda cüdâ.

Ruhumun senden, İlahî, şudur ancak emeli:
Değmesin ma'bedimin göğsüne nâ-mahrem eli!
Bu ezanlar-ki şehâdetleri dînin temeli
Ebedî yurdumun üstünde benim inlemeli

O zaman vecd ile bin secde eder –varsa- taşım;
Her cerâhamdan, İlahî, boşanıp kanlı yaşım,
Fışkırır rûh-i mücerred gibi yerden na'şım;
O zaman yükselerek Arş'a değer, belki başım.

Dalgalar sen de şafaklar gibi ey şanlı hilâl;
Olsun artık dökülen kanlarımın hepsi helâl.
Ebediyen sana yok, ırkıma yok izmihlâl:
Hakkıdır, hür yaşamış bayrağımın hürriyet;
Hakkıdır, Hakk'a tapan milletimin istiklâl!

Mehmet Âkif ERSOY


ATATÜRK'ÜN GENÇLİĞE HİTABESİ

Ey Türk gençliği! Birinci vazifen; Türk istiklalini, Türk cumhuriyetini, ilelebet muhafaza ve müdafaa etmektir.

Mevcudiyetinin ve istikbalinin yegâne temeli budur. Bu temel, senin en kıymetli hazinendir. İstikbalde dahi seni bu hazineden mahrum etmek isteyecek dâhilî ve haricî bedhahların olacaktır. Bir gün, istiklal ve cumhuriyeti müdafaa mecburiyetine düşersen, vazifeye atılmak için içinde bulunacağın vaziyetin imkân ve şeraitini düşünmeyeceksin. Bu imkân ve şerait, çok namüsaît bir mahiyette tezahür edebilir. İstiklal ve cumhuriyetine kastedecek düşmanlar, bütün dünyada emsali görülmemiş bir galibiyetin mümessili olabilirler. Cebren ve hile ile aziz vatanın bütün kaleleri zapt edilmiş, bütün tersanelerine girilmiş, bütün orduları dağıtılmış ve memleketin her köşesi bilfiil işgal edilmiş olabilir. Bütün bu şeraitten daha elim ve daha vahim olmak üzere, memleketin dâhilinde iktidara sahip olanlar, gaflet ve dalalet ve hatta hıyanet içinde bulunabilirler. Hatta bu iktidar sahipleri, şahsi menfaatlerini müstevlilerin siyasi emelleriyle tevhit edebilirler. Millet, fakruzaruret içinde harap ve bitap düşmüş olabilir.

Ey Türk istikbalinin evladı! İşte, bu ahval ve şerait içinde dahi vazifen, Türk istiklal ve cumhuriyetini kurtarmaktır. Muhtaç olduğun kudret, damarlarındaki asil kanda mevcuttur.

Mustafa Kemal ATATÜRK



MUSTAFA KEMAL ATATÜRK



ÖN SÖZ

EKPSS'ye Hazırlanan Değerli Gençler,

Öncelikle kamu görevlisi olabilmek ve ülkemizin ekonomisinde ben de varım demek için çıkmış olduğunuz bu yolculukta sizlere başarılar diliyorum. Ülkemizde, özel eğitim ihtiyacı olan bireyler için her iki yılda bir ÖSYM tarafından EKPSS (Engelli Kamu Personeli Seçme Sınavı) yapılmaktadır. Bu sınav sonucunda başarılı olan bireyler devlet memuru olarak atanma hakkına sahip olmaktadır.

Sevgili Gençler,

Sizlere hiçbir başarının tesadüf olmadığını hatırlatmak istiyorum. Sizler bu gerçeğin bilinciyle EKPSS'ye hazırlanıyor ve emek veriyorsunuz. Bu gayretinizden ötürü sizleri takdir ediyorum. Özel Eğitim ve Rehberlik Hizmetleri Genel Müdürlüğü olarak sınava hazırlık sürecinize yardımcı olmak amacıyla "EKPSS Mebözel" uygulamasını hazırladık. İlk olarak 2020 yılında hayata geçirdiğimiz ve 500 binin üzerinde kişinin yararlandığı uygulamayı, sizler için bu yıl daha da zenginleştirdik, geliştirdik. Bu kapsamlı çalışma konu anlatımları, uygulamalar, binlerce örnek soru çözümleri, deneme sınavları, yüzlerce konu sonu ve ünite sonu değerlendirme testleri ile sınavlara hazırlanmanız için değerli bir yardımcı kaynak olacaktır.

Sınav kapsamındaki Türkçe, matematik, tarih, coğrafya, vatandaşlık ve güncel bilgiler alanındaki içerikler, uzmanlarımız tarafından sizlerin öğrenme özellikleri dikkate alınarak hazırlandı. Belirtilen derslerde, temel-basılı kaynak olma özelliği yanında hazırlanan dijital platformun da estetik ve sade tasarımı, basit ara yüzü sayesinde erişilebilirliğinin sağlanmış olmasının mutluluğunu yaşamaktayız. İçeriklerin ekran okuyucu programlar yoluyla seslendirilmesi, terimsel ifadelerin mp3 formatında hazırlanarak uygulamaya eklenmesi, şekil, sembol, harita vb. görsellerin OCR destekli formatta olması görme engelli bireylerin de sınava en iyi şekilde hazırlanmasını sağlayacaktır.

"orgm.meb.gov.tr/ekpssmebozel" internet adresinden, "IOS" ve "Android" platformlarından ücretsiz indirilebilen bu çalışmayı sizlerle paylaşmanın mutluluğunu yaşıyor, bu süreçte emeğini esirgemeyen tüm öğretmen arkadaşlarıma teşekkür ediyorum. Sınava hazırlanan tüm özel gereksinimli bireylerin başarılı olmasını yürekten temenni ediyorum.

Prof. Dr. Kemal Varın NUMANOĞLU

Genel Müdür





ÖZEL EĞİTİM VE REHBERLİK HİZMETLERİ
GENEL MÜDÜRLÜĞÜ

MEBÖZEL
EKPS

ORTAÖĞRETİM
VE ÖN LİSANS



EKPSS MEBÖZEL DENEME SINAVI

Genel Yetenek - Genel Kültür

01



1. Aşağıdaki sözcüklerin hangisinde karşıt (zıt) anlamlı sözcükler bir arada kullanılmıştır?

- A) Evi temizlerken anneme yardım edeceğim.
B) Gençler, yaşlılara nazik davranmalıdır.
C) En sevdiğim şehir Hatay'dır.
D) Dün okulda ders çalıştım.
E) Seni evde göremedim.

2. Aşağıdaki kelimelerden hangisi Türkçe Sözlük'te diğerlerinden sonra gelir?

- A) Aksaray B) Edirne C) Çorum
D) Kastamonu E) Bursa

3. Aşağıdaki cümlelerin hangisinde neden sonuç anlamı vardır?

- A) Oyun oynadığım için terledim.
B) Okula geldiğini sonra duydum.
C) Köye gittiğimde dayımı gördüm.
D) Terliyken su içmeyelim.
E) Soğuk havalarda kalın giyinin.

4. Aşağıdaki cümlelerin hangisinde bir varlığın dış görünüşünden bahsedilmiştir?

- A) Arkadaşlarımla dışarıya çıktık.
B) Köpekler sürekli havlıyordu.
C) Bütün hayvanlara yem attım.
D) Kazın bembeyaz tüyleri parlıyordu.
E) Denizde martılar balık avlıyor.

5. Aşağıdaki cümlelerin hangisinde özel isim yoktur?

- A) Arkadaşım Hasan eve geç gitti.
B) Seni dün hiç görmedim.
C) Adam kuşuna Maviş adını verdi.
D) Ahmet, marketten yiyecek aldı.
E) Amasya'da yağmur yağmaya başladı.

6. "Çok sevinmek" anlamında kullanılan deyim aşağıdakilerden hangisidir?

- A) Etekleri tutuşmak
B) Eli ayağına dolaşmak
C) Eteğindeki taşları dökmek
D) Etekleri zil çalmak
E) Eteğinde dolanmak

7. Aşağıdaki cümlelerde koyu yazılmış sözcüklerden hangisi kişi zamiridir?

- A) **Siz** neden eve geç geldiniz?
B) Ablalar **bazılarını** yolda gördü.
C) **Şu** kitabı bana versene.
D) Yaz tatilinde **oraya** gitmeyin.
E) Sınıftaki **herkes** ders çalışıyor.

8. Aşağıdaki cümlelerin hangisinin sonuna soru işareti gelir?

- A) Ailemin resimlerini görünce şaşkırdım.
B) Seni dün okulda hiç görmedim.
C) Yarın servisle ne zaman gideceksin.
D) Benim söylediklerimi duymuyorsun.
E) Yarın pazardan evin ihtiyaçlarını alalım.

Özgür: Kısa boylu ve siyah saçlı, genç bir kızdır. Manisa'da öğretmen olarak görev yapmaktadır.

Lütfiye: Hatay'da öğretmenlik yapmaktadır. Uzun boylu, sarı saçlı ve yaşlı bir kadındır.

9. Bu bilgilere göre Özgür ve Lütfiye'nin ortak özelliği aşağıdakilerden hangisidir?

- A) Yaşları
B) Boyları
C) Meslekleri
D) Çalıştıkları Şehir
E) Saç Renkleri

Günaydın tavuklar, horozlar!
Artık memnunum yaşamaktan
Sabah erken kalktığım zaman
Siz varsınız;
Gündüz, işim var, arkadaşlarım,
Gece, yıldızlar var, karım var,
Günaydın tavuklar, horozlar!

10. Bu dörtlüğün ana duygusu aşağıdakilerden hangisidir?

- A) Yaşama sevinci
B) Dostluğa özlem
C) Aile sevgisi
D) Hayvan sevgisi
E) Vatan sevgisi



Koskocaman adamdı. Çocukluğunda hayalini kurduğu mavi bisiklete ancak şimdi, bu soğuk eylül sabahında sahip olabilmişti. Gözleri daldı. Bir süre çocukluğunu düşündü ve hüzünlendi.

11. Bu parçada aşağıdaki hikâye unsurlarından hangisine yer verilmemiştir?

- A) Şahıs
- B) Zaman
- C) Olay
- D) Mekân
- E) Konu

Seyahate çıkmadan önce, ne olur ne olmaz diye yanıma gereğinden daha fazla yiyecek ve giyecek alırım. Aracımın tüm bakımlarını yaptırım. Başıma gelebilecek şeyler için önceden hazırlıklı olurum.

12. Bu sözleri söyleyen kişi aşağıdakilerden hangisiyle nitelendirilebilir?

- A) Becerikli
- B) Tedbirli
- C) Sakin
- D) Endişeli
- E) Mutlu

İçimden hep iyilik geliyor
Yaşadığımız dünyayı seviyorum
Kin tutmak benim harcam değil
Çektiğim bütün sıkıntıları unuttum
Parasız pulsuzum ne çıkar
Gelecek güzel günlere inanıyorum

13. Bu dizelerin şairi için aşağıdakilerden hangisi söylenemez?

- A) Unutkan
- B) İyiliksever
- C) Sevecen
- D) Umutlu
- E) Endişeli

Ağrı kesiciler hastalıkları ve yaraları tedavi etmez. Bunlar, ağrıyı hissetmenizi önleyen kimyasal maddelerdir. En kuvvetli ağrı kesicilerden biri morfindir. Morfin çok şiddetli ağrıları bastırmak için kullanılır. Endorfin ise beynin ürettiği bir ağrı kesicidir. Bunun etkileri morfininkine aynıdır. Endorfin, ağrının ilk hissedildiği anda salınır ama ilk kriz atlattığı anda etkisi geçer.

14. Bu parçadan aşağıdakilerden hangisi çıkarılamaz?

- A) Endorfin ve morfinin vücutta benzer etkileri vardır.
- B) İnsan beyni, ağrıları dindirmek için harekete geçmektedir.
- C) Morfin vücut tarafından üretilen bir ağrı kesici değildir.
- D) Ağrı kesiciler, hastalıkları iyileştirmek için kullanılır.
- E) Ağrı kesiciler yaraları tedavi etmez.

15. Aşağıdaki cümlelerin hangisinde “üzülme” anlamı vardır?

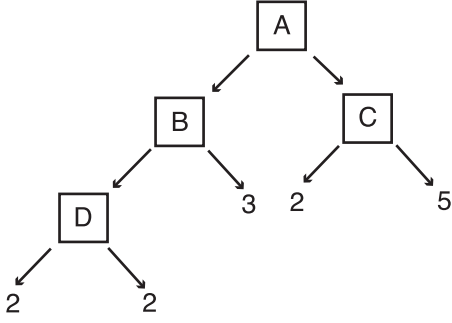
- A) İşlerini yarına bırakman çok doğru değil.
- B) Ömrü boyunca genç yazarlarla ilgilendi.
- C) Sorunları görmezden gelmekten vazgeç artık!
- D) Çocukların perişan hâlini görünce içim parçalandı.
- E) Onu görünce nutkum tutuldu.

$$5 \cdot 5 \cdot 5 \cdot 5 = \square^4$$

$$3 \cdot 3 \cdot 3 \cdot 3 \cdot 3 \cdot 3 \cdot 3 = 3^A$$

16. Yukarıdaki eşitliklerde Δ ve \square sembollerinin yerine aşağıdaki sayılardan hangileri yazılmalıdır?

- | | Δ | \square |
|----|----------|-----------|
| A) | 4 | 7 |
| B) | 5 | 6 |
| C) | 4 | 6 |
| D) | 5 | 7 |
| E) | 3 | 5 |



17. Yukarıdaki çarpan ağacına göre “A + B + C + D” kaçtır?

- A) 32 B) 120 C) 142 D) 146 E) 149

18. Aşağıdaki cümlelerin hangisinde ifade edilen tam sayının işareti diğerlerinden farklıdır?

- A) Bir dalgıç deniz seviyesinin 20 m altına dalmıştır.
B) Otopark zeminin 2 kat altındadır.
C) Bu alışverişten 10 lira kâr ettim.
D) Hava sıcaklığı sıfırın altında 5 derecedir.
E) Derin dondurucu sıfırın altında 18 derecede çalışmaktadır.



Yukarıdaki sayı doğrusunda 0 ile 1 arası 9 eş parçaya ayrılmıştır.

19. Buna göre A noktasına karşılık gelen kesir aşağıdakilerden hangisidir?

- A) $\frac{7}{9}$ B) $\frac{7}{8}$ C) $\frac{2}{10}$ D) $\frac{8}{10}$ E) $\frac{8}{9}$

20. $\frac{52}{25}$ kesrinin ondalık gösterimi aşağıdakilerden hangisidir?

- A) 2,08 B) 2,20 C) 2,28 D) 2,80 E) 0,28

21. “3’ün 14’e” oranı aşağıdakilerden hangisi ile gösterilmez?

- A) $\frac{3}{14}$ B) $\frac{3}{14}$ C) 30:140 D) 3:14 E) 3,14

22. “5n – 2” cebirsel ifadesinin n = 20 için değeri kaçtır?

- A) 102 B) 90 C) 92 D) 88 E) 98

EKPSS MEBÖZEL

Bir öğrencinin beş günlük ders çalışma süreleri aşağıdaki tabloda verilmiştir.

Tablo: Günlük Ders Çalışma Süreleri

Günler	Ders Çalışma Süresi (dk.)
Pazartesi	32
Salı	68
Çarşamba	73
Perşembe	21
Cuma	46

23. Bu öğrencinin günlük ortalama ders çalışma süresi kaç dakikadır?

- A) 42 B) 48 C) 54 D) 73 E) 46

24. Aşağıdakilerden hangisinin değeri diğerlerinden farklıdır?

- A) $\frac{10}{15}$ B) % 75 C) 0,75 D) $\frac{3}{4}$ E) $\frac{21}{28}$

- I. Uğur'un sevdiği günler.
- II. Bir basamaklı asal sayılar.
- III. Haftanın Ç ile başlayan günleri
- IV. 4 ile bölünebilen bazı doğal sayılar.
- V. 20 nin bazı çarpanları

25. Yukarıda verilen ifadelerden kaç tanesi küme belirtir?

- A) 1 B) 2 C) 3 D) 4 E) 5

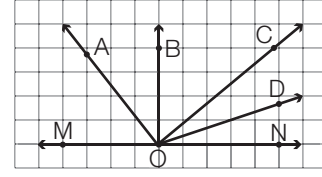
26. Hangi sayının 6 katının 3 eksiği 33'tür?

- A) 7 B) 6 C) 5 D) 4 E) 3

Bir mağazada oyun CD'leri 5 liraya, film CD'leri 4 liraya ve çizgi film CD'leri 3 liraya satılmaktadır.

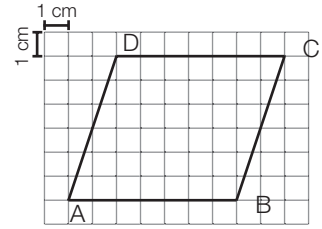
27. Bu mağazadan 2 oyun CD'si, 4 film CD'si ve 8 çizgi film CD'si alan bir kişi toplam kaç lira öder?

- A) 30 B) 40 C) 50 D) 60 E) 70



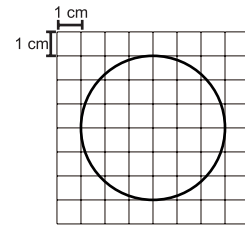
28. Kareli kâğıtta verilen \widehat{MON} 'nin açısını aşağıdakilerden hangisidir?

- A) $\angle OAC$ B) $\angle OBD$ C) $\angle OCB$ D) $\angle ODN$ E) $\angle ONC$



29. Kareli kâğıt üzerine çizilmiş ABCD paralelkenarının [DC] kenarına ait yüksekliği kaç santimetredir?

- A) 3 B) 4 C) 5 D) 6 E) 7



30. Yukarıdaki kareli kâğıtta verilen çemberin yarıçapının uzunluğu kaç santimetredir?

- A) 3 B) 4 C) 5 D) 6 E) 7



1. Asya Hun Devleti'nin bilinen ilk kağanı aşağıdakilerden hangisidir?

- A) Teoman B) Metehan C) Atilla
D) Bumin Kağan E) Kutluk Kağan

2. İlk Türk İslam Devleti aşağıdakilerden hangisidir?

- A) Gazneli Devleti
B) Avrupa Hun Devleti
C) Karahanlı Devleti
D) Uygur Devleti
E) Büyük Selçuklu Devleti

3. Osmanlı Devlet'inin kurucusu aşağıdakilerden hangisidir?

- A) Orhan Bey B) I. Murat C) Osman Bey
D) I. Mehmet E) I. Ahmet

Osmanlı'da devlet işlerinin görüşüldüğü ve karara bağlandığı en önemli yönetim organıdır. Alanında uzman kişilerden oluşan bu kurum padişaha devlet idaresinde yardımcı olurdu.

4. Yukarıdaki anlatımda Osmanlı devlet sistemindeki hangi kurumdan bahsedilmiştir?

- A) Divan B) Lonca C) Külliye
D) Kurultay E) Medrese

5. İstanbul'un alınması ile hangi devlet sona ermiştir?

- A) Harzemşahlar
B) Memlükler
C) Bizans Devleti
D) Anadolu Selçuklu Devleti
E) Avrupa Hun Devleti

6. Hangisi Türk dış politikasının temel ilkelerinden biri değildir?

- A) Akılcılık B) Barış C) Karşılıklılık
D) Saldırganlık E) Gerçekçilik

7. Nüfus Mübadelesi sorununu yaşadığımız ülke aşağıdakilerden hangisidir?

- A) Belçika B) İtalya C) İran
D) Afganistan E) Yunanistan

8. 31 Mart İsyanını bastıran ordunun adı aşağıdakilerden hangisidir?

- A) Yeniçeri Ordusu
B) Nizam-ı Cedid Ordusu
C) Harekat Ordusu
D) 9. Kolordu
E) Asakir-i Muhammediye Ordusu

Mustafa Kemal Millî Mücadele sürecinde katıldığı kongrelerde başkan seçilmiştir.

9. Mustafa Kemal'in başkan seçilmesinde etkili olan özelliği aşağıdakilerden hangisidir?

- A) Liderliği B) Rütbesi
C) Resmî görevi D) İnsan sevgisi
E) Çok yönlülüğü

İşgaller karşısında İstanbul Hükümeti, İtilaf Devletleri'nin politikalarına uygun tutum sergilemiş, düşmanın isteklerini karşı gelmeden hemen yerine getirmiştir.

10. İstanbul Hükümetinin bu tutumu nasıl tanımlanır?

- A) Mücadeleci B) Teslimiyetçi
C) İsrarcı D) Kararlı
E) Azimli

Atatürk, Ali Fethi Bey'e "Meclis'te bir muhalefet yok ki ben memleketin durumunu anlayayım. Sen bu görevi yapacaksın." demiştir.

11. Atatürk, bu sözüyle aşağıdakilerden hangisinin gerekliliğine vurgu yapmıştır?

- A) Millî egemenliğin
B) Yargı bağımsızlığının
C) Sivil toplum kuruluşlarının
D) Çok partili hayata geçişin
E) Milli Ekonominin

**12. TBMM Hükûmeti Doğu Cephesi'nde hangi devlet ile mücadele etmiştir?**

- A) Suriye B) Irak C) Ermenistan
D) Bulgaristan E) Romanya

Arap harfleri ses bakımından Türkçe'ye uygun değildi. Bu alfabede sesli harf sayısı da azdı. Bu durum, okuma yazmayı oldukça zorlaştırıyordu. Oysa Mustafa Kemal Atatürk, Türk dilinin kolayca okunup yazılmasını amaçlıyordu.

13. Bu amaçla gerçekleştirilen devrim aşağıdakilerden hangisidir?

- A) Millet Mekteplerinin faaliyete geçmesi
B) Şapka Kanunu
C) Türk Tarih Kurumu'nun açılması
D) Harf İnkılabı'nın yapılması
E) Medeni Kanun'un kabulü

14. Aşağıdaki aylardan hangisinde Türkiye'de gündüz süresi gece süresinden daha uzundur?

- A) Ocak B) Ekim C) Aralık
D) Nisan E) Şubat

15. Aşağıdakilerden hangisinde verilen alanlar arasında orman varlığı farkı daha fazladır?

- A) Biga Yarımadası - Çoruh Vadisi
B) Haymana Platosu - Çukurova
C) Doğu Karadeniz kıyıları - Tuz Gölü çevresi
D) Ergene Ovası - Yozgat çevresi
E) Van Gölü çevresi - Hakkâri

16. Aşağıda isimleri verilen yerlerden hangisi 1. Jeolojik Zaman'da oluşmuştur?

- A) Çukurova
B) İstanbul Boğazı
C) Toroslar
D) Yıldız Dağları
E) Konya Ovası

Ülkemizde kırsal yerleşmelerde nüfus kentsel yerlere göre daha azdır.

17. Aşağıdakilerden hangisi kentsel nüfusun artmasında etkili olan faktörler arasında yer almaz?

- A) Sanayileşme
B) Turizmin gelişmesi
C) Çevresel atıklar
D) Eğitim olanakları
E) Faktörel değil, sonuç

18. Aşağıdaki yerlerin hangisinde buğdayunu kullanımı daha azdır?

- A) Göller Yöresi
B) Konya ve çevresi
C) Güney Marmara
D) Doğu Karadeniz
E) Şanlıurfa ve çevresi

19. Türkiye'de hayvancılıktan elde edilen verimin az olmasının temel nedeni hangisidir?

- A) Hayvan sayısının az olması
B) Doğal koşullara bağlı hayvancılık yapılması
C) Hayvancılıkla uğraşan kişi sayısının az olması
D) Besi ve ahır hayvancılığının yaygın olması
E) Et fiyatlarının yüksek olması

20. Cumhurbaşkanı yardımcısı ve Bakanlar hakkında meclis soruşturmasının açılması için en az kaç milletvekilinin yazılı teklifi gereklidir?

- A) 301 B) 360 C) 400 D) 413 E) 450

- I- Cumhurbaşkanı
II- Siyasi parti grupları
III- En az 20 milletvekili

21. Yukarıda verilenlerden hangileri meclis araştırması ve genel görüşme talebinde bulunabilir?

- A) I B) II C) III D) I-II E) I-II-III



22. Cumhurbaşkanı olağanüstü hali en fazla kaç ay için ilan edebilir?

- A) 2 B) 3 C) 4 D) 5 E) 6

23. TBMM her seferinde olağanüstü hal süresini kaç ay uzatabilir?

- A) 1 B) 2 C) 3 D) 4 E) 5

I- Cumhurbaşkanı

II- HSK

III-TBMM

24. 1982 Anayasasına göre yukarda verilenlerden hangilerinin Danıştay'a üye seçme yetkisi vardır?

- A) I B) II C) III D) I-II E) I-II-III

25. Merkezi idarenin yerinden yönetim kuruluşları üzerinde denetim yetkisi kullanımına ne ad verilir?

- A) Hiyerarşi B) Vesayet
C) Yetki genişliği D) Kamu hizmeti
E) Kolluk hizmeti

26. 2020 yılı Hazine ve Maliye Bakanlığı görevini yürüten isim aşağıdakilerden hangisidir?

- A) Berat Albayrak
B) Mevlüt Çavuşoğlu
C) Naci Ağbal
D) Murat Çetinkaya
E) Lütfi Elvan

27. 2020 yılı Türkiye Cumhuriyet Merkez Bankası (TCMB) Başkanı görevini yürüten isim aşağıdakilerden hangisidir?

- A) Berat Albayrak
B) Mevlüt Çavuşoğlu
C) Naci Ağbal
D) Murat Çetinkaya
E) Murat Uysal

28. 2021 UNESCO Dünya Kitap Başkenti ilan edilen şehir aşağıdakilerden hangisidir?

- A) Bakü B) Tiflis
C) Konya D) Taşkent
E) Nur-Sultan

29. 2021 Avrupa Kültür Başkenti seçilen Temeşvar kendi hangi ülkededir?

- A) Bulgaristan
B) Sırbistan
C) Yunanistan
D) Romanya
E) Belçika

30. 2021 yılı Dünya Sağlık Örgütü (DSÖ) tarafından ne yılı olarak ilan edilmiştir?

- A) Küresel Salgın ile Mücadele Yılı
B) Hemşire Yılı
C) Uluslararası Covid-19 ile Mücadele Yılı
D) Erişebilirlik Yılı
E) Uluslararası Sağlık Çalışanları Yılı

EKPSS MEBÖZEL

CEVAP ANAHTARLARI

GENEL YETENEK

- | | | | | |
|------|-------|-------|-------|-------|
| 1) B | 7) A | 13) E | 19) A | 25) B |
| 2) D | 8) C | 14) D | 20) A | 26) B |
| 3) A | 9) C | 15) D | 21) E | 27) C |
| 4) D | 10) A | 16) D | 22) E | 28) B |
| 5) B | 11) D | 17) D | 23) B | 29) D |
| 6) D | 12) B | 18) C | 24) A | 30) A |

GENEL KÜLTÜR

- | | | | | |
|------|-------|-------|-------|-------|
| 1) A | 7) E | 13) D | 19) B | 25) B |
| 2) C | 8) C | 14) D | 20) A | 26) E |
| 3) C | 9) A | 15) C | 21) E | 27) C |
| 4) A | 10) B | 16) D | 22) E | 28) B |
| 5) C | 11) C | 17) C | 23) D | 29) D |
| 6) D | 12) C | 18) D | 24) D | 30) E |



ÖZEL EĞİTİM VE REHBERLİK HİZMETLERİ
GENEL MÜDÜRLÜĞÜ

MEBÖZEL
EKPS

ORTAÖĞRETİM
VE ÖN LİSANS



EKPSS MEBÖZEL DENEME SINAVI

Genel Yetenek - Genel Kültür

02



1. Aşağıdaki atasözlerinin hangisinde zıt anlamlı sözcükler kullanılmamıştır?

- A) Dost için ölmeli, düşman için dirilmeli.
B) Akıllı, söylemeden düşünür; akılsız, düşünmeden söyler.
C) Kötülük her kişinin kârı, iyilik er kişinin kârı.
D) Alçak yerde yatma, sel alır; yüksek yerde yatma, yel alır.
E) Az veren maldan, çok veren candan verir.

Kalbim al renkli bir çiçek
Ruhum üstündeki böcek
Size sevgim büyük gerçek
Renk renk kokulu çiçekler

2. Bu dörtlükte geçen "ruh" sözcüğü aşağıdakilerden hangisine benzetilmiştir?

- A) Böcek B) Sevgi C) Çiçek
D) Kalp E) Doğa

(I) Türkiye'de ormana elverişli arazi çok fazla değildir. (II) Toprakların eğimi ve rakımın yüksek olması orman oluşumunu olumsuz etkilemektedir. (III) Bu yüzden ormanlarımız kıyılarda iç kesimlere göre daha fazladır. (IV) Toplamda ise 212 bin kilometrekare orman alanı vardır. (V) Bu ormanlar genelde çam ormanıdır.

3. Bu parçada numaralanmış cümlelerin hangisinde karşılaştırma yapılmıştır?

- A) I. B) II. C) III. D) IV. E) V.

Üşüttüğüm için iki haftadır hastayım, keşke sıkı giyinseydim!

4. Bu cümleye hâkim olan duygu aşağıdakilerden hangisidir?

- A) Öfke B) Şaşırma C) Sitem
D) Varsayım E) Pişmanlık

Osman Hamdi Bey'in yaptığı resimler ---

5. Bu söz aşağıdakilerden hangisiyle tamamlanırsa nesnel anlatım söz konusu olmaz?

- A) Günümüze kadar ulaştı.
B) Öğrencilere gösterildi.
C) İstanbul'da sergilendi.
D) Birbirinden etkileyiciydi.
E) Ödül aldı.

6. Aşağıdaki altı çizili sözcüklerin hangisinde ünsüz türemesi vardır?

- A) Sabahçı olduğunu öğrenince çok sevindi.
B) Senin hakkında hep olumlu şeyler duydum.
C) Bu saatte nereye gidiyorsun, diye sordu.
D) Ağacın altına oturup kitap okuyalım.
E) Seni görünce heyecanlandım.

Yolda tesadüfen karşılaştıkları tanıdıkları, sevinç

I II
içinde kucaklarken birbirlerini, gözleri
III IV

hemen çay içecek bir yer arar. Çay içilecek bir yer bulununca da en koyu sohbetler

V
eşliğinde çaylar içilir.

7. Bu parçada numaralanmış sözcüklerden hangisi gerçek anlamda kullanılmamıştır?

- A) I. B) II. C) III. D) IV. E) V.

Yiğitler dizildi Çanakkale'de,
Oyunlar bozuldu Çanakkale'de,
Bir destan yazıldı Çanakkale'de,
Kaderin kaydıyla bu vatan bizim.

8. Bu dörtlüğün ana duygusu aşağıdakilerden hangisidir?

- A) Sevgi B) Sitem C) Kahramanlık
D) Sevinç E) Dostluk

*Dokunsam, martı gibi uçup gidecek sanki,
Solgun yüzlü bir avuç kar.*

*Orada, bir gece yansı bir hasta çocuk sayıklar,
Burada ben...*

9. Bu şiirde aşağıdaki söz sanatlarından hangilerine başvurulmuştur?

- A) Benzetme - Kişileştirme
B) Konuşturma - Karşıtlık
C) Karşıtlık - Kişileştirme
D) Benzetme - Konuşturma
E) Konuşturma-Karşıtlık



Anadolu'nun sirke gibi keskin sözleri vardır. Bu sözleri ilk kimin söylediği bilinmez. Atalarımız söylemiştir, denip geçer. Bu sebeple, dillerden düşmeyen bu özlü sözlere atasözü denir.

10. Bu parçada "söz" aşağıdakilerden hangisine benzetilmiştir?

- A) Anadolu B) Sirke C) Dil
D) Dünya E) Söz

Bir gün kurbağalar yarış yapıyor. Hedef, yüksek bir kulenin tepesine çıkmakmış. Arkadaşlarını seyretmek için toplanan kurbağalar yarışmacıların kulenin tepesine çıkabileceğine inanmıyordu. Bu yüzden de "Zavallılar! Hiçbir zaman başaramayacaklar!" diye bağırmağa başlamışlar. Yarışmaya başlayan kurbağalar teker teker yarışı bırakmışlar. İçlerinden sadece biri inatla kuleye tırmanmaya çalışıyordu. Bu kurbağa, sonunda kulenin tepesine çıkmayı başarmış. Diğerleri, kurbağanın oraya nasıl çıktığını merak etmişler. Bir kurbağa ona yaklaşmış ve sormuş: "Bu işi nasıl başardın?" O anda fark etmişler kuleye çıkan kurbağanın kulaklarının duymadığını.

11. Bu hikâyenin ana düşüncesi aşağıdakilerden hangisidir?

- A) İnsanlar yetenekli olduklarını düşündükleri işlerle ilgilenmelidir.
B) Çevreden gelen olumsuz mesajlar, kişinin başarılı olmasını engeller.
C) Başkalarının düşüncelerine önem vermeyenler başarısız olmaya mahkûmdur.
D) İnsan, ulaşamayacağı hedefler belirleyerek zaman kaybetmemelidir.
E) Toplum, kültürle ile var olmaktadır.

Güven toplumu, aslında adalet toplumdur. Böyle bir toplumda, toplumsal ilişkileri belirleyen en temel unsur adalettir. İnsanlar birbirine zulmetmez, haksızlık etmez. Güven toplumunda adalet; ailede, eğitimde, siyasette, ekonomide, hukukta, ahlakta, sağlıkta kısacası bütün toplumsal dünyada eminliğin, güvenilirliğin bir gereği olarak belirleyicidir.

12. Aşağıdakilerden hangisi bu metnin anahtar sözcüklerinden biri değildir?

- A) Adalet B) Toplum C) Eğitim
D) Güven E) Ahlak

Yeterli ve dengeli beslenen kişiler sağlıklıdır. --- hareketli ve esnek bir bedene, düzgün bir cilde, saçlara ve gözlere sahiptir. Çalışmaya istekli kişilikleri ve normal zihinsel gelişimleri vardır. Nadiren hasta olurlar. --- yetersiz ve dengesiz beslenen kişiler yavaş hareket ederler, isteksiz ve sağlıksızlardır.

13. Bu parçada boş bırakılan yerlere sırasıyla aşağıdakilerin hangisinde verilenler getirilmelidir?

- A) Hatta - Bu nedenle
B) Bu nedenle - Oysaki
C) Fakat - Hatta
D) Galiba - Mademki
E) Oysaki - Çünkü

14. "İnsan, elinden kaçırdığı küçük bir fırsatı gözünde büyütür, onun çok önemli olduğunu söyler durur." anlamına gelen atasözü aşağıdakilerden hangisidir?

- A) Kaçan balık büyük olur.
B) Ne doğarsan aşına, o çıkar kaşığına.
C) Dereden geçerken at değiştirilmez.
D) Kaçanı kovmazlar, yıkılanı vurmazlar
E) İşleyen demir ışıldar.

Kündekâri, ahşap işçiliğinin önemli tekniklerinden biri olarak Anadolu'da Selçuklu zamanında ortaya çıkmıştır. Ahşaba sabırdan kanatlar takmaya benzer kündekâri. Ortaya konan harika eserler, zevk sahibi bir medeniyetin habercisidir. Tarihin derinliklerinden sağ salım gelen bu eserlerde eşsiz bir ahengin sesi duyulur.

15. Bu parçadaki altı çizili sözün anlamı aşağıdakilerden hangisidir?

- A) Ara vermeden
B) Kusurlarından arınarak
C) Hiçbir zarar görmeden
D) Düzenli bir biçimde
E) Tarihi derinlikleri



16. Aşağıdaki karşılaştırmalardan hangisi yanlıştır?

- A) $2^3 < 2^4$ B) $2^3 < 3^2$ C) $4^2 < 2^4$
D) $5^2 < 3^5$ D) $5^2 < 2^5$

I. 1 ile 50 arasında 7'nin katı olan 7 doğal sayı vardır.

II. 12'nin doğal sayı bölenlerinden en büyüğü 6'dır.

III. 15'in doğal sayı çarpanlarının içinde çift doğal sayı yoktur.

17. Yukarıda verilen ifadelerden hangileri doğrudur?

- A) Yalnız I. B) I ve II. C) I ve III.
D) I, II ve III. E) II ve III.

12, 5, - 7, 0, - 1, 9, - 21

18. Yukarıdaki tam sayılardan kaç tanesi pozitiftir?

- A) 2 B) 3 C) 4 D) 5 E) 6

19. Aşağıdaki sıralamalardan hangisi yanlıştır?

- A) $\frac{3}{11} < \frac{7}{11} < \frac{8}{11}$ B) $\frac{9}{7} < \frac{9}{5} < \frac{9}{2}$
C) $\frac{1}{3} < \frac{5}{12} < \frac{5}{6}$ D) $\frac{3}{5} < \frac{15}{4} < \frac{5}{2}$
E) $\frac{5}{11} < \frac{1}{2} < \frac{5}{6}$

20. Aşağıdaki eşitliklerden hangisi yanlıştır?

- A) $\frac{8}{9} = 0,8$ B) $\frac{4}{3} = 1,3$
C) $\frac{12}{11} = 1,0\bar{9}$ D) $\frac{5}{11} = 0,4\bar{5}$
E) $\frac{5}{3} = 1,6$

21. "30'un 72'ye" oranı aşağıdakilerden hangisine eşit değildir?

- A) $\frac{4}{9}$ B) $\frac{5}{12}$ C) $\frac{10}{24}$ D) $\frac{15}{36}$ E) $\frac{25}{60}$

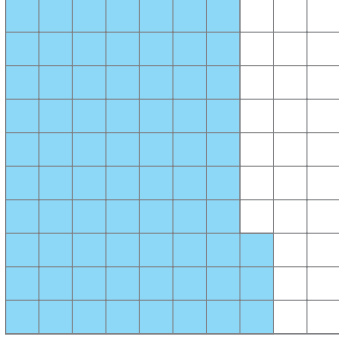
22. Aşağıdakilerin hangisinde verilen cebirsel ifadeler benzer terimler değildir?

- A) $3xy$ ile $4xy$ B) $9a$ ile $3a$
C) $3x$ ile $2x$ D) $5b$ ile $2b$
E) $7y$ ile 7

Elif matematik yazılılarının ilk ikisinden 61 ve 56 puan almıştır.

23. Puanlarının ortalamasının 70 olması için Elif'in üçüncü yazılıdan kaç puan alması gerekir?

- A) 83 B) 87 C) 91 D) 93 E) 90



24. Yukarıdaki kareli kâğıtta boyalı bölgenin yüzde sembolü ile gösterimi aşağıdakilerden hangisidir?

- A) %6,3 B) %7,3 C) %63 D) %73 E) %72

25. Aşağıdaki kümelerden hangisi boş kümedir?

- A) {Asal çift sayılar}
B) {20'nin kalansız bölünebildiği tek sayılar}
C) {2 den küçük asal sayılar}
D) {Karesi 25 olan doğal sayılar}
E) {10'dan küçük tek sayılar.}

35 kilometrelik yol her gün bir önceki gün asfaltlanan yoldan 2 km fazla asfaltlanarak 5 günde tamamlanmıştır.

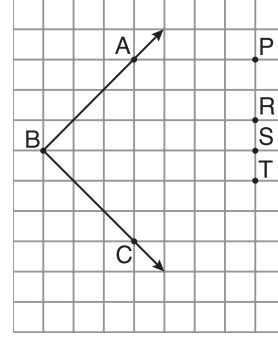
26. Buna göre ilk gün kaç kilometre yol asfaltlanmıştır?

- A) 3 B) 4 C) 5 D) 6 E) 7

Uğur peşin fiyatı 2100 lira olan cep telefonunu kredi kartı ile 8 eşit taksit ile ödeme yaparak satın almıştır.

27. Uğur'un cep telefonunu için ödeyeceği her taksit 275 lira olduğuna göre cep telefonunun taksitli fiyatı ile peşin fiyatı arasındaki fark kaç liradır?

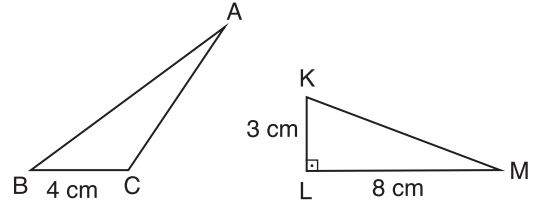
- A) 75 B) 100 C) 125 D) 200 E) 250



28. Kareli kâğıtta verilen \widehat{ABC} 'nin açıortayı P, R, S, T noktalarının hangisinden geçer?

- A) P B) R C) A D) T E) S

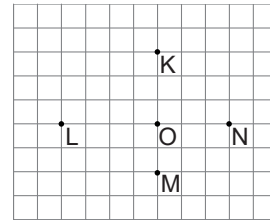
EKPSS MEBÖZEL



Şekildeki ABC ve KLM üçgenlerinde $[KL] \perp [LM]$, $BC = 4$ cm, $LM = 8$ cm ve $KL = 3$ cm'dir.

29. Bu üçgenlerin alanları birbirine eşit olduğuna göre \widehat{ABC} 'nin $[BC]$ kenarına ait yüksekliğinin uzunluğu kaç santimetredir?

- A) 6 B) 7 C) 8 D) 9 E) 10



30. Kareli kâğıtta verilen K, L, M ve N noktalarından ikisi, çizilecek O merkezli çemberin üzerinde olduğuna göre hangi nokta bu çemberin dış bölgesinde yer alır?

- A) K B) L C) M D) N E) O



1. Orta Asya'da kurulan ilk Türk Devleti aşağıdakilerden hangisidir?

- A) Uygur Devleti
- B) I. Kök Türk Devleti
- C) II. Kök Türk Devleti (Kutluk Devleti)
- D) Avrupa Hun Devleti
- E) Asya Hun Devleti

2. Aşağıdakilerden hangisi Malazgirt Muharebesi'nin ardından kurulan beyliklerden değildir?

- A) Danişmentliler
- B) Mengücekliler
- C) Saltuklular
- D) Çaka Beylikleri
- E) Osmanlı Beyliği

3. Orhan Bey dönemindeki aşağıdaki gelişmelerden hangisi Osmanlı Devleti'nin eğitime önem verdiğini gösterir?

- A) Divan teşkilatının oluşturulması
- B) İznik, İzmit ve Bursa'nın alınması
- C) İznik'te ilk Osmanlı medresesinin açılması
- D) Karesioğulları'na son verilmesi
- E) Bursa'nın Fethi

4. Osmanlı Devleti ordusunda devletten üç ayda bir maaş alan askerlere verilen isim aşağıdakilerden hangisidir?

- A) Tımarlı sipahiler
- B) Yeniçeriler
- C) Eyalet askerleri
- D) Akıncılar
- E) Topçular

5. Aşağıdakilerden hangisi Osmanlı toplum düzeninde yönetenler grubu içerisinde değerlendirilemez?

- A) Seyfiye
- B) İlimiye
- C) Saray halkı
- D) Esnafar
- E) Kalemîye

6. Aşağıdakilerden hangisi Mustafa Kemal Atatürk'ün, düşünce sisteminin oluşmasında fikirlerinden etkilendiği isimlerden biri değildir?

- A) Namık Kemal
- B) Mehmet Emin Yurdakul
- C) Evliya Çelebi
- D) Tevfik Fikret
- E) Ziya Gökalp

7. Aşağıdakilerden hangisi Atatürk dönemi Türk dış politikasının temel ilkelerinden biri değildir?

- A) Bağımsızlık
- B) Barışçılık
- C) Gerçekçilik
- D) Savaşçılık
- E) Karşılıklılık

8. Amasya Genelgesi'nin kararlarından hangisi milli egemenlik ile ilgilidir?

- A) Millet'in bağımsızlığını yine millet'in azim ve kararı kurtaracaktır.
- B) Doğu illeri adına 10 Temmuz'da Erzurum'da bir kongre toplanacaktır.
- C) İstanbul Hükûmeti, üzerine aldığı sorumlulukları yerine getirememektedir.
- D) Sivas'ta millî bir kongre tez elden toplanmalıdır.
- E) Millet'in durumunu göz önünde tutmak ve haklarını dile getirip bütün dünyaya duyurmak gerekmektedir.

9. Mondros Ateşkes "Antlaşmasından" sonra İzmir'i hangi devlet işgal etmiştir?

- A) İtalya
- B) Yunanistan
- C) İngiltere
- D) Almanya
- E) Hollanda



10. 1926 Ankara Antlaşması ile Irak'a bırakığımız toprak aşağıdakilerden hangisidir ?

- A) Şam B) Halep C) Beyrut
D) Tebriz E) Musul

11. Aşağıdakilerden hangisi siyasi alanda yapılan inkılaplardan biri değildir?

- A) Saltanatın Kaldırılması
B) Ankara'nın Başkent Oluşu
C) Cumhuriyetin İlanı
D) Üniversite Reformu
E) Halifeliğin Kaldırılması

12. Mustafa Kemal'in askeri ateşe olarak görev yaptığı şehir aşağıdakilerden hangisidir?

- A) Berlin B) Londra C) Roma
D) Sofya E) Paris

- I. Demokrat Parti
II. Serbest Cumhuriyet Fırkası
III. Terakkiperver Cumhuriyet Fırkası

13. Yukarıdaki partilerden hangisi Atatürk zamanında kurulan muhalefet partileri arasında yer almaz?

- A) Yalnız III B) Yalnız I C) I ve III
D) I ve II E) I, II ve III.

14. Demir-çelik fabrikalarının kuruluş yerinin belirlenmesinde dikkate alınan enerji kaynağı hangisidir?

- A) Krom B) Taş kömürü C) Bakır
D) Bor E) Mermer

15. Aşağıdakilerden hangisi Türkiye'de pamuklu dokuma sanayinin en fazla geliştiği şehirlerden biridir?

- A) Konya B) Karaman C) Aksaray
D) Adana E) Niğde

16. Aşağıdaki havalimanı ve bulunduğu şehir eşleştirmelerinden hangisi yanlıştır?

- A) Yenişehir - Bursa
B) Esenboğa - Ankara
C) Adnan Menderes - İzmir
D) Sabiha Gökçen - İstanbul
E) Süleyman Demirel - Kayseri

17. Türkiye'nin ihracatında en önemli paya sahip ülke ikilisi aşağıdakilerin hangisinde doğru verilmiştir?

- A) İtalya, Çin B) Yunanistan, Rusya
C) Almanya, Irak D) İspanya, İran
E) Fransa, Irak

18. Aşağıda verilen kültürel mirasların hangisinde tarihî öneme sahip yer bulunmaktadır?

- A) Harran Evleri
B) Erciyes Kayak Merkezi
C) Polovit Şelalesi
D) Cennet- Cehennem Obruğu
E) Tortum Şelalesi

19. Aşağıdakilerden hangisi Doğu Anadolu Projesi kapsamında yer alan illeri ekonomik yönden olumsuz etkileyen faktörlerden biridir?

- A) Yeryüzü şekillerinin engebeli olması
B) Geniş bir yüz ölçümüne sahip olması
C) Kış turizmi potansiyeline sahip olması
D) Tarihî ve kültürel yapılara sahip olması
E) Çeşitli yer altı kaynaklarına sahip olması

20. 1982 Anayasasına göre seçimlerin sa-
vaş sebebi ile 1 yıl ertelenmesine aşağıda-
kilerden hangisi karar verir?

- A) Cumhurbaşkanı B) TBMM
C) Anayasa mahkemesi D) MGK
E) YSK



21. 1982 Anayasasına göre özel bir tarih belirtilmedi ise kanunlar ne zaman yürürlüğe girer?

- A) Resmi gazetede yayımlandıktan 45 gün sonra
- B) Resmi gazetede yayımlandıkları gün
- C) Resmi gazetede yayımlandıktan 15 gün sonra
- D) Resmi gazetede yayımlandıktan 30 gün sonra
- E) Resmi gazetede yayımlandıktan 10 gün sonra

- I. Cumhurbaşkanı karamamesi
- II. Kanun
- III. Yönetmelik

22. Yukarıda verilenlerden hangileri yürütmenin düzenleyici normları arasında yer alır?

- A) I
- B) II
- C) I – II
- D) I – III
- E) I – II – III

- I. Siyasi haklar
- II. Sosyal ekonomik haklar
- III. Kişi hakları

23. 1982 Anayasasına göre Cumhurbaşkanı kararnamesi ile yukarıda verilen haklardan hangisinde düzenleme yapılabilir?

- A) I
- B) II
- C) III
- D) I-II
- E) I-II-III

24. 1982 Anayasasına göre siyasi partilerin mali denetimini yapan ve siyasi partilerin kapatılma davasına aşağıda verilen mahkemelerden hangisi bakmaktadır?

- A) Danıştay
- B) Yargıtay
- C) Sayıştay
- D) HSK
- E) Anayasa Mahkemesi

EKPSS MEBÖZEL

25. İl veya ilçenin kurulması kaldırılması hangi işlemle yapılır?

- A) Tüzük
- B) Yönetmelik
- C) K.H.K
- D) Kanun
- E) Cumhurbaşkanı karamamesi

26. “Mavi Boncuk”, “Soğuktu ve Yağmur Çiseliyordu”, “Divane” gibi yapımların da aralarında bulunduğu çok sayıda film ve dizide rol alan “Yeşilçam’ın sert yüzü” olarak tanıdığımız usta oyuncu aşağıdakilerden hangisidir?

- A) Yılmaz Güney
- B) Erol Taş
- C) Hulusi Kentmen
- D) Ekrem Bora
- E) Kadir Savun



27. Koronavirüs salgınından sonra öğretmen ve öğrencilerin iletişimini sağlayan, ulusal çapta 1600'den fazla ders ve 20 binin üzerinde etkileşimli içerik sunan dünyanın en büyük dijital eğitim platformu aşağıdakilerden hangisidir?

- A) MEBBİS
- B) EBA
- C) EDEVLET
- D) EĞİTİM
- E) CLASSROOM

28. 2021 yılı Avrupa Kültür Başkenti olarak ilan edilen "Temeşvar" kenti hangi ülke sınırları içerisinde yer alır?

- A) Kuzey Makedonya
- B) Arnavutluk
- C) Kosova
- D) Romanya
- E) Sırbistan

29. NASA tarafından Temmuz 2020 tarihinde Kızıl Gezegen Mars'a göndereceği uzay keşif aracının ismini aşağıdakilerden hangisi olarak belirlemiştir?

- A) Curiosity
- B) Perseverance
- C) Vision
- D) Fortitude
- E) Ingenuity

30. 2021 yılı "Ulaştırma ve Altyapı Bakanı" olarak görevini yürüten isim aşağıdakilerden hangisidir?

- A) Mehmet Cahit Turhan
- B) Fahrettin Koca
- C) Bekir Pakdemirli
- D) Mustafa Varank
- E) Adil Karaismailoğlu

EKPSS MEBÖZEL

CEVAP ANAHTARLARI

GENEL YETENEK

- | | | | | |
|------|-------|-------|-------|-------|
| 1) B | 7) E | 13) B | 19) D | 25) C |
| 2) A | 8) C | 14) A | 20) C | 26) A |
| 3) C | 9) A | 15) C | 21) A | 27) B |
| 4) E | 10) B | 16) C | 22) E | 28) D |
| 5) D | 11) B | 17) C | 23) E | 29) A |
| 6) B | 12) E | 18) B | 24) D | 30) B |

GENEL KÜLTÜR

- | | | | | |
|------|-------|-------|-------|-------|
| 1) E | 7) D | 13) A | 19) A | 25) D |
| 2) E | 8) A | 14) B | 20) B | 26) D |
| 3) C | 9) B | 15) D | 21) B | 27) B |
| 4) B | 10) E | 16) E | 22) D | 28) D |
| 5) D | 11) D | 17) C | 23) B | 29) B |
| 6) C | 12) D | 18) A | 24) E | 30) E |



ÖZEL EĞİTİM VE REHBERLİK HİZMETLERİ
GENEL MÜDÜRLÜĞÜ

MEBÖZEL
EKPS

ORTAÖĞRETİM
VE ÖN LİSANS



EKPSS MEBÖZEL DENEME SINAVI

Genel Yetenek - Genel Kültür

03



(I) Kelebekler genellikle çiçeklerin bal özümü beslenir. (II) Bacaklarında bulunan tat algılayıcılarının açılmasıyla üzerine kondukları çiçeklerdeki bal özünün tadını alırlar. (III) Bal özünü başlarının ön tarafında bulunan hortumla emerler. (IV) Normalde içe doğru kıvrık duran bu hortum, beslenirken açılır. (V) Bu kelebekler sıcakta yaşar.

1. Bu parçada numaralanmış cümlelerden hangisinde neden-sonuç ilişkisi vardır?

- A) I. B) II. C) III. D) IV. E) V.

2. Aşağıdaki cümlelerin hangisinde koşula bağlı bir durum söz konusudur?

- A) Bir ortamda mavi ışık azalırsa beyin, vücudu uyku moduna geçirir.
B) Küresel iklim değişikliklerinden dolayı birçok ülkede yağış miktarı azaldı.
C) İnsanın parmak izinin ömür boyu kalıcı olup olmadığı tartışılıyor.
D) Çölün güneye doğru ilerleyişini durdurmak için bölgeye ağaç dikilecek.
E) Yolda kalınca tamirciyi aradık.

İnsan bir şeyi aklına koymaya görsün, hiçbir şey erişilmeyecek kadar yüksekte değildir.

3. Bu cümlede aşağıdakilerden hangisi vurgulanmaktadır?

- A) Kıskançlık B) Öz güven
C) Kararlılık D) Çalışkanlık
E) Beklenti

4. Aşağıdaki cümlelerin hangisinde zıt anlamlı sözcükler kullanılmamıştır?

- A) Dinlenmenin gerçekleşebilmesi için zihnimize birlikte bedenimiz de yorulmalıdır.
B) Küçük iyiliklere kimse önem vermez oysa küçük kötülüklerin üzerinde herkes durur.
C) Karanlık bir sokakta titrek bir fener aydınlığı beliriverdi.
D) Çağımızdaki en büyük tehlike diğerlerinden farklı olmak isteyenlerin az olmasıdır.
E) Son günlerde havalar çok sıcakken bugün iyice soğudu.

Çile şimşeginin her çakışında, Dardin tezgâhında,
I

sert yaz nakışında / Bunca

II

yenilgi sarp Yokuşunda /Sabrım çiçek açtı,

III

IV

haberini var mı?

V

5. Bu dörtlükte numaralanmış sözcüklerden hangisi eş seslidir?

- A) I. B) II. C) III.
D) IV. E) V.

6. Aşağıdaki cümlelerin hangisinde abartma (mübalağa) sanatı yoktur?

- A) O kadar ağladı ki göz pınarları kurudu.
B) Dünyanın yükünü omuzlarımda taşıyorum.
C) Atın ne kadar susamış, ırmağın suyunu bitirdi.
D) Çocuğun ateşlendiğini duyunca hemen yanına koştum.
E) Dağ gibi bulaşık birikti.

Zaman zarfları, fiilin bildirdiği iş, oluş ve hareketin zamanını belirten zarflardır.

7. Buna göre aşağıdaki cümlelerin hangisinde zaman zarfı vardır?

- A) Derenin uğultusu akşamleyin iyice artardı.
B) Bahçede oynayan çocuklar içeri girdi.
C) Muhtar, buğday tarlasında sessizce ilerliyordu.
D) İlkbahar, tabiatın canlanmaya başladığı mevsimdir.
E) Senin eve neden gitmediğini sordum.

Öğretmenimin tavsiye ettiği romanı --- okudum.

8. Bu cümlede boş bırakılan yere aşağıdaki sözcüklerden hangisi getirilirse fiil, zaman yönünden belirtilmiş olur?

- A) tatilde B) sınıfta C) okulda
D) heyecanla E)evde

ÖZEL EĞİTİM VE REHBERLİK HİZMETLERİ
GENEL MÜDÜRLÜĞÜ

Hasan saatlerdir yürüyordu. Yürüdü yürüdü... Yürüdüğü yolda izler, gittikçe karşılıyordu. Hava karmak üzereydi. Yolun dönemecinde küçük bir tepenin önüne gelmişti. Dönemecin karşısında iki üç çınar ağacı ile bir çeşme vardı. Durmadı, yürüdü. Tepenin eteğini dönünce sarp bir yokuş gördü. "Buradan çıkamam." diye düşündü. Hemen çömeldi ve dinlenmeye karar verdi.

9. Bu parçada anlatılan olay, aşağıdaki zaman dilimlerinin hangisinde gerçekleşmiştir?

- A) Sabah B) Öğle
C) Akşamüstü D) Gece
E) Yazın

10. Aşağıdaki kelimelerden hangisi Türkçe Sözlük'te diğerlerinden sonra gelir?

- A) Ayrın
B) Yarasa
C) Kaban
D) Balık
E) Çınar

- Meryem: Kısa boylu ve siyah saçlı, genç bir kızdır.
- Meryem Manisa'da öğretmen olarak görev yapmaktadır.
- Eda: Hatay'da doktorluk yapmaktadır.
- Eda uzun boylu, siyah saçlı ve yaşlı bir kadındır.

11. Bu bilgilere göre Meryem ve Eda'nın ortak özelliği aşağıdakilerden hangisidir?

- A) Yaşları
B) Boyları
C) Meslekleri
D) Çalıştıkları Şehir
E) Saç Renkleri

Doğanın en önemli bileşeni, yeşil örtü yani bitkiler dünyasıdır. Bu düşünceden hareketle bitkileri tanımanın, onlarla dost olmanın ve onları insanlara sevdirmenin en büyük hayır işlerinden biri olacağını düşündüm ve bu botanik bahçesini kurdum. Bu bahçeyle, insanlara bitkilerin dünyasını tanıtmaya ve onları bitkiler konusunda bilinçlendirmeye çalışıyoruz.

12. Bu parça aşağıdaki sorulardan hangisine karşılık söylenmiş olabilir?

- A) Botanik bahçeniz ne zaman kuruldu ve nasıl büyüdü?
B) Bitkiler için çok emek harcıyorsunuz musunuz?
C) Bu botanik bahçesini niçin kurdunuz?
D) İnsanlara doğa sevgisi kazandırmak için neler yapılmalıdır?
E) Botanik bahçesi hangi şehirdedir.

Roman ve hikâyeler, olay üzerine kurulan yazı türlerindedir. Bu nedenle benzer yönleri vardır. Her ikisinde de gerçek veya gerçeğe yakın olayların anlatılması bu benzer yönlerden biridir. Ancak farklı yönleri daha fazladır. Hikâye, kısa ve orta uzunlukta olur; roman ise uzundur. Hikâyede kişi sayısı azdır, romanda fazladır. Hikâyeye, her zaman tek bir olay üzerine kurulur; romanda ise olaylar zinciri vardır.

13. Bu parçanın anlatımıyla ilgili aşağıdakilerden hangisi söylenemez?

- A) Tanımlama yapılmıştır.
B) Bilgilendirici bir metindir.
C) Örneklere başvurulmuştur.
D) Karşılaştırmadan yararlanılmıştır.
E) Betimlemelere yer verilmiştir.

Ankara'nın iklim özelliği, buradaki evlerin biçimlendirilmesinde önemli rol oynamıştır. Yaz ve kış arasındaki aşırı ısı farklılaşmasına göre kullanım da çeşitlenmiştir. Kalın duvarlı, küçük pencere alt katlar kışın; ince duvarlı, havadar üst katlar ise yazın kullanılmıştır. Yine iklime bağlı olarak yapılan geniş saçaklar ve "cihannüma" denen geniş yazlık odalar da Ankara evlerinin tipik özelliği olmuştur.

14. Aşağıdakilerden hangisi, Ankara evlerinin kışın kullanılan bölümünün özelliklerinden biri değildir?

- A) Duvarlarının kalın olması
B) Alt katta bulunması
C) Havaasının bol olması
D) Küçük pencere olması
E) Geniş yazlık odalarının olması

*Gelmeden kış, yağmadan kar,
Gidin gidin güzel kuşlar
Uzak güney illerinde
Bol yiyecek, bol güneş var.*

15. Bu dörtlüğe getirilebilecek en uygun başlık aşağıdakilerden hangisidir?

- A) Bahar Sevinci B) Doğa Sevgisi
C) Güneşli Günler D) Göçmen Kuşlar
E) Güneş

16. Aşağıdaki üslü ifadelerden hangisi 64 sayısına eşit değildir?

- A) 8^2 B) 4^3 C) 2^6 D) 1^{64} E) 64^1

3 4 5 8 10

17. Yukarıdaki kartlarda yazılan sayılardan 20'nin çarpanı olan sayıların toplamı kaçtır?

- A) 7 B) 9 C) 15 D) 19 E) 21

18. "- 3'ten büyük + 4'ten" küçük kaç tane tam sayı vardır?

- A) 2 B) 6 C) 7 D) 8 E) 9

19. " $\frac{5}{3} + \frac{7}{18} + \frac{2}{9}$ " işleminin sonucu kaçtır?

- A) $\frac{14}{30}$ B) $\frac{14}{18}$ C) $\frac{41}{54}$ D) $\frac{41}{18}$ E) $\frac{41}{27}$

20. "25,607" ondalık gösteriminin çözümlenmiş biçimi aşağıdakilerden hangisidir?

- A) $2 \cdot 10 + 5 \cdot 1 + 6 \cdot \frac{1}{10} + 7 \cdot \frac{1}{100}$
B) $2 \cdot 1 + 5 \cdot \frac{1}{10} + 6 \cdot \frac{1}{100} + 7 \cdot \frac{1}{1000}$
C) $2 \cdot 10 + 5 \cdot 1 + 6 \cdot \frac{1}{10} + 7 \cdot \frac{1}{1000}$
D) $2 \cdot 10 + 5 \cdot 1 + 6 \cdot \frac{1}{100} + 7 \cdot \frac{1}{1000}$
E) $2 \cdot 10 + 5 \cdot \frac{1}{10} + 6 \cdot \frac{1}{1000}$

Leblebi ve üzümünden oluşan 500 gramlık bir karışımda 200 gram leblebi vardır.

21. Karışımdaki leblebi miktarının üzüm miktarına oranı kaçtır?

- A) $\frac{1}{3}$ B) $\frac{2}{5}$ C) $\frac{3}{5}$ D) $\frac{2}{3}$ E) $\frac{4}{5}$

22. " $\frac{3x + 5}{8}$ " cebirsel ifadesinin $x = 9$ için değeri kaçtır?

- A) $\frac{27}{8}$ B) $\frac{31}{8}$ C) 5 D) 8 E) 4

8 kişilik bir grupta 3 erkek vardır. Erkeklerin kütlelerinin ortalaması 72 kg, kızların kütlelerinin ortalaması 54 kg'dır.

23. Tüm grubun kütlelerinin ortalaması kaç kilogramdır?

- A) 58,65 B) 59,25 C) 60,75
D) 63 E) 6,75

24. Aşağıdaki eşitliklerden hangisi yanlıştır?

- A) $\frac{7}{10} = \%70$ B) $\frac{11}{20} = \%55$
C) $\frac{8}{50} = \%18$ D) $\frac{75}{100} = \%75$
E) $\frac{3}{25} = \%12$

25. Aşağıdaki kümelerden hangisinin eleman sayısı diğerlerinden farklıdır?

- A) {30 sayısının asal çarpanları}
B) {10 sayısının çarpanları}
C) {PAPATYA kelimesinin harfleri}
D) {Karesi 10'dan küçük olan doğal sayılar}
E) {MAKARA kelimesinin harfleri }

Ahmet'in yaşının 4 eksiğinin 2 katı 18'dir.

26. Buna göre Ahmet kaç yaşındadır?

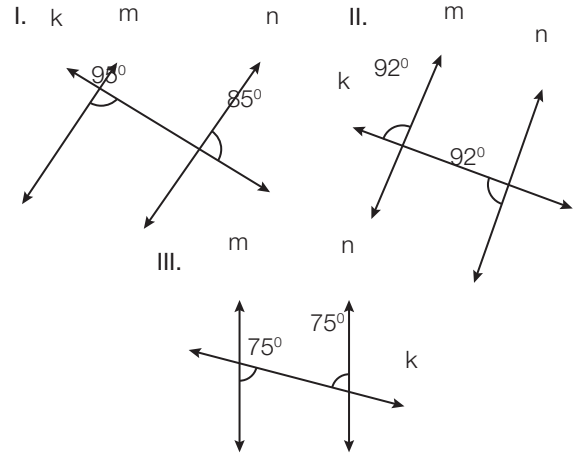
- A) 11 B) 12 C) 13 D) 14 E) 15

Bir yüzme kursunun kayıt ücreti 130 lira ve aylık ücreti 80 liradır.

Bu yüzme kursuna katılan bir kişi bir defalık kayıt ücreti ve devam ettiği her ay için aylık ücret ödemektedir.

27. Buna göre bu kursa kayıt olup 5 ay boyunca devam eden birinin ödeyeceği toplam ücret kaç liradır?

- A) 1050 B) 730 C) 530 D) 450 E) 390

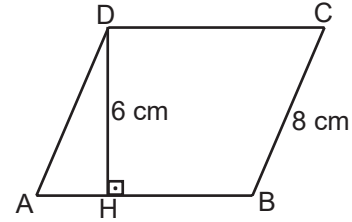


Şekillerde k doğrusu m ve n doğrularını kesmektedir.

28. Verilen açı ölçülerine göre hangi şekillerde verilen m ve n doğruları kesinlikle birbirine paraleldir?

- A) Yalnız I. B) I ve II. C) I ve III.
D) II ve III. E) Yalnız III.

EKPS MEBÖZEL



Şekildeki ABCD paralelkenarında $[DH] \perp [AB]$, $|DH| = 6 \text{ cm}$ ve $|BC| = 8 \text{ cm}$ 'dir.

29. Paralelkenarın çevre uzunluğu 38 cm olduğuna göre alanı kaç santimetrekaredir?

- A) 48 B) 58 C) 66 D) 72 E) 80

30. Çevre uzunluğu 32 cm olan karenin içine çizilebilecek en büyük çemberin yarıçapının uzunluğu kaç santimetredir?

- A) 4 B) 5 C) 6 D) 7 E) 8



1. Türk adını taşıyan ilk Türk Devleti aşağıdakilerden hangisidir?

- A) Uygur Devleti
B) I. Kök Türk Devleti
C) II. Kök Türk Devleti (Kutluk Devleti)
D) Avrupa Hun Devleti
E) Asya Hun Devleti

2. Aşağıdakilerden hangisi Türk-İslam tarihindeki eserlerden biri değildir?

- A) Kutadgu Bilig B) Divânü Lûgati't-Türk
C) Atabetü'l-Hakayık D) Divân-ı Hikmet
E) Orhun Abideleri

3. Yıldırım Bayezid'in Timur ile yaptığı Ankara Savaşı'ndan sonra Osmanlı Devleti'nde hangi dönem yaşanmıştır?

- A) Sokullu Dönemi B) Yükselme Dönemi
C) Kuruluş Dönemi D) Fetret Dönemi
E) Köprülüler Dönemi

4. Türkler tarafından tarihte, insanlara yardım etmek, ihtiyaçlarını karşılamak için kurulmuş hayır kuruluşlarına ne denirdi?

- A) Banka B) Kale C) Vakıf
D) Fabrika E) Kütüphane

5. Osmanlı Devleti'nin mensup olduğu boyun adı aşağıdakilerden hangisidir?

- A) Avşar B) Kınık C) Peçenek
D) Kayı E) Kıpçak

6. Mustafa Kemal'in öğrencilik yıllarından itibaren benimsediği düşünceler arasında aşağıdakilerden hangisi yer almaz?

- A) Çağdaşlaşma B) Demokrasi
C) Ümmetçilik D) Bağımsızlık
E) Özgürlük

7. Aşağıdakilerden hangisiyle Türk milleti siyasi ve hukuki alanda bağımsızlığını tüm dünyaya kabul ettirmiştir?

- A) Londra Antlaşması
B) Moskova Antlaşması
C) Lozan Barış Antlaşması
D) Sevr Antlaşması
E) Gümrü Antlaşması

8. Misak-ı Millî'ye dâhil olup Atatürk'ün vefatından hemen sonra anavatana katılan son toprak parçası aşağıdakilerden hangisidir?

- A) Hatay B) Musul C) Kerkük
D) Batum E) Edirne

9. Eğitimi çok başlılıktan kurtarmak, akılcı ve çağdaş bir yapıya kavuşturmak için yapılan inkılap aşağıdakilerden hangisidir?

- A) Tevhid-i Tedrisat Kanunu
B) Şapka Kanunu ve Kıyafette Değişim
C) Tekke, Zaviye ve Türbelerin Kapatılması
D) Cumhuriyetin İlanı
E) Türk Medeni Kanunu'nun Kabul Edilmesi

10. Aşağıdakilerden hangisi Kurtuluş Savaşı'nın komutanları arasında yer almaz?

- A) İsmet İnönü B) Kazım Karabekir
C) Fevzi Çakmak D) Ali Rıza Bey
E) Ali Fuat Cebesoy

Mustafa Kemal'in 24 Nisan 1920'de Meclise sunduğu önergede "Meclisin üstünde güç yoktur." hükmü yer almıştır.

11. Bu hüküm aşağıdaki kavramlardan en çok hangisiyle ilişkilidir?

- A) Ulusal egemenlik B) Millî ekonomi
C) Laiklik D) Çağdaşlık
E) Devletçilik

**12. Yabancı okullar sorunu en çok hangi ülke ile sorun olmuştur?**

- A) Japonya B) ABD C) Çin
D) Fransa E) İspanya

13. Kurtuluş Savaşının askeri safhasını bitiren savaş aşağıdakilerden hangisidir?

- A) Sakarya Savaşı B) I.İnönü
C) II.İnönü D) Gediz Savaşı
E) Büyük Taarruz

14. Aşağıdaki göller ve göllerin oluşumları eşleştirmesinden hangisi yanlıştır?

- A) Akşehir Gölü - Tektonik
B) Kestel Gölü - Karstik
C) Meke Gölü - Volkanik
D) Köyceğiz Gölü - Buzul gölü
E) Tortum Gölü - Heyelan set gölü

15. Çukurova, Bafra ve Çarşamba Deltası gibi alanlarda hangi tür toprak yaygın olarak görülür?

- A) Kahverengi orman B) Kestane renkli step
C) Regosol D) Kolüvyal
E) Alüvyal

16. Türkiye aşağıda verilen uluslararası kuruluşlardan hangisine üye değildir?

- A) İslam İşbirliği Teşkilatı
B) Petrol İhraç Eden Ülkeler Örgütü (OPEC)
C) Kuzey Atlantik Paktı (NATO)
D) Birleşmiş Milletler (BM)
E) Dünya Bankası

17. Aşağıdaki şehirlerimizin hangisinde yaz mevsiminde daha yüksek sıcaklık değerlerine rastlanır?

- A) Hatay B) Konya C) Malatya
D) Şanlıurfa E) Mersin

18. Aşağıdaki yer şekillerinden hangisinin oluşumunda iç kuvvetlerin doğrudan etkili olduğu söylenebilir?

- A.Çukurova Deltası
B. Pamukkale Travertenleri
C. Toros Dağları
D. Damlataş Mağarası
E. Çarşamba Ovası

Ülkemizde bazı şehirlerin gelişip büyümesinde kara yollarının kavşak noktasında bulunması etkili olmuştur.

19. Aşağıda verilen şehirlerimizden hangisinin gelişimi üzerinde bu durumun etkisi daha fazladır?

- A) Afyonkarahisar B) Zonguldak
C) Gümüşhane D) Isparta
E) Hakkâri

20. TBMM Bütçe komisyonu kaç üyeden oluşmaktadır?

- A) 75 B) 55 C) 40 D) 15 E) 7

21. Vergi kanunlarına karşı iptal davası aşağıda verilen hangi mahkemeye açılır?

- A) Danıştay
B) İdare mahkemesi
C) Bölge idare mahkemesi
D) Vergi mahkemesi
E) Anayasa mahkemesi

- I) Cumhurbaşkanı
II) Bakanlıklar
III) Kamu Tüzel kişileri

22. 1982 Anayasasına göre yukarıda verilenlerden hangileri yönetmelik çıkarabilir?

- A) I B) II C) III D) I-II E) I-II-III



23. 1982 Anayasasına göre ülke çapında uygulanacak olan yönetmeliklerin yargısal denetimini aşağıdakilerden hangisi yapar?

- A) Anayasa Mahkemesi
B) Yargıtay
C) Danıştay
D) İdare mahkemesi
E) Sayıştay

24. 1982 Anayasasına göre Yargıtay üyelerini aşağıdakilerden hangisi seçer?

- A) Cumhurbaşkanı B) TBMM
C) HSK D) Adalet Bakanı
E) Anayasa Mahkemesi

25. Aşağıdakilerden hangisi seçimle işbaşına gelmez?

- A) Ankara İl Genel Meclisi
B) Binatlı Köyü İhtiyar Heyeti
C) Çankaya İlçe Belediye Meclisi
D) Geldi Gördük köy muhtarı
E) Batman Valisi

26. Asistanından öğrencisine kadar “herkesin sevdiği ulu bir çınar” olarak nitelendirilen, yeni tip koronavirüs (Kovid-19) nedeniyle ülkemizde yaşamı yitiren ilk doktorumuz aşağıdakilerden hangisidir?

- A) Feriha Öz B) Murat Dilmener
C) Cemil Taşcıoğlu D) Sinan Kaki
E) Yavuz Kalaycı

27. Temmuz 2020 tarihinde hayata gözlerini yuman, “Fikrimin İnce Gülü”, “Duvarların Dışında” ve “Bir Düşün Gecesi” eserleri ile tanıdığımız, 20. yüzyıl Türk edebiyatının en önemli romancılarından biri kabul edilen yazar aşağıdakilerden hangisidir?

- A) Suat Yalaz B) Adalet Ağaoğlu
C) Rahşan Ecevit D) Nuri Pakdil
E) Tunca Yönder

28. Geçtiğimiz günlerde NASA'nın twitter üzerinden yaptığı paylaşımda; Mars'taki Jezero Krateri' nin jeolojik açıdan benzerlik gösterdiğine dikkat çektiği Salda Gölü hangi şehrimizdedir?

- A) Isparta B) Manisa C) Denizli
D) Konya E) Burdur

29. 6'ncı yüzyılda inşa edilen Münzevi Mar Yakub Manastırını barındıran, Tarihi İpek Yolu'nun bir kısmının da bulunduğu Türkiye'nin en son milli parkı ilan edilen Botan Vadisi hangi şehrimizdedir?

- A) Bitlis B) Siirt C) Van
D) Kars E) Erzincan

“Mâddetü'l-Hayât” adlı eserinde: “Hastalıkların insanlarda birer birer ortaya çıktığını sanmak yanlıştır. Hastalıklar insandan insana bulaşmak suretiyle geçer. Bu bulaşma, gözle görülemeyecek kadar küçük, fakat canlı tohumlar vasıtasıyla olur” diyecek,

30. Bundan beş yüz sene önce dünya tarihinde “ilk kez” mikrobun tarifini yapan İstanbul'un manevî fatihi ve büyük İslam âlimi aşağıdakilerden hangisidir?

- A) Hacı Bayram-ı Veli B) Molla Fenari
C) Ali Kuşçu D) Akşemseddin
E) Şeyh Edebali

EKPSS MEBÖZEL

CEVAP ANAHTARLARI

GENEL YETENEK

- 1) D 7) A 13) E 19) D 25) A
2) A 8) A 14) B 20) C 26) C
3) C 9) C 15) D 21) D 27) C
4) D 10) B 16) D 22) E 28) C
5) B 11) E 17) D 23) C 29) C
6) D 12) C 18) B 24) C 30) A

GENEL KÜLTÜR

- 1) B 7) C 13) E 19) A 25) E
2) E 8) A 14) D 20) C 26) C
3) D 9) A 15) E 21) E 27) B
4) C 10) D 16) B 22) E 28) E
5) D 11) A 17) D 23) C 29) B
6) C 12) D 18) C 24) C 30) D



ÖZEL EĞİTİM VE REHBERLİK HİZMETLERİ
GENEL MÜDÜRLÜĞÜ

MEBÖZEL
EKPS

ORTAÖĞRETİM
VE ÖN LİSANS



EKPSS MEBÖZEL DENEME SINAVI

Genel Yetenek - Genel Kültür

04



1. Aşağıdaki cümlelerde altı çizili sözcüklerden hangisi kişi zamiri değildir?

- A) Siz neden eve geç geldiniz?
B) Ablamlar sizi yolda gördü.
C) Su kitabı bana versene.
D) Yaz tatilinde onlara gitmeyin.
E) Sınıftaki öğrenciler benden ders kitap aldılar.

2. “Ne yapacağını bilememek” anlamında kullanılan deyim aşağıdakilerden hangisidir?

- A) Etekleri tutuşmak
B) Eli ayağına dolaşmak
C) Eteğindeki taşları dökmek
D) Etekleri zil çalmak
E) Eteğinde dolanmak

Kültürün yüzlerce tanımı vardır. Bundan daha doğal bir şey de olamaz. Çünkü kültür, farklı olma hâlidir; farklılığın ürünüdür. İnsanların farklı coğrafyalarda, farklı iklimlerde kurdukları hayat biçimidir. Her bir aile, her bir topluluk kendi inancının, kendi ürününün, kendi tarzının kültürünü oluşturur. O hâlde kültürün en önemli özelliği farktır, farklılıktır.

3. Aşağıdakilerden hangisi bu metnin anahtar sözcüklerinden biri değildir?

- A) İnsan B) Kültür C) Farklılık
D) İklim E) Coğrafya

(I) Ülkemizin en büyük adası olan Gökçeada, Çanakkale'nin bir ilçesidir. (II) Ülkemizin en batı noktası olan İnce burun, bu adada bulunuyor. (III) Gökçeada halkının geçim kaynaklarından biri zeytinciliktir. (IV) Adada ayrıca Türkiye'nin en lezzetli zeytinyağı da üretilmektedir. (V) Bu zeytinyağları ihraç da edilmektedir.

4. Bu parçada numaralanmış cümlelerin hangisinde öznel anlatım vardır?

- A) I. B) II. C) III. D) IV E) V

Sokullu Mehmet Paşa'nın, koca kavuğu ve uzun boyuyla, elleri önünde bağlı, gözleri yerde, yavaş yavaş saltanat arabasına yaklaştığını gördüm.

5. Bu cümleyle ilgili aşağıdakilerden hangisi söylenebilir?

- A) Tanımlama cümlesidir.
B) Betimleme cümlesidir.
C) Karşılaştırma cümlesidir.
D) Abartma cümlesidir.
E) Varsayım cümlesidir.

6. Aşağıdaki cümlelerin hangisinde sebep-sonuç anlamı vardır?

- A) Aşağı yukarı bir ay önce bu mahalleye taşındı.
B) Masanın üzerindeki dergilerden birini alıp okumaya başladı.
C) Şehrin gürültüsünden bir an önce uzaklaşmak istiyordu.
D) Eski şarkıları dinlediği için derin hayallere daldı.
E) Akşam evde yemekte birlikte olalım.

Öznel anlatım, kişisel görüşler içerir. Nesnel anlatım ise kişisel görüşlerden uzak, kanıtlanabilir yargılarla oluşturulur.

7. Buna göre aşağıdaki cümlelerin hangisinde nesnel anlatım vardır?

- A) Sanatçının son kitabı onuncu baskısını yaptı.
B) Bu güzel deniz insana huzur veriyor.
C) Yeni gömleğin sana çok yakışmış.
D) Maç izlemek çok eğlenceli bir etkinliktir.
E) Dağlardaki ormanlara hayran kaldım.



(I) En şiddetli fırtınaların yaşandığı Neptün gezegeninin tahminen 12 uydusu bulunur. (II) Uydulardan biri olan Triton, buz kütleli şekildedir ve uzaya gaz ile çamur püskürtür. (III) Neptün, dünyadan bakıldığında görülmemektedir çünkü oldukça soluk bir gezegendir. (IV) Teleskop ile bakıldığında ise yeşilimsi renge sahip, disk biçiminde bir gezegen olduğu görülür. (V) Bu gezegenler güneş sisteminde bulunabilir.

8. Bu parçada numaralanmış cümlelerin hangisinde bir durum, nedeniyle birlikte verilmiştir?

- A) I. B) II. C) III. D) IV E) V

9. “Bakmak” sözcüğü aşağıdaki cümlelerin hangisinde “Bir şeyin yüzü bir yöne doğru olmak” anlamında kullanılmıştır?

- A) Limana bakan pencereden deniz görünüyor.
B) Yıllardır, beş çocuklu bir aileye bakıyor.
C) Saatini bulamayınca üzgün gözlerle etrafa baktı.
D) Dilekçelere, karşı masadaki bayan bakıyor.
E) Sana bakan gözler heyecan duyuyor.

- I. Türkçe, kök ve eklerden oluşan bir dildir.
II. Şarkının notalarını unuttunca duraksadı.
III. Babam bugün yurt dışı gezisine çıktı.
IV. Farklı etkinlikler yaparak da dinlenebiliriz.

10. Numaralanmış cümlelerin hangilerinde terim anlamı sözcük kullanılmıştır?

- A) I ve II. B) I ve III. C) II ve IV.
D) III ve IV. E)Yalnız I

11. Aşağıdaki dizelerden hangisinde kişileştirme vardır?

- A) Ah bu türküler, köy türküleri
Mis gibi insan kokar, mis gibi toprak
B) Bahçende çiçekler açsın hep böyle,
Gül eksik olmasın vazondan.
C) Akşam rüzgârları der ki Ali'ye
“Gözler ileriye, gönül ileriye!..”
D) Ateşin yeni bulunduğu çağlarda
Yine böyle yanardı bu lambalar
E) Bir tutam Şile bezi gibi,
Dışimden tırnağıma kadar.

Tut ki Karadeniz gezisine bu yaz çıktın ne yaparsın?

12. Bu cümleye hâkim olan duygu aşağıdakilerden hangisidir?

- A) Öfke B) Şaşırma C) Sitem
D) Varsayım E) Pişmanlık

Termosa sıcak su bulunduğu kolay kolay soğumaz veya soğuk su bulunduğu kolay kolay ısınmaz. Bunun nedeni vakum yani hava boşluğudur. Bir termosta iç içe geçmiş iki kap bulunur. Dıştaki, metal koruyucu bir kap; içteki ise plastik veya camdır. Bu iki kap arasında, uzayda olduğu gibi boşluk yani vakumlanmış hava vardır. Bu boşlukta ısıyı ileten hiçbir molekül bulunmadığı için ısı sabit kalır.

13. Bu parçada aşağıdakilerden hangisi anlatılmaktadır?

- A) Termosun kullanım amaçları
B) Termosun ısıyı sabit tutmasının nedeni
C) Isıyı sabit tutmanın önemi
D) Günümüzde termosu olan ihtiyacın artması
E) Moleküllerin yapısı

İnsanlık tarihi boyunca binlerce bilimsel icat, dünyamızın gelişimine yön verdi. Bilime önem veren ülkeler kalkındı, bilimde geri olan ülkeler çağ dışı kaldı. Biz de kalkınmak ve bağımsız olarak yaşamak istiyorsak bilimde ilerlemek zorundayız. Çünkü bilgi, en büyük güçlerden biridir.

14. Bu parçaya getirilebilecek en uygun başlık aşağıdakilerden hangisidir?

- A) Bilim ve Gelişme
B) Gelişmiş Ülkeler
C) Bilimin Doğuşu
D) Bilim Tarihi
E) Bilim

(I) Güney Koreli bir grup girişimci, görme engelliler için bir akıllı saat tasarladı. (II) Saatin ekranında yukarı ve aşağı doğru hareket edebilen çıkıntılar var. (III) Girişimcilerin "Dot" adını verdikleri bu saat, kablosuz bağlantı kurarak diğer cihazlardan gelen mesajları alıyor. (IV) Bu çıkıntılar, mesajların, görme engellilerin kullandığı Braille alfabesiyle gösterilmesini sağlıyor.

15. Bu parçada numaralanmış cümlelerden hangilerinin yerleri değiştirilirse parçanın anlam bütünlüğü sağlanmış olur?

- A) I ve III. B) I ve IV. C) II ve III.
D) II ve IV. E) Yalnız III

I. $60 : 5 - 2 \cdot 4 = 4$

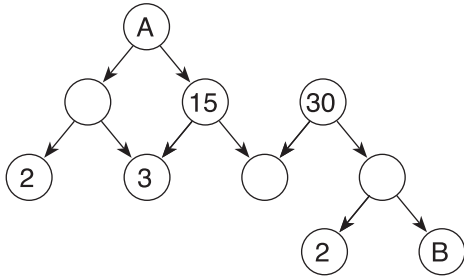
II. $4 + 8 \cdot 6 : 3 = 24$

III. $(6^2 + 2^2) : 10 - 2 = 5$

IV. $2^6 : 4 + 4 \cdot (21 - 2) = 92$

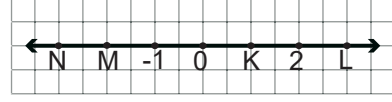
16. Yukarıdaki eşitliklerden kaç tanesi doğrudur?

- A) 1 B) 2 C) 3 D) 4 E) Hiçbiri



17. Yukarıdaki çarpan ağacına göre A ve B sayıları hangi seçenekte doğru olarak verilmiştir?

- | | A | B |
|----|----|---|
| A) | 90 | 2 |
| B) | 90 | 3 |
| C) | 75 | 2 |
| D) | 75 | 3 |
| E) | 60 | 3 |



18. Kareli kâğıtta verilen sayı doğrusuna göre aşağıdakilerden hangisi yanlıştır?

- A) $K = + 1$ B) $L = + 3$ C) $M = - 2$
D) $N = - 4$ E) $N = - 3$

19. " $3 \frac{1}{4} - 1 \frac{2}{3}$ " işleminin sonucu kaçtır?

- A) $1 \frac{7}{12}$ B) $1 \frac{5}{6}$ C) $2 \frac{1}{12}$
D) $2 \frac{5}{6}$ E) $2 \frac{5}{12}$

I. $5,647 \approx 5,65$

II. $26,874 \approx 26,874$

III. $123,269 \approx 123,26$

IV. $80,701 \approx 80,7$

Yukarıda ondalık gösterimi verilen sayıların yüzde birler basamağına göre yuvarlanmış biçimleri yanlarına yazılmıştır.

20. Bu yazılışlardan kaç tanesi doğrudur?

- A) 1 B) 2 C) 3 D) 4 E) 0

Aşağıdaki tabloda kız ve erkek öğrenci sayılarının kurslara göre dağılımı verilmiştir.

Tablo: Öğrenci Sayılarının Kurslara Göre Dağılımı

Öğrenciler Kurslar	Kız	Erkek
Gitar	12	18
Dans	20	15
Bağlama	8	10
Voleybol	18	27

21. Tabloya göre hangi kurslardaki kız öğrencilerin sayısının o kurstaki tüm öğrencilerin sayısına oranı birbirine eşittir?

- A) Gitar - Voleybol B) Dans - Voleybol
C) Bağlama - Dans D) Gitar - Bağlama
E) Gitar- Dan

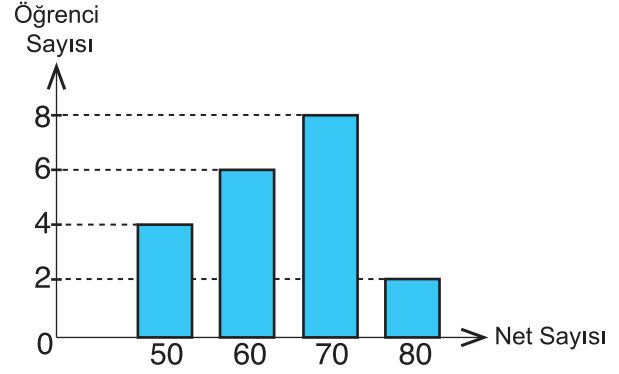
Ahmet'in x tane bilyesi vardır. Tarık'ın bilyelerinin sayısı Ahmet'in bilyelerinin sayısının 2 katından 7 eksiktir.

22. Buna göre Tarık'ın bilyelerinin sayısını gösteren cebirsel ifade aşağıdakilerden hangisidir?

- A) $7x - 2$ B) $2x + 2$ C) $2x + 7$
D) $7x + 2$ E) $2x - 7$

Bir sınıftaki öğrencilerin deneme sınavında yaptıkları netlerin sayılarına göre dağılımı aşağıdaki grafikte verilmiştir.

Grafik: Net Sayılarına Göre Öğrenci Dağılımı



23. Bu sınıftaki öğrenciler deneme sınavında ortalama kaç net yapmışlardır?

- A) 62 B) 63 C) 64 D) 65 E) 60

24. Ondalık gösterimi 0,2 olan sayının yüzde sembolü ile gösterimi aşağıdakilerden hangisidir?

- A) %2 B) %20 C) %40 D) %50 E) %25

$A = \{20 \text{ sayısının asal olmayan çarpanları}\}$ kümesi veriliyor.

25. Buna göre aşağıdakilerden hangisi yanlıştır?

- A) $1 \in A$ B) $2 \in A$ C) $4 \in A$
D) $5 \notin A$ E) $20 \in A$

Zehra'nın kitaplarının sayısının 2 fazlasının 3 katı Mustafa'nın kitaplarının sayısına eşittir.

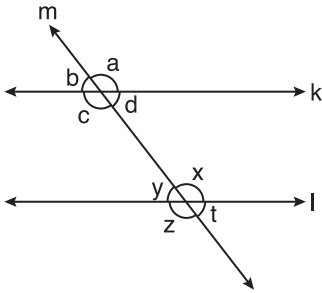
26. Mustafa'nın 27 kitabı olduğuna göre Zehra'nın kaç kitabı vardır?

- A) 7 B) 8 C) 10 D) 11 E) 12

Bir çiftlikteki koyun ve tavukların ayak sayılarının toplamı 214'tür.

27. Bu çiftlikte 33 tane koyun olduğuna göre tavukların sayısı kaçtır?

- A) 37 B) 41 C) 74 D) 82 E) 35



Şekilde m doğrusunun birbirine paralel k ve l doğrularını kesmesiyle oluşan açılar harflerle isimlendirilmiştir.

28. Buna göre aşağıda verilen eşitliklerden hangisi yanlıştır?

- A) $a = z$ B) $c + x = 180^\circ$
C) $b + x = 180^\circ$ D) $d = t$
E) $y + z = 180^\circ$

29. Alanı 48 cm^2 olan bir üçgenin tabanının ve bu tabana ait yüksekliğinin uzunluğu aşağıdakilerden hangisi olabilir?

- A) 24 cm - 4 cm B) 16 cm - 12 cm
C) 8 cm - 16 cm D) 6 cm - 8 cm
E) 3 cm - 14 cm

30. Aşağıdakilerden hangisi bir daire modeli olabilir?

- A) Yüzük B) Simit C) Madeni Para
D) Bilezik E) Basketbol potası

**1. İlk Türklerde yazısız hukuk kurallarına ne ad verilirdi?**

- A) Kurultay B) Koşuk C) Töre
D) Sav E) Sagu

2. Selçukluların Bizans ile yaptığı ilk savaş aşağıdakilerden hangisidir?

- A) Pasinler Savaşı
B) Dandanakan Savaşı
C) Miryokefalon Savaşı
D) Katvan Savaşı
E) Talas Savaşı

3. Osmanlı Devleti'nde donanma komutanına ne ad verilirdi?

- A) Vezir B) Kaptan-ı Derya
C) Sadrazam D) Kazasker
E) Yeniçeri Ağası

4. Osmanlı Devleti'nde devlet işlerinin görüşülüp karara bağlandığı yönetim organı aşağıdakilerden hangisidir?

- A) Divan-ı Hümayun B) Kurultay
C) Harem D) Enderun
E) Medrese

5. Müslüman milletlerin Osmanlı halifesinin liderliğinde tek bir çatı altında birleşmesini savunan fikir akımı hangisidir?

- A) İslamcılık B) Devletçilik
C) Batıcılık D) Halkçılık
E) Turancılık

6. Mustafa Kemal Atatürk'ün askerlik hayatındaki ilk görev yeri neresidir?

- A) Kırım B) Berlin C) Paris
D) Roma E) Şam

7. Aşağıdakilerden hangisi ekonomik bağımsızlığı sağlamaya yönelik bir gelişmedir?

- A) Tekâlif-i Milliye emirlerinin uygulanması
B) Sivas Kongresi'nin toplanması
C) Direniş cemiyetlerinin kurulması
D) Kapitülasyonların kaldırılması
E) Ankara'nın başkent yapılması

8. Türkiye'nin nüfus mübadelesi konusunda sorun yaşadığı ülke aşağıdakilerden hangisidir?

- A) Belçika B) Norveç
C) Yunanistan D) Pakistan
E) Mısır

9. Terakkiperver Cumhuriyet Fırkasının genel başkanlığını yapan Mili Mücadele kahramanı kimdir?

- A) Celal Bayar B) Ziya Gökalp
C) Namık Kemal D) Yahya Kemal Beyatlı
E) Kazım Karabekir Paşa

10. TBMM Hükûmeti Doğu Cephesi'nde hangi ülke ile mücadele etmiştir?

- A) İspanya B) Ermenistan
C) İskoçya D) İrlanda
E) Finlandiya

11. Yeni Türk Devleti'nin ilk Anayasası aşağıdakilerden hangisidir?

- A) Teşkilat-ı Esasiye
B) Magna Carta
C) Tanzimat Fermanı
D) Sened-i İttifak
E) Meşrutiyet



12. Mondros Ateşkes Antlaşması'ndan sonra gerçekleşen işgallere karşı halkın oluşturduğu milis kuvvetler aşağıdakilerden hangisidir?

- A) Nizam-Cedit B) Yeniçeri
C) Kuva-yı Milliye D) Tımarlı Sipahi
E) Cebelü

13. TBMM'nin siyasi varlığını tanıyan ilk devlet aşağıdakilerden hangisidir?

- A) Romanya B) Meksika
C) Kanada D) Ermenistan
E) Çin

Karstik erimelerin devam etmesi ile birlikte uvaların aralarındaki sınırlar ortadan kalkar ve polye adı verilen çapları kilometreleri bulan en büyük karstik aşınım şekilleri oluşur. Bunlara aynı zamanda polye ovası denir.

14. Aşağıdakilerden hangisi Türkiye'deki polye ovalarındandır?

- A) Harran B) Çukurova
C) Korkuteli D) Gediz
E) Ceylanpınar

15. Aşağıdaki göllerden hangisi oluşum bakımından diğerlerinden farklıdır?

- A) Tuz Gölü B) İznik Gölü
C) Sapanca Gölü D) Salda Gölü
E) Akşehir Gölü

Oba göçebe yaşayan ailelerin hayvancılık yapmak amacıyla oluşturduğu geçici yerleşmelere denir. Genellikle çadırlardan oluşan bu yerleşmelerin sayıları giderek azalmaktadır.

16. Bu yerleşmeler aşağıdaki yerlerin hangisinde daha çok görülür?

- A) Toros dağları B) Hakkarî Yöresi
C) Biga yarımadası D) Ergene Havzası
E) Mardin Eşiği

17. Aşağıdaki kıyı tiplerinden hangisi Türkiye'nin Karadeniz kıyılarında görülür?

- A) Enine Kıyılar B) Boyuna Kıyılar
C) Ria Kıyılar D) Limanlı Kıyılar
E) Dalmaçya Kıyılar

18. Aşağıdaki illerin hangisinde tarıma dayalı mevsimlik göç yaşanmaz?

- A) Rize B) Adana C) Antalya
D) Ordu E) Giresun

19. Cumhurbaşkanı yardımcısı ve Bakanlar hakkında meclis soruşturmasının açılması için en az kaç milletvekilinin yazılı teklifi gereklidir?

- A) 301 B) 360 C) 400 D) 413 E) 450

I- Cumhurbaşkanı

II- Siyasi parti grupları

III- En az 20 milletvekili

20. Yukarıda verilenlerden hangileri meclis araştırması ve genel görüşme talebinde bulunabilir?

- A) I B) II C) III D) I-II E) I-II-III

21. Cumhurbaşkanı olağanüstü hali en fazla kaç ay için ilan edebilir?

- A) 2 B) 3 C) 4 D) 5 E) 6

22. TBMM her seferinde olağanüstü hal süresini kaç ay uzatabilir?

- A) 1 B) 2 C) 3 D) 4 E) 5

I- Cumhurbaşkanı

II- HSK

III- TBMM

23. 1982 Anayasasına göre yukarıda verilenlerden hangilerinin Danıştay'a üye seçme yetkisi vardır?

- A) I B) II C) III D) I-II E) I-II-III



24. Merkezi idarenin yerinden yönetim kuruluşları üzerinde denetim yetkisi kullanmasına ne ad verilir?

- A) Hiyerarşi B) Vesayet
C) Yetki genişliği D) Kamu hizmeti
E) Kolluk hizmeti

25. 2020 yılı Hazine ve Maliye Bakanlığı görevini yürüten isim aşağıdakilerden hangisidir?

- A) Mahmut Özer
B) Mevlüt Çavuşoğlu
C) Naci Ağbal
D) Murat Çetinkaya
E) Lütfi Elvan

26. Türkiye Cumhuriyet Merkez Bankası Başkanı (TCMB) görevini yürüten isim aşağıdakilerden hangisidir?

- A) Berat Albayrak
B) Mevlüt Çavuşoğlu
C) Şahap Kavcıoğlu
D) Murat Çetinkaya
E) Murat Uysal

27. 2021 UNESCO Dünya Kitap Başkenti ilan edilen şehir aşağıdakilerden hangisidir?

- A) Bakü B) Tiflis C) Konya
D) Taşkent E) Nur-Sultan

28. 2021 Avrupa Kültür Başkenti seçilen Temeşvar kendi hangi ülkededir?

- A) Bulgaristan B) Sırbistan
C) Yunanistan D) Romanya
E) Belçika

29. 2021 yılı Dünya Sağlık Örgütü (DSÖ) tarafından ne yılı olarak ilan edilmiştir?

- A) Küresel Salgın ile Mücadele Yılı
B) Hemişe Yılı
C) Uluslararası Covid-19 ile Mücadele Yılı
D) Erişebilirlik Yılı
E) Uluslararası Sağlık Çalışanları Yılı

30. 3 semavi dinin bir arada yaşamış olduğu, "Medeniyetler Bahçesi" temasıyla 2021 EXPO'ya ev sahipliği yapacak olan şehrimiz aşağıdakilerden hangisidir?

- A) Hatay B) Eskişehir C) Antalya
D) İzmir E) Gaziantep

EKPSS MEBÖZEL

CEVAP ANAHTARLARI

GENEL YETENEK

- 1) C 7) A 13) B 19) A 25) B
2) B 8) C 14) A 20) B 26) A
3) D 9) A 15) C 21) A 27) B
4) D 10) A 16) B 22) E 28) B
5) B 11) C 17) B 23) C 29) A
6) D 12) D 18) D 24) B 30) C

GENEL KÜLTÜR

- 1) C 7) D 13) D 19) A 25) E
2) A 8) C 14) C 20) E 26) C
3) B 9) E 15) D 21) E 27) B
4) A 10) B 16) A 22) D 28) D
5) A 11) A 17) B 23) D 29) E
6) E 12) C 18) C 24) B 30) A



ÖZEL EĞİTİM VE REHBERLİK HİZMETLERİ
GENEL MÜDÜRLÜĞÜ

MEBÖZEL
EKPS

ORTAÖĞRETİM
VE ÖN LİSANS



EKPSS MEBÖZEL DENEME SINAVI

Genel Yetenek - Genel Kültür

05



1. “Kurmak” sözcüğü aşağıdaki cümlelerden hangisinde “Bir şeyi oluşturan parçaları birleştirerek bütün duruma getirmek” anlamında kullanılmıştır?

- A) Dünyanın en büyük devletlerini kuranlar kimlerdi?
B) Geniş çölde çadırlarımızı kurup keşfe çıktık.
C) Demeği, ilçede sevilip sayılan bir avukat kurmuştu.
D) Çocukça bir sevinçle kurduğu saat çalyor.
E) Okulda kurduğu tiyatro kulübü oyun hazırlıyor.

- Onun kabiliyetli bir genç olduğunu hemen anlamış.
- Doğum günü için güzel bir hediye aldım.
- Trafikte uyarı levhalarına dikkat etmeliyiz.
- Bu sabah hastaneye çok erken gittik.
- Yaşlı adam durakta bekliyordu.

2. Aşağıdakilerden hangisi, bu cümlelerdeki altı çizili sözcüklerden herhangi birinin eş anlamlısı değildir?

- A) İkaz B) Armağan C) Çabuk
D) Yetenekli E) İhtiyar

Yapım ekleri, sonuna geldiği sözcüğün anlamını değiştiren eklerdir.

3. Buna göre aşağıdakilerin hangisinde “sebze” sözcüğünün aldığı ek, yapım eki değildir?

- A) Sağlıklı olmak istiyorsan sebzedden vazgeçme.
B) Sebzelik, balkondaki dolabın yanında duruyor.
C) Sebzeli pilav yaptım bugün, gel de yiyelim.
D) Bugün sebze gelmediği için patlıcan alamadım.
E) Evdeki sebzelik fazla dayanamayarak kırıldı.

4. Aşağıdaki altı çizili sözcüklerden hangisinin aldığı ek diğerlerinden farklıdır?

- A) Bu yıl tarladan verim alamadık.
B) Giyim sektörü hızla geliyor.
C) Sınıftaki yerim çok güzel bence.
D) Seçim çalışmaları devam ediyor.
E) Gözlük takınca daha iyi görüyor.

“-cık” eki, sözcüklerin sonuna gelerek küçültme, acıma, azlık, sevgi, şefkat bildiren adlar türetir.

5. Buna göre “-cık” eki aşağıdaki altı çizili sözcüklerin hangisine “küçültme” anlamı katmamıştır?

- A) Bademcikler, boğaza gelen mikropları filtreler.
B) Kitapçığını kontrol etmeden teslim etme sakın!
C) Bu müzik aletinde kamıştan yapılan borucuklar vardır.
D) Bu büyük adanın etrafında birçok adacık vardır.
E) Kutu gibi küçücük bir evi vardı.

Devler gibi eserler bırakmak için karıncalar gibi çalışmak gerekir.

6. Bu özdeyişe anlamca en yakın atasözü aşağıdakilerden hangisidir?

- A) Ayağını yorganına göre uzat.
B) Görünen köy kılavuz istemez.
C) Emek olmadan yemek olmaz.
D) Çürük tahta çivi tutmaz.
E) Yuvarlanan taş yosun tutmaz.

Ahmet, odasında bir tıkırtı duydu. İçeri girip baktı. Yatağının karşısındaki koltukta ufak tefek, garip bir adam oturuyordu. Onu görünce ödü koptu.

7. Bu parçadaki altı çizili deyim anlamı aşağıdakilerden hangisidir?

- A) Çok şaşımak
B) Baygınlık geçirmek
C) Sesi çıkmaz olmak
D) Çok korkmak
E) Çok üzölmek



8. Aşağıdaki altı çizili sözcüklerin hangisinde ünsüz türemesi vardır?

- A) Sabahçı olduğunu öğrenince çok sevindi.
B) Senin için hissettiklerim hep olumlu görüşler oldu.
C) Bu saatte nereye gidiyorsun, diye sordu.
D) Ağacın altına oturup kitap okuyalım.
E) Kitapçıda bazı işlerim var.

Mars da Dünya gibi 4,5 milyar yaşında ve Dünya'nın yaklaşık yansı büyüklüğünde. Mars'ın bugünkü ortalama sıcaklığı yaklaşık -60 derece. --- eski dönemlerde daha sıcak olduğu, büyük göller ve okyanuslarla çevrili olduğu düşünülüyor.

9. Bu parçada boş bırakılan yere anlam akışına göre aşağıdakilerden hangisi getirilmelidir?

- A) Başka bir deyişle
B) Fakat
C) Bundan dolayı
D) Çünkü
E)Galiba

10. Aşağıdaki cümlelerden hangisi yay ayaç içinde verilen duyguyu yansıtmaz?

- A) Sen kitap yazacaksın da biz de göreceğiz! (Küçümseme)
C) Yollar buz tutarsa köye nasıl gideceğiz? (Kaygı)
D) Ona karşı biraz daha anlayışlı olsaydık bunları yaşamazdık! (Pişmanlık)
B) Bir oda dolusu odunu tek başına kırmış! (Sitem)
E) Tut ki okul birincisi oldun ne hissedersin? (Varsayım)

(I) Bir kostüm içine girmiş insan izlenimi veren dev pandaların soyu ne yazık ki tehlike altında. (II) Ana besin kaynağı bambu yaprakları ve dalları olan dev pandaların doğal yaşam alanı Çin'in iç batı kesimleridir. (III) Burada üç bin kadar pandanın bulunduğu tahmin ediliyor. (IV) İki yüz elliye aşkın panda ise dünyanın çeşitli ülkelerindeki hayvanat bahçelerinde yaşıyor. (V) Pandalar sevimli özellikleriyle insanların kalbini ısıtırlar.

11. Bu parçada numaralanmış cümlelerin hangisinde "üzülme" anlamı vardır?

- A) I. B) II. C) III. D) IV. E) V

Endonezya'nın Açe bölgesinde dün sabah on balina karaya vurdu. Kendi çabalarıyla suya dönemeyen balinalara civar köylerden gelen insanlar yardım etti. Balinaları kimi köylüler tekneleriyle, kimileri de elleriyle denize iterek hayata döndürmeye çalıştı. Balinalardan üçü için artık çok geçti çünkü yapacak bir şey kalmamıştı.

12. Bu metnin türü aşağıdakilerden hangisidir?

- A) Hikâye B) Fabl C) Masal
D) Haber yazısı E) Gezi yazısı

Ana dilimizin her sözcüğü bize farklı bir tat verir. "Sevgili, biricik, yeşil, duygu, şiir" sözcükleri ne kadar tatlıdır! "Güç, kuvvet, kudret" sözcüklerinde sanki bir güç gizlidir. "Aslan, kaplan, kartal"da sanki bir yücelik vardır. "Kuş"ta kuşun civıltısını, "yılan"da yılanın yerde sürünüşünü, "toprak"ta toprağın katlılığını duyarız. "Gülümsemek"te gülümseyişin tatlılığı, "düşünmek"te düşüncenin derinliği var gibidir. Her biri ayrı bir tat, ayrı bir güzelliştir.

13. Bu parçaya getirilebilecek en uygun başlık aşağıdakilerden hangisidir?

- A) Sözcüklerin Tadı
B) Dil ve Kültür
C) Sözcüklerin Anlamları
D) Dilin Gelişimi
E) Dil ve Toplum

TILKI İLE ÜZÜMLER

Çok acıkan bir tilki, asmalarında üzümü bol olan bir bağa girmiş. Üzümler öyle güzel görünüyormuş ki tilkinin ağzının suyu akmış. Sonunda tepedeki bir salkıma göz dikmiş. Tepedeki üzüm salkımlarından yiyebilmek için can havliyle sıçramış da sıçramış, zıplamış da zıplamış ama ne yapsa nafiye. Üzüm salkımları çok yukarıdaymış bir türlü yetişememiş. Sonunda pes etmek zorunda kalmış. Üzüm yemekten vazgeçerek kendi kendine mırıldanmış: «Aman! Zaten bu üzümlerin hepsi ekşi görünüyor!»

14. Bu metnin ana fikrini aşağıdaki öğrencilerden hangisi doğru tahmin etmiştir?

- A) Deniz: Tilki aç kalınca üzüm yemeyi planlamış.
B) Burak: Tilkiler çok kurnaz hayvanlardır.
C) Nesrin: İnsanlar elde edemedikleri şeyleri kötüler.
D) Bahar: İsteddiğimiz şeye ulaşamayınca pes etmeliyiz.
E) Mehmet: Sevgi her şeyi çözer.

İHTİYAR NALBANT

Hayvanları
En çok seven sensin
İhtiyar Nalbant
Koca
Demir levhaları keserek
Ne güzel de
Ayakkabılar yapıyorsun
Bayram çocukları gibi
Onları sevindirdiğinde
Mutlu oluyor musun?

15. Bu şiirin ana duygusu nedir?

- A) Hayvan sevgisi
B) Yaşama sevinci
C) Yalnızlık korkusu
D) Bayram coşkusu
E) Mevsim

$$3^3 - 2^3 : (5^0 + 3^1)$$

16. İşleminin sonucu kaçtır?

- A) 3 B) 5 C) 19 D) 25 E) 22

Mehmet telefonunun dört basamaklı şifresinin bazı rakamlarını unutmuştur.

17. 1 ▲ 5 ■ şeklindeki şifresinin 2, 5 ve 9 ile bölünebildiğini hatırladığına göre ▲ + ■ kaçtır?

- A) 3 B) 6 C) 9 D) 12 E) 15

18. Sayı doğrusunda m ve n tam sayılarının arasındaki uzaklık 6 birim olduğuna göre bu sayılar aşağıdakilerden hangisi olabilir?

- A) m = -1 ve n = +7
B) m = -4 ve n = +3
C) m = -9 ve n = -3
D) m = -10 ve n = -2
E) m = -2 ve n = +6

19. Aşağıdaki işlemlerden hangisinin sonucu bir tam sayıdır?

- A) $6.1 \frac{1}{4}$ B) $5 \frac{1}{2}$ C) $14 \frac{1}{6}$
D) $20.2 \frac{1}{10}$ E) $10 \frac{1}{2}$

**20. Aşağıdaki eşitliklerden hangisi yanlıştır?**

- A) $5,3 \cdot 4 = 21,2$ B) $9 \cdot 2,08 = 18,72$
C) $1,5 \cdot 2,1 = 3,05$ D) $1,25 \cdot 3,8 = 4,75$
E) $4 \cdot 2,7 = 29,4$

Bir aracın gittiği yolun kalan yola oranı $\frac{2}{6}$ 'dir.

21. Bu aracın kalan yolunun tüm yola oranı kaçtır?

- A) $\frac{1}{4}$ B) $\frac{3}{4}$ C) 3 D) 4 E) 2

22. Termometre $x^{\circ}\text{C}$ yi gösterirken sıcaklık 8°C azalırca termometrenin göstereceği sıcaklığı ifade eden cebirsel ifade aşağıdakilerden hangisidir?

- A) $-x - 8$ B) $8 - x$ C) $x + 8$
D) $8x$ E) $x - 8$

23. Yaş ortalaması 23 olan 11 kişilik bir gruba 35 yaşında bir kişi daha katılırsa grubun yeni yaş ortalaması kaç olur?

- A) 24 B) 25 C) 27 D) 29 E) 30

- $0,4 \square \% 35$
- $\frac{8}{10} \Delta \% 80$
- $\%50 \blacksquare 0,55$

24. Yukarıda \square , Δ ve \blacksquare yerine yazılması gereken semboller aşağıdakilerden hangisidir?

	\square	Δ	\blacksquare
A)	<	<	<
B)	>	=	<
C)	<	=	>
D)	>	<	>
E)	>	>	<

Kerem'in matematik, fen ve teknoloji, Türkçe, sosyal bilgiler ve İngilizce derslerine ait yıl sonu karnelerinin sırasıyla 92, 76, 84, 94 ve 89 dur.

25. Buna göre

- I. Kerem'in bu dersler arasından karnelerinin ortalamasının yüksek olduğu derslerden oluşan kümenin liste yöntemiyle gösterimi {Matematik, Sosyal Bilgiler} şeklindedir.
- II. Kerem'in bu dersler arasından karnelerinin ortalamasının düşük olduğu derslerden oluşan kümenin Venn şeması yöntemi ile gösterimi

- Fen ve teknoloji
• Türkçe
- şeklindedir.

- III. Kerem'in bu dersler arasından karnelerinin ortalamasının yüksek olduğu derslerinden oluşan kümenin eleman sayısı 3 dır.

ifadelerinden hangileri doğrudur?

- A) Yalnız I. B) I ve II. C) I ve III.
D) II ve III. E) Yalnız III.

22 TL'si bulunan Özlem günde 2 TL, 10 TL'si bulunan Melih günde 4 TL biriktirmektedir.

26. Kaç gün sonra Özlem ve Melih'in paraları eşit olur?

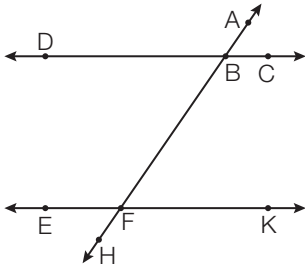
- A) 5 B) 6 C) 7 D) 8 E) 9

20 soruluk çoktan seçmeli bir sınavda Kerem 2 soruyu boş bırakmıştır.

Bu sınavda her doğru cevap için 5 puan verilirken her yanlış cevap için 2 puan silinmektedir.

27. Kerem'in 76 puan aldığı bu sınavdaki doğru ve yanlış cevap sayıları hangi seçenekte doğru olarak verilmiştir?

	<u>Doğru</u>	<u>Yanlış</u>
A)	18	2
B)	17	1
C)	16	2
D)	15	3
E)	14	4



Şekilde AH doğrusu, birbirine paralel olan DC ve EK doğrularını sırasıyla B ve F noktalarında kesmektedir.

28. Buna göre aşağıdakilerden hangisi yanlıştır?

- A) \widehat{EFA} ile \widehat{AFK} bütünler açılarıdır.
 B) \widehat{ABC} ile \widehat{AFK} yöndeş açılarıdır.
 C) \widehat{ABD} ile \widehat{HFK} dış ters açılarıdır.
 D) \widehat{ABC} ile \widehat{DBH} iç ters açılarıdır.
 E) \widehat{EFH} ile \widehat{ABC} dış ters açılarıdır.

29. Aşağıdaki eşitliklerden hangisi yanlıştır?

- A) $5 \text{ km}^2 = 5 \ 000 \ 000 \text{ m}^2$
 B) $12 \ 000 \text{ cm}^2 = 1,2 \text{ m}^2$
 C) $280 \ 000 \text{ mm}^2 = 0,28 \text{ m}^2$
 D) $0,8 \text{ m}^2 = 80 \ 000 \text{ cm}^2$
 E) $40000 \text{ cm}^2 = 4 \text{ m}^2$

30. Yarıçapının uzunluğu 4 cm olan çemberin uzunluğu kaç santimetredir? (π yerine 3 alınız.)

- A) 8 B) 12 C) 18 D) 24 E) 20



1. Türk tarihinin ve edebiyatının kabul edilen ilk yazılı belgeleri olan Orhun Abideleri, günümüzde hangi ülke sınırları içerisinde bulunmaktadır?

- A) İran B) Türkiye C) Türkistan
D) Moğolistan E) Çin

2. İlk Türk denizcisi kimdir?

- A) Çaka Bey
B) Artuk Bey
C) Alp Arslan
D) Ebul Kasım Saltuk Bey
E) Danişment Ahmet Gazi

3. İstanbul'un Fethi'ni gerçekleştiren padişah hangisidir?

- A) Kanuni Sultan Süleyman
B) Fatih Sultan Mehmet
C) Orhan Bey
D) Abdülaziz
E) Yavuz Sultan Selim

Osmanlı Devleti'nin ilk medresesi Orhan Gazi tarafından İznik'te kurulmuştur.

4. Bu durum Osmanlıların aşağıdaki alanlardan hangisine önem verdiğine kanıt gösterilebilir?

- A) Mimari B) Eğitim C) Sağlık
D) Ticaret E) Sanat

5. Aşağıdakilerden hangisi Osmanlı Devleti'ni dağılmaktan kurtarmak amacıyla uygulanmak istenen fikir akımlarından biri değildir?

- A) Osmanlıcılık B) Batıcılık
C) İslamcılık D) Türkçülük
E) Devletçilik

6. Aşağıdakilerden hangisi Atatürk'ün belirlediği millî dış politikada uyulması gereken esaslardan biri değildir?

- A) Bağımsızlık B) Gerçekçilik
C) Akılcılık D) Eşitlik
E) Yayılmacılık

7. Türkiye Büyük Millet Meclisi 23 Nisan 1920' de hangi ilimizde açılmıştır?

- A) Ankara B) İstanbul C) Erzurum
D) Çorum E) İzmir

8. Mondros Ateşkes Antlaşması'ndan sonra yurdumuzu işgal eden devletler arasında hangisi yoktur?

- A) İsviçre B) İngiltere C) Fransa
D) İtalya E) Yunanistan

9. Mustafa Kemal'in "Anafartalar Kahramanı" unvanını aldığı cephe aşağıdakilerden hangisidir?

- A) Galiçya B) Kanal C) Çanakkale
D) Filistin E) Makedonya

10. Aşağıdakilerden hangisi azınlıkların çıkardıkları isyanlardan biridir?

- A) 30 Mart İsyanı
B) Celali İsyanı
C) Şeyh Bedrettin İsyanı
D) Yeniçeri İsyanları
E) Ermeni İsyanları

11. Aşağıdakilerin hangisi Atatürk İlkelelerinden biri değildir?

- A) Cumhuriyetçilik B) Milliyetçilik
C) Halkçılık D) Devletçilik
E) Ümmetçilik



12. Maraş'ta Kuvay-i Milliye hareketine öncülük eden kişi aşağıdakilerden hangisidir?

- A) Rauf Orbay B) İsmet İnönü
C) Kazım Karabekir D) Sürçü İmam
E) Refet Bele

“Bir ulus, sınırsız birbirine bağlı olmayı bildikçe yeryüzünde onu dağıtabilecek bir güç düşünülemez.”

13. Mustafa Kemal Atatürk bu sözü ile aşağıdakilerden hangisinin önemine vurgu yapmıştır?

- A) Millî birlik ve beraberlik
B) Sosyal Devlet Anlayışı
C) Mili Ekonomi
D) Düzenli Ordu
E) Batıcılık

14. Aşağıda verilen turistik mekânlarla yapılan eşleştirmelerden hangisi yanlıştır?

- A) Kapadokya-Nevşehir
B) Hasan Dağ-Aksaray
C) Mevlana Müzesi-Konya
D) Ölüdeniz-Antalya
E) Efes- İzmir

15. DAP (Doğu Anadolu Projesi) uygulama alanında hangi turizm etkinliği öne çıkarılamaz?

- A) Kış turizmi etkinlikleri
B) Rafting
C) Su sporları
D) Termal Turizm
E) Yat turizmi

16. Kaynağını başka bir ülkeden alıp ülkemizde denize dökülen akarsulara aşağıdakilerden hangisi örnek gösterilir?

- A) Asi B) Aras C) Kura
D) Çoruh E) Fırat

17. Aşağıdakilerden hangisi Türkiye’de sık görülen afetler arasında yer almaz?

- A) Sel ve taşkınlar B) Deprem
C) Heyelan D) Volkanizma
E) Çığ

D-8, üye ülkeler arasında ekonomik ve ticari işbirliğini hedefleyen bir kuruluştur.

18. Aşağıdakilerden hangisi, D-8’e üye olan ülkeler arasında yer almaz?

- A) Türkiye B) İran
C) Endonezya D) Brezilya
E) Nijerya

19. Bitki örtülerini yükselti basamaklarına göre sıralamaya çalışırsak, en yüksekte yer alan tür aşağıdakilerden hangisi olur?

- A) Maki B) İğne yapraklı orman
C) Garig D) Alpin çayır
E) Step

20. TBMM Üyeliklerinde ne yüzde kaç ek-silme olması durumunda ara seçim yapılır?

- A) %3 B) %5 C) %7
D) %9 E) %10

21. Bir siyasi partinin mecliste grup oluşturabilmesi için en az kaç milletvekili gereklidir?

- A) 10 B) 15 C) 20
D) 25 E) 30

22. Cumhurbaşkanı kararnamesi ile ilgili aşağıdaki ifadelerden hangisi yanlıştır?

- A) İlk kez 1982 anayasası ile gelmiştir
B) Cumhurbaşkanı tarafından çıkarılır
C) Sadece sosyal ve ekonomik haklar düzenlenebilir
D) Kanunla düzenlenen bir konuda çıkarılamaz
E) Yargısal denetimini Danıştay yapar

ÖZEL EĞİTİM VE REHBERLİK HİZMETLERİ
GENEL MÜDÜRLÜĞÜ

- I. Yönetmelik
II. Cumhurbaşkanlığı Kararnamesi
III. Kanun

23. Yukarıda verilenlerden hangileri özel bir tarih belirtilmedi ise resmi gazetede yayımlandığı gün yürürlüğe girer?

- A) I B) II C) III D) I-II E) I-II-III

24. 1982 Anayasasının 2017 değişikliği ile aşağıdakilerden hangisi aşağıdakilerden hangisi yüce divanda yargılananlar arasına eklenmiştir?

- A) Danıştay Başkanı
B) Genelkurmay Başkanı
C) TBMM Başkanı
D) Jandarma Genel Komutanı
E) Cumhurbaşkanı Yardımcısı

25. Vali aşağıdakilerden hangisinin kararı ile atanır?

- A) TBMM Başkanı
B) TBMM
C) Cumhurbaşkanı yardımcısı
D) Cumhurbaşkanı
E) Genelkurmay Başkanı

26. 2022 yılına kadar nükleer santrallerini kapatma kararı alan ülke aşağıdakilerden hangisidir?

- A) Almanya B) Rusya C) ABD
D) İtalya E) Japonya

27. 2021 yılı Uluslararası Akdeniz oyunlarına ev sahipliği yapacak ülke aşağıdakilerden hangisidir?

- A) İtalya B) Türkiye C) Cezayir
D) Fransa E) Tunus

28. Türk demokrasi tarihinde “kara bir leke” olan 27 Mayıs 1960 darbesinin 60. yılında, Cumhurbaşkanı Erdoğan tarafından açılışı yapılan “Demokrasi ve Özgürlükler Adası” nın eski adı aşağıdakilerden hangisidir?

- A) Kınalıada B) Heybeliada
C) Büyükada D) Yassıada
E) Burgaz Adası

29. UNESCO Dünya Mirası Geçici Listesi'ne dahil edilen, Kuşadası'nın simgelerinden biri olan “Güvercinada Kalesi” hangi ilimizdedir?

- A) Muğla B) İzmir C) Aydın
D) Antalya E) Çanakkale

30. Havacılık ve Uzay Ajansı (NASA)'nın dokuz yıl aradan sonra Dünya yörüngesine iki astronot ile gönderdiği ilk insanlı uzay mekiğinin adı aşağıdakilerden hangisidir?

- A) Luna B) Sierra C) Sputnik
D) Soho E) SpaceX

CEVAP ANAHTARLARI

GENEL YETENEK

- | | | | | |
|------|-------|-------|-------|-------|
| 1) B | 7) D | 13) A | 19) D | 25) B |
| 2) C | 8) B | 14) C | 20) C | 26) B |
| 3) A | 9) B | 15) B | 21) B | 27) C |
| 4) C | 10) B | 16) D | 22) E | 28) D |
| 5) A | 11) A | 17) A | 23) A | 29) D |
| 6) C | 12) D | 18) C | 24) B | 30) D |

GENEL KÜLTÜR

- | | | | | |
|------|-------|-------|-------|-------|
| 1) D | 7) A | 13) A | 19) D | 25) D |
| 2) A | 8) A | 14) D | 20) B | 26) A |
| 3) B | 9) C | 15) E | 21) C | 27) C |
| 4) B | 10) E | 16) A | 22) E | 28) D |
| 5) E | 11) E | 17) D | 23) E | 29) C |
| 6) E | 12) D | 18) D | 24) E | 30) E |



ÖZEL EĞİTİM VE REHBERLİK HİZMETLERİ
GENEL MÜDÜRLÜĞÜ

MEBÖZEL
EKPS

ORTAÖĞRETİM
VE ÖN LİSANS



EKPSS MEBÖZEL DENEME SINAVI

Genel Yetenek - Genel Kültür

06



Elif, teyzesiyle birlikte kırtasiyeye gider. Kendisine okuma kitabı seçmek istemektedir. Raflarda göz gezdirirken bir kitap dikkatini çeker ve hemen sayfalarını karıştırmaya başlar. Bir anda kendisini bulutların üzerinde gezinirken ve kuşlarla sohbet ederken bulur.

1. Bu metne göre Elif, kırtasiyede hangi türde yazılmış bir kitabı beğenmiştir?

- A) Şiir B) Masal C) Tekerleme
D) Fıkra E) Gezi yazısı

Teknolojik gelişmeler hayatımızın her alanında var olmaya başladı. Ancak aynı çatı altında ama birbirinden habersiz yaşayan ailelerin sayısı da her geçen gün artıyor. Teknolojinin insanlara zaman kazandırması gerekirken, teknoloji günümüzde zaman kaybetmenin ve vakit öldürmenin en aldatıcı tuzağı hâline geldi.

2. Yukarıdaki paragrafın ana düşüncesi hangi seçenekte verilmiştir?

- A) Teknolojinin insanların sağlığına zararlı olduğu
B) İnsanların aynı çatı altında yaşamadığı
C) İnsanların teknolojiyi olması gerektiği gibi kullanmadığı
D) Teknolojiyi kullanan ailelerin birbirinden habersiz olduğu
E) Teknolojinin her geçen gün ilerlediği

“Kerem, güreşte çok yetenekliydi. Ama içinde bulunduğu şartlar, bu sporu yapmasını engelliyordu. Kerem, her şeye rağmen çok çalışarak başaracağına inanıyordu.”

3. Aşağıdakilerden hangisi Kerem’in düşüncesine uygun bir deyimdir?

- A) Sırtı yere gelmemek
B) Göze girmek
C) İçi içine sığmamak
D) Baş koymak
E) Burnu sürtmek

4. Aşağıdakilerin hangisinde soru işareti doğru kullanılmıştır?

- A) Benimle alışverişe kim gelmek ister?
B) Havalar karardı mı eve gideriz?
C) Bu olayı ne zaman anlattığını hatırlamıyorum?
D) Akşam oldu mu sürüler ağıllarına döner?
E) Gündüz oldu mu işe giderim?

Benim ufak bir odam var,
Dinleniyor orada başım.
İçindeki şu kitaplar,
En sevgili arkadaşım.

...
Kitap ruhun kaynağıdır,
Bu kaynaktan iç arkadaş;
Kitap ilmin uğrağıdır,
Ektiğini biç arkadaş.

5. Yukarıdaki şiirin ana duygusu hangisidir?

- A) Dostluğun önemi B) Kitap sevgisi
C) Eve bağlılık D) Doğa sevgisi
E) Bayrak sevgisi

Eş sesli (sesteş) sözcükler, yazılışları aynı ama anlamları farklı olan sözcüklerdir. “Yüz” kelimesi bağlamdan hareketle farklı anlamlarda kullanılabilir. Örneğin; Bu sözcükleri yüz defa tekrar ettim. Ertuğrul’un yüzünde kumazca bir gülümseme var. Buradaki örneklerden de anlaşılacağı gibi “yüz” sözcüğü farklı anlamlara gelecek şekilde kullanılabilir. Bu tarz sözcüklere eş sesli sözcükler denir.

6. Buna göre aşağıdaki cümlelerin hangisinde sesteş sözcükler bir arada kullanılmıştır?

- A) Yeni yaşımı güzel bir yaş pastayla kutladık.
B) Öğrenciler tören için alanda toplandı.
C) Yaz aylarında kuşlar buraya göç eder.
D) Dünya’nın kendi etrafında döndüğünü biliyor muydun?
E) Bu kış havalarda daha soğuk olacak.



7. Aşağıdaki ifadelerin hangisinde altı çizili söz grubu deyim değildir?

- A) Tüm gün gereksiz konuşmalarıyla başımı şişirdi.
- B) Bazen ağzından çıkanı kulağın duymuyor.
- C) Dün gece döndüm durdum, gözümü kırpmadım.
- D) Yeter artık deyip kapıyı çarpıp gitmiş.
- E) Yaptıklarından sonra burnundan soludu.

Sözcükler, bazen anlamı güçlendirmek ve zenginleştirmek için gerçek anlamı dışında kullanılır. Bu tür sözcüklere mecaz anlamlı sözcükler denir.

1. Pikniğe gidemeyince çok üzüldü.
2. Bu filme bayıldım.
3. Çocuklar parkta oynuyordu.
4. Zeynep'e çok kırıldım.
5. Yemek çok acı olmuş.

8. Numaralanmış cümlelerdeki altı çizili sözcüklerden hangileri mecaz anlamıyla kullanılmıştır?

- A) 1-5 B) 2-4 C) 2-5 D) 3-4 E) 1-2

9. Aşağıdaki cümlelerin hangisinde altı çizili kelime terim anlamlıdır?

- A) Ağaçtan sepet sepet elma topladık.
- B) Okul çıkışında müzik kursuna gideceğim.
- C) Boyaları karıştırmak için palet kullandım.
- D) Bütün çabasını başarılı olmak için harcadı.
- E) Okulda derslerde başarılı olmak için çalışıyor.

Ardıç ağacı güzel kokulu; parlak siyah, kozalak şeklinde meyveleri olan, sivri ve uzun yapraklı bir ağaçtır. Meyvesinin çok faydalı olmasıyla bilinir. Ortalama 8-9 metreye kadar uzayabilir ve yüzyıllarca yaşayabilir. Binlerce yıldan beri Türk kültürünün sembol ağaçlarından biri olmuştur. Ardıç ağaçları, yapraklarında ve tohumlarında bulunan kimyasal özellikler sebebiyle pek çok hastalığın tedavisi için ilaç sektöründe yaygın biçimde kullanılmaktadır.

10. Metinde, ardıç ağacı ile ilgili aşağıdaki bilgilerden hangisi verilmemiştir?

- A) Yapraklarının şekli
- B) Boylarının ne kadar olduğu
- C) Tohumlarının kullanım alanı
- D) Uzun yıllar yaşamasının nedeni
- E) Meyvesinin faydalı olduğu

Sultanlar Şehri Edirne Osmanlı Dönemi'ne ait en güzel eserlere ev sahipliği yapan Edirne hem yerli hem de yabancı turistlerin uğrak noktasıdır. Edirne'deki en önemli eser Mimar Sinan'ın ustalık eserim diye adlandırdığı Selimiye Camisi'dir. Köprüler şehri olarak da adlandırılan Edirne; bedestenleri, medreseleri ve müzeleri ile de görülmeye değer bir şehirdir. Sadece tarihî eserleri ile değil doğal güzellikleri ile de ilgi çeken Edirne'nin Saroz Körfezi'ndeki plajları turist akınına uğramaktadır. Ata sporu olarak bilinen ve gelenekselleşen yağlı güreş müsabakaları her yıl Edirne'nin Kırkpınar ilçesinde düzenlenmektedir. Zengin bir mutfak kültürüne de sahip olan Edirne'nin ciğer tava, beyaz peyniri, badem ezmesi ve kavala kurabiyesi meşhurdur.

Metne göre 11. ve 12. soruları çözünüz.

11. Okuduğunuz metne göre Edirne'nin meşhur yiyecekleri nelerdir?

- A) Ciğer tava - köfte - badem ezmesi - beyaz peynir
- B) Kavala kurabiyesi - badem ezmesi - beyaz peynir - ciğer tava
- C) Beyaz peynir - ciğer tava - badem ezmesi - kebab
- D) Kavala kurabiyesi - köfte - ciğer tava - badem ezmesi
- E) Kavala kurabiyesi - köfte - ciğer tava - iskender



**12. Metne göre Edirne ile ilgili hangisi söy-
lenemez?**

- A) Turistik bir şehirdir.
- B) Oldukça eski bir tarihe sahiptir.
- C) Ekonomisi el sanatlarına dayanmaktadır.
- D) Edirne'de denize girilebilmektedir.
- E) Edirne "Sultanlar Şehri" orak da bilinir.

Öğretmenimiz, Salih'in ayağını incittiği haberini üzümlere verdi. Çok endişelendim. Okul çıkışı arkadaşlarımla Salih'i ziyarete gittik. Ayağını, ağaçtan inemeyen bir kediye kurtarmaya çalışırken incittiğini öğrendik. Salih, ayağına üzülmüyordu ancak kediyeye yardım ettiği için de çok mutluydu.

13. Yukarıdaki metinde Salih'in hangi özelliğinden söz edilmektedir?

- A) Alçak gönüllü olması
- C) Vefalı olması
- B) Hayvan sever olması
- D) Bilgili olması
- E) Çalışkan olması

Hacivat: Hadi şimdi de deyimlere bir göz gezdirelim.

Karagöz: Olmaz!.. Ben gözlerimi çok severim.

Hacivat: Yine neyi yanlış anladın Allah aşkına?

Karagöz: Neyi yanlış anlayayım? Ben gözümü gezdiremem, mikrop kapar.

Hacivat: İlahi Karagöz'üm! Göz gezdirmek öyle bir şey mi?

Karagöz: Ya nedir doğrusu, açıkla bakalım?

14. Bu konuşmada geçen "göz gezdirmek" deyiminin anlamı aşağıdakilerden hangisidir?

- A) Bir yeri, bir şeyi çabucak incelemek ya da derinlemesine incelemeyi okumak.
- B) Bir şeyin değerinin olduğundan daha düşük görünmesi.
- C) Herhangi bir şeyi çok istemek.
- D) Tutumlu olmak, hesabını bilmek.
- E) Çevresini iyi gözlemlemek

(I) Spor yapanların kalp ve damar hastalıklarına yatkınlık riski daha düşüktür. (II) Spor, kalbin kasılma kapasitesini artırır. (III) Dolaşım sisteminin daha düzenli çalışmasını sağlar. (IV) Ancak ağır sporlar kalbin zorlanmasına sebep olur ve çeşitli kalp rahatsızlıklarına davetiye çıkarır. (V) Kalp rahatsızlıklarını engellemek için düzenli spor yapılabilir.

15. Bu parçada numaralanmış cümlelerin hangisinde farklı düşünmeye yönlendiren bir ifade vardır?

- A) I. B) II. C) III. D) IV. E) V.

16. Aşağıdakilerden hangisinin değeri diğerlerinden daha büyüktür?

- A) 1^6 B) 10^1 C) 3^3 D) 6^2 E) 4^2

17. 4326 sayısının hangi iki rakamının yerleri değiştirilirse elde edilen sayı 6 ile tam bölünmez?

- A) 2 ile 6 B) 3 ile 6 C) 4 ile 6
- D) 3 ile 2 E) 4 ile 3

18. Aşağıdaki sayılardan hangisinin mutlak değeri en büyüktür?

- A) -9 B) -3 C) 0 D) +8 E) +4

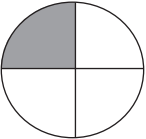
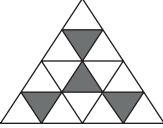
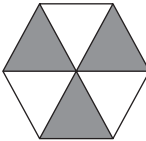
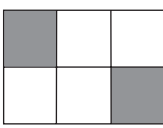

19. Aşağıdaki işlemlerden hangisinin sonucu bir tam sayıdır?

- A) $1 \frac{2}{3}$ B) $2 \frac{2}{3}$ C) $2 \frac{4}{99}$
D) $3 \frac{4}{99}$ E) $5 \frac{4}{99}$

20. Aşağıdaki eşitliklerden hangisi yanlıştır?

- A) $1,2 : 4 = 0,3$ B) $10 : 0,2 = 50$
C) $25,2 : 0,12 = 210$ D) $0,18 : 0,3 = 0,06$
E) $21:0,3=70$

21. Aşağıda eş parçalara ayrılmış şekillerden hangisinde boyalı bölgelerin alanları toplamının şeklin tamamının alanına oranı $\frac{1}{3}$ 'dir?

- A)  B) 
C)  D) 
E) 

Zeki'nin 10 bilyesi vardır. Annesi elindeki k tane bilyeyi Zeki ile kardeşine eşit olarak paylaşıyor.

22. Buna göre Zeki'nin toplam bilye sayısını gösteren cebirsel ifade aşağıdakilerden hangisidir?

- A) $2k + 10$ B) $k + 5$ C) $\frac{k}{2} + 5$
D) $\frac{k}{2} + 2$ E) $\frac{k}{2} + 10$

Aşağıdaki tabloda dörder yarışmacıdan oluşan dört takımın bir turnuvada aldığı sayıların yarışmacılara göre dağılımı verilmiştir.

Tablo: Turnuvada Alınan Sayıların Takımlardaki Yarışmacılara Göre Dağılımı

Takımlar	Yarışmacılar			
	1.	2.	3.	4.
K8	0	122	75	41
L6	3	106	64	82
M	166	92	77	50
N8	19	5	143	26

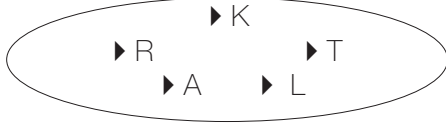
23. Buna göre alınan sayılardan oluşan veri grubunun açıklığının en büyük olduğu takım hangisidir?

- A) K B) L C) M D) N E) M ve N

24. $\frac{K}{5}$ kesrinin yüzde sembolü ile gösterimi % 80 olduğuna göre K kaçtır?

- A) 4 B) 3 C) 2 D) 1 E) 5

- $A = \{\text{KARAKARTAL kelimesinin harfleri}\}$
olmak üzere A kümesi için,
I. Eleman sayısı 10'dur.
II. Liste yöntemiyle gösterimi
 $A = \{\text{K, A, R, T, L}\}$ dir.
III. Venn şeması yöntemi ile gösterimi



şeklindedir.

25. Yukarıdakilerden hangileri doğrudur?

- A) Yalnız I. B) Yalnız II. C) I ve II.
D) II ve III. E) I ve III.

Toplamları 70 olan iki sayıdan biri diğerinin 4 ka-
tından 5 fazladır.

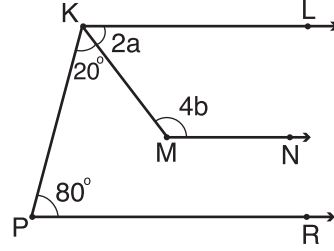
26. Buna göre büyük sayı kaçtır?

- A) 55 B) 56 C) 57 D) 58 E) 59

Marketten kilogramı 7 liradan 5 kg un, kilogramı
2,5 liradan 4 kg şeker ve yarım litre süt alan bir
kişi toplam 47 lira ödüyor.

27. Buna göre 1 litre sütün fiyatı kaç liradır?

- A) 5 B) 4 C) 3 D) 2 E) 1

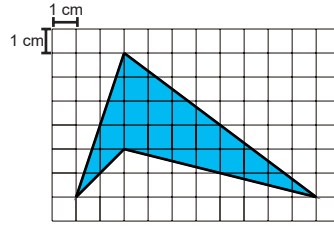


Şekilde $[KL] // [MN] // [MP]$ 'dir.

**28. $m(\widehat{LKM}) = 2a$, $m(\widehat{KMN}) = 4b$, $m(\widehat{MKP}) = 20^\circ$
ve $m(\widehat{KPR}) = 80^\circ$ olduğuna göre $a + b$ kaç
derecedir?**

- A) 65 B) 75 C) 85 D) 95 E) 105

EKPSS MEBÖZEL



**29. Kareli kâğıt üzerinde verilen boyalı böl-
genin alanı kaç santimetrekaredir?**

- A) 15 B) 20 C) 25 D) 30 E) 10

Uzunluğu 132 cm olan bir tel iki eş parçaya ayrı-
lıyor. Bu parçaların uç noktaları birbirine değecek
şekilde eş iki çember oluşturuluyor.

**30. Oluşturulan çemberlerden birinin yarı-
çapının uzunluğu kaç santimetredir? (π ye-
rine 3 alınız.)**

- A) 7 B) 11 C) 14 D) 18 E) 12

**1. Malazgirt Muharebesi hangi devletler arasında olmuştur?**

- A) Büyük Selçuklu Devleti – Bizans
- B) Memlük Devleti – Abbasi Devleti
- C) Avrupa Hun Devleti – Çin
- D) Gazneli Devleti – Karahanlı Devleti
- E) Uygur Devleti – Asya Hun Devleti

2. Türkiye Selçuklu Devleti hangi savaş ile yıkılmıştır?

- A) Malazgirt Savaşı
- B) Miryokefalon Savaşı
- C) Yassı Çemen Savaşı
- D) Köseadağ Savaşı
- E) Hittin Savaşı

3. Osmanlı'da gezip gördüğü yerleri anlatan gezginlere ne ad verilirdi?

- A) Derviş
- B) Kaptan
- C) Maceracı
- D) Ulak
- E) Seyyah

4. Osmanlı Devleti'nin ikinci kurucusu olarak kabul edilen padişah aşağıdakilerden hangisidir?

- A) Orhan Bey
- B) I. Mahmut
- C) Çelebi Mehmet
- D) Genç Osman
- E) II. Murat

5. Osmanlılarda mülkiyeti devlete ait topraklara verilen ad aşağıdakilerden hangisidir?

- A) Mirî arazi
- B) Mülk arazi
- C) Öşri arazi
- D) Vakıf arazi
- E) Haraci arazi

6. Millet Mekteplerinde halka yeni Türk alfabesini öğrettiği için Mustafa Kemal Atatürk'e, 24 Kasım 1928'de hangi unvan verilmiştir?

- A) Başkomutan
- B) Başöğretmen
- C) Anafartalar Kahramanı
- D) Gazi ve Mareşallik
- E) Fahri Profesörlük

7. Halka kanun önünde eşitlik sağlayan ilke aşağıdakilerden hangisidir?

- A) Halkçılık
- B) Milliyetçilik
- C) İnkılapçılık
- D) Laiklik
- E) Devletçilik

8. Aşağıdakilerden hangisi Lozan'da kesin olarak çözüme kavuşturulan çözümlerden biri değildir?

- A) Kapitülasyonlar
- B) Yabancı okullar
- C) Dış borçlar
- D) Mübadele
- E) Hatay Sorunu

9. İşgalci devletlerinin olumsuz propagandalarına karşı halkı doğru bilgilendirmek amacıyla kurulan ajans aşağıdakilerden hangisidir?

- A) Minber
- B) Ulus
- C) Anadolu Ajansı
- D) İrade-i Milliye
- E) Hakimiyet-i Milliye

10. İstiklal Marşı'nın kabulü aşağıdaki olayların hangisinden sonra gerçekleşmiştir?

- A) I. İnönü Muharebesi
- B) Çanakkale Savaşı
- C) Sakarya Savaşı
- D) Balkan Savaşı
- E) Trablusgarp Savaşı

11. TBMM'yi tanıyan ilk Müslüman devlet aşağıdakilerden hangisidir?

- A) Rusya
- B) Almanya
- C) Afganistan
- D) İtalya
- E) Hollanda

12. 1934 yılında Türkiye, Yunanistan, Yugoslavya ve Romanya bir araya gelerek sınırlarını güvence altına almak için hangi antlaşmayı imzalamışlardır?

- A) Ankara Antlaşması
- B) Balkan Antantı
- C) Londra Antlaşması
- D) Lozan Antlaşması
- E) Sevr Antlaşması

12 Ocak 1920'de Mebusan Meclisi, İstanbul'da çalışmalarına başlamış ve 17 Şubat 1920'de Misak-ı Millî Kararları tüm dünyaya ilan edilmiştir. Ancak İtilaf Devletleri Misak-ı Millî Kararlarının kabulünden rahatsız olmuştur. 16 Mart 1920'de İngilizler, toplantı halinde olan Mebusan Meclisi'ni basmış ve dağıtmıştır.

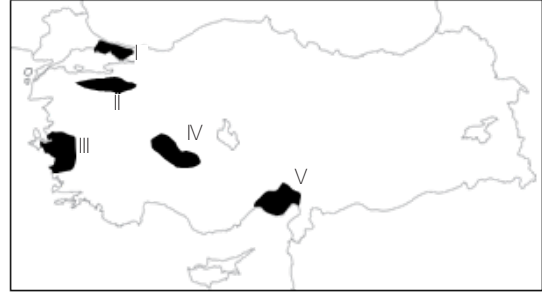
13. Bu metinde verilen bilgilere göre İtilaf Devletleri'nin aşağıdakilerden hangisini amaçladığı söylenebilir?

- A) İstanbul Hükûmeti' ne yardım etmeyi
- B) Millî iradeyi ortadan kaldırmayı
- C) Misak-ı Millî'yi kabul ettirmeyi
- D) Yeni bir meclis oluşturmayı
- E) Anadolu'dan çekilmeyi

14. Aşağıda verilen dağlarımızdan hangisi oluşum yönüyle diğerlerinden farklı bir nedene bağlı olarak oluşmuştur?

- A) Ağrı Dağı
- B) Kaçkar Dağları
- C) Menteşe Dağları
- D) Toros Dağları
- E) Bolkar Dağları

15.



Bu alanların hangisinde nüfus yoğunluğu diğerlerine göre daha azdır?

- A) I
- B) II
- C) III
- D) IV
- E) V

16. Aşağıdakilerden hangisi Türkiye'de tarımın bir özelliğidir?

- A) Tarım ürünü çeşidi azdır.
- B) İç bölgelerimizde seracılık yoğun yapılmaktadır.
- C) Tarımsal nüfus yoğunluğu giderek artmaktadır.
- D) Tarımda verim giderek artmaktadır.
- E) Tüm bölgelerimizde makine kullanımı yaygındır.

17. Türkiye'de aşağıda verilen hayvanlardan hangisinin popülasyonu daha fazladır?

- A) Siğir
- B) Manda
- C) Koyun
- D) Kıl keçisi
- E) Tiftik keçisi

18. Aşağıdakilerden hangisi bir madenin işletilmesi için gerekli koşullardan değildir?

- A) Rezervinin yeterli miktarda olması
- B) Saf metal oranının yüksek olması
- C) İklim koşullarından etkilenmemesi
- D) Çıkarılma ve taşıma masrafinin az olması
- E) Gerekli sermaye ve teknolojinin olması



19. Aşağıda verilenlerden hangisi petrol rafinerilerimizden biri değildir?

- A) İzmir—Aliağa
- B) Batman—Batman
- C) İzmit—İpraş
- D) Kırıkkale—Orta Anadolu
- E) İstanbul—Ambarlı

20. Aşağıdakilerden hangisi yargı bölümünde düzenlenmemiştir?

- A) Anayasa Mahkemesi
- B) Danıştay
- C) Yargıtay
- D) Sayıştay
- E) Yüksek Seçim Kurulu

21. Aşağıdakilerden hangisi TBMM tarafından seçilmez?

- A) Meclis Başkanı
- B) Sayıştay Başkanı
- C) Kamu Baş Denetçisi
- D) Bakanlar
- E) Sayıştay Üyeleri

22. 1982 Anayasasına göre Milli güvenliğin sağlanmasında TBMM'ye karşı aşağıdakilerden hangisi sorumludur?

- A) Bakanlar Kurulu
- B) Başbakan
- C) Cumhurbaşkanı yardımcısı
- D) Cumhurbaşkanı
- E) İçişleri Bakanı

I- Gensoru

II- Bakanlar Kurulu

III- Tüzük

IV- Kanun Hükmünde Kararname

23. 1982 Anayasasının 2017 değişikliği ile yukarıda verilenlerden hangileri yürürlükten kaldırılmıştır?

- A) I
- B) II
- C) III
- D) I-II-III
- E) I-II-III-IV

I-Anayasa Mahkemesi

II- Danıştay

III- Yargıtay

24. 1982 Anayasasına göre yukarıda verilen hangi mahkeme üyeleri 12 yıl için seçilir ve tekrar seçilemezler?

- A) I
- B) II
- C) III
- D) I-II
- E) I-II-III



25. Kaymakam aşağıdakilerden hangisinin onayı ile atanır?

- A) Cumhurbaşkanı
- B) Vali
- C) TBMM
- D) Anayasa Mahkemesi
- E) YSK

26. Ömer Halisdemir Üniversitesi hangi şehrimizdedir?

- A) Niğde
- B) Isparta
- C) İzmir
- D) Aksaray
- E) Kırşehir

27. 2021 yılı itibariyle görevini yürüten T.C. Merkez Bankası Başkanı kimdir?

- A) Murat Çetinkaya
- B) Erdem Başçı
- C) Doç. Dr. Erdem Başçı
- D) Durmuş Yılmaz
- E) Naci Ağbal

28. Covid-19 sebebiyle 2021 yılına ertelenen Yaz Olimpiyat Oyunları hangi ülkede düzenlenmiştir?

- A) Brezilya
- B) Japonya
- C) Türkiye
- D) İngiltere
- E) Güney Kore

29. 2024 yılında Avrupa Futbol Şampiyonasına ev sahipliği yapacak ülke aşağıdakilerden hangisidir?

- A) Türkiye
- B) İspanya
- C) Brezilya
- D) Almanya
- E) Rusya

30. UNESCO tarafından müzik ağına dahil edilen dünya müzik şehrimiz aşağıdakilerden hangisidir?

- A) Kırşehir
- B) Sivas
- C) Kars
- D) Erzurum
- E) Muş

EKPSS MEBÖZEL

CEVAP ANAHTARLARI

GENEL YETENEK

- | | | | | |
|------|-------|-------|-------|-------|
| 1) B | 7) D | 13) B | 19) B | 25) B |
| 2) C | 8) B | 14) A | 20) D | 26) C |
| 3) D | 9) C | 15) D | 21) D | 27) B |
| 4) A | 10) D | 16) D | 22) E | 28) A |
| 5) B | 11) B | 17) B | 23) D | 29) B |
| 6) A | 12) C | 18) A | 24) A | 30) B |

GENEL KÜLTÜR

- | | | | | |
|------|-------|-------|-------|-------|
| 1) A | 7) A | 13) B | 19) E | 25) A |
| 2) D | 8) E | 14) A | 20) E | 26) A |
| 3) E | 9) C | 15) D | 21) D | 27) E |
| 4) C | 10) A | 16) D | 22) A | 28) B |
| 5) A | 11) C | 17) C | 23) E | 29) D |
| 6) B | 12) B | 18) C | 24) E | 30) A |



ÖZEL EĞİTİM VE REHBERLİK HİZMETLERİ
GENEL MÜDÜRLÜĞÜ



ORTAÖĞRETİM
VE ÖN LİSANS



EKPSS MEBÖZEL DENEME SINAVI

Genel Yetenek - Genel Kültür

07





1. Aşağıdaki cümlelerin hangisinde terim anlamlı bir sözcük kullanılmıştır?

- A) Oyunun ikinci perdesinden sonra ara verildi.
- B) Kuşlar, sıcak ülkelere doğru yola çıktı.
- C) Duvarda asılı siyah beyaz fotoğrafa uzun uzun baktı.
- D) Öğretmeninin hediye ettiği kitabı hemen okumaya başladı.
- E) Evlerine yeni eşyalar aldılar.

Yaz mevsiminde balık tezgâhlarında balık bulunmamasının sebebi av yasağıdır. Balıklar, av yasağı süresince hem çoğalır hem de göç ederler. Bu sürede de balık avlanmadığı için tezgâhlarda balık bulunmaz. Bulunursa da önceden avlanmış, dondurulmuş balıklar bulunur. Canlı nüfusunun dengede kalması için av yasaklarına uymak gerekir!

2. Bu metin aşağıdaki sorulardan hangisini cevaplamak için yazılmıştır?

- A) Balıklar ne zaman göç eder?
- B) En fazla hangi mevsimde balık satılır?
- C) Yazın neden balık satılmaz?
- D) Balıkların göç etmesinin sebebi nedir?
- E) Balık en çok hangi bölgede çıkar?

Bağlaç olan “de” cümleye abartma, eşitlik, küçümseme gibi anlamlar katar.

3. Aşağıdaki cümlelerin hangisinde “de” bağlacı cümleye küçümseme anlamı katmıştır?

- A) Bu soruyu çözeceksin de ben göreceğim.
- B) Onu işten çıkarman hiç de iyi olmadı.
- C) O kitabı Yağız da okuyacaktı.
- D) Kuzeni de kardeşi kadar başarılı bir öğrencidir.
- E) Doğum gününe sen de gelirsen çok mutlu olurum.

4. Aşağıdaki cümlelerin hangisinde altı çizili sözcük mecaz anlamıyla kullanılmıştır?

- A) Yolda giderken arabaları bozulmuş.
- B) Listede adını görünce çok heyecanlandı.
- C) Bozuk araçların hepsi evin önünde yatıyor.
- D) Misafirler için temiz havlu ve çarşaf çıkardılar.
- E) Masalları dinlerken yatağında uyuyakalmış.

5. “Çıkmak” sözcüğü aşağıdaki cümlelerin hangisinde “bulunduğu yeri bırakıp başka yere geçmek, taşınmak” anlamında kullanılmıştır?

- A) Bu işten en kârlı çıkan sen oldun.
- B) Dik merdivenli yokuşu güçlükle çıktık.
- C) Yazarın gençler için yazdığı kitap çıktı.
- D) Köyden çıkıp kasabaya yerleşmeye karar verdik.
- E) Bu tepeyi araçla çıkarken zorlandık.

6. Aşağıdaki cümlelerin hangisinde zıt anlamlı kelimeler bir arada kullanılmıştır?

- A) Eve gelir gelmez ödevlerini yapmaya başladı.
- B) Derse geç geldiği için öğretmeninden özür diledi.
- C) İnsanların güvenini kazanmak istiyorsan dürüst olmalısın.
- D) Geç başlamasına rağmen sınavı arkadaşlarından erken bitirdi.
- E) Herkes pazar günü maça gitmek için heyecanla bekliyor.

ÖZEL EĞİTİM VE REHBERLİK HİZMETLERİ
GENEL MÜDÜRLÜĞÜ

Anların küçüklüğüne bakıp aldanmayın. Belki çayırda beraber yaşadığı tilki, kocarca, baykuş gibi hayvanlara göre çok miniktir ama bir arı büyük işler yapar! Anlar, polen ve nektar toplamak için saatler boyunca yorulmak nedir bilmeden çiçekten çiçeğe hızla gezinir durur. Çalışkanlıkları ile bilinen anlar için yardımlaşma ve iş bölümü çok önemlidir. Bir arı ailesinde “ana arı, işçi arı ve erkek arı” yer alır. Ana arıya “kraliçe” veya “arı beyi” adı da verilir.

7. Bu metinde arılarla ilgili aşağıdaki bilgilerden hangisine yer verilmemiştir?

- A) Enerjilerini korumak için nektar içtiklerine
- B) Boyutlarına göre önemli işler yaptıklarına
- C) Kraliçe arıya arı beyi de dendiğine
- D) Polen ve nektar toplamak için çok çalıştıklarına
- E) Anların boylarına göre büyük işler yaptığına

- I. Ömer ve halası misafirlikten geliyorlar.
- II. Sürekli arkadaşlarının kalbini kırıyor.
- III. Gitarın akordunu bozmuşlar.
- IV. Saklambaç oyununda ilk yanan Talha oluyor.

8. Yukarıdaki cümlelerde geçen altı çizili sözcüklerin anlam özelliği hangi seçenekte sırasıyla verilmiştir?

- A) Gerçek Anlam-Mecaz Anlam-Terim Anlam-Mecaz Anlam
- B) Mecaz Anlam-Mecaz-Anlam-Gerçek Anlam-Gerçek Anlam
- C) Gerçek Anlam-Terim Anlam-Terim Anlam-Mecaz Anlam
- D) Gerçek Anlam-Mecaz Anlam-Mecaz Anlam-Mecaz Anlam
- E) Mecaz Anlam-Gerçek Anlam-Gerçek Anlam-Mecaz Anlam

Yaşam alanımız, hayat kaynağımız, aldığımız oksijen, içtiğimiz su, yediğimiz besindir doğa. Doğayı işte bu yüzden korumamız gerekiyor. Peki, doğayı korumak çok mu zor? Hayır... Doğayı korumak çok kolaydır aslında. Sadece bize karşılıksız fedakârlıkta bulunan bu yaşam alanımıza saygı göstermek yeterli olacaktır.

9. Bu metinde aşağıdakilerin hangisinden söz edilmektedir?

- A) Doğaya nelerin zarar verdiğinden
- B) Doğayı güzelleştirmemiz gerektiğinden
- C) Doğayı korumamız gerektiğinden
- D) Doğaya en çok insanların zarar verdiğinden
- E) Doğanın kendini yenileyemediğinden

Hatay Arkeoloji Müzesi 1939 yılında kurulmuştur. 1948 yılında ilk ziyaretçilerine kapılarını açmıştır. Ancak sergilenecek eserlerin çok olması ve binanın yetersizliği yeni bir müze yapılmasını gerektirmiştir. 2014 yılından beri yeni binasında hizmet veren Hatay Arkeoloji Müzesi, “dünyanın en büyük mozaiklerinin sergilendiği müze” unvanını almıştır.

10. Bu metinde Hatay Arkeoloji Müzesi ile ilgili hangi bilgiye yer verilmemiştir?

- A) Büyük mozaiklerin sergilendiği
- B) Yeni müze binasına taşındığı
- C) 1948 yılında ziyarete açıldığı
- D) Çömllekleriyle ünlü olduğu
- E) Kaç yılında kurulduğu

Eş dost ziyaretinde ikramın başını çeken kahve, öyle gelişigüzel pişirilmez, pişirilirse konuğa saygısızlık sayılır. Türk kahvesi sunumu da en az yapımı kadar incelik ve özen ister. Hazırlamış olduğunuz kahve ne kadar lezzetli olursa olsun onu taçlandıracak son dokunuş sunumdur. (...) Aslında kahve eş, dost, arkadaşın sohbetine kapı açar, daha doğrusu sohbetin ön sözü olur. Kahvenin bir bahane, amacın dostlarla sohbet etmek olduğunu ifade eden şu satırlar dillerden düşmez:

Gönül ne kahve ister, ne kahvehane

Gönül sohbet ister, kahve bahane

11. Bu metne göre “kahve” ile ilgili aşağıdakilerden hangisi söylenebilir?

- A) Sunumu önemli değildir.
- B) Muhabbet etmek için bir bahanedir.
- C) Gelişigüzel pişirilirse samimiyet göstergesi olur.
- D) Misafire, gelir gelmez ikram etmek gerekir.
- E) Kahvenin nerede yetiştirildiğinden bahseder.

İlk dersin teneffüsünde okul bahçesinde her zamankinden farklı bir hareketlilik vardı. Arkadaşlarım kantinin olduğu yere doğru koşuyorlardı. Merak ettiğim için ben de gittim. Ağacın altında duran kedi yavrusunu gördüğümde bu telaşın sebebini anladım. Zavallı kedi, ürkek bakışlarla bize bakıyordu. Ona zarar vereceğimizi düşünüyor olabilir. Oysa biz hayvanları çok seven çocuklardık. Hemen kantinden ona süt aldık. Rahatça içmesi için yanından uzaklaştık. Öylesine acıkmıştı ki sütü bir çırpıda içti, bitirdi.

12. Bu metinden hareketle aşağıdakilerden hangisi söylenebilir?

- A) Hayvanları sevmeli ve korumalıyız.
- B) Okul bahçesinde koşmamalıyız.
- C) Kediler oyun oynamayı sever.
- D) Herkesin bir tane kedisi olmalıdır.
- E) Kediler okulda olsa öğrenciler mutlu olur.

İnsanı insan yapan, yüzüne güzellik katan ve onu sevdiren tek şey kalbinin temizliğidir. Yoksa hepimiz aynıyız, etten ve kemikten oluşmuş bedenleriz. Bizi birbirimizden ayıran tek şey kalplerimizin özelliğidir. Eğer temiz ve güzel bir kalbiniz varsa, bu dışınıza yansır.

13. Metinde anlatılmak istenen düşünce nedir?

- A) Bütün insanlar aynı özelliklere sahiptir.
- B) İnsanın yüzü güzelse kalbi de güzeldir.
- C) Bazı kişiler kıskanç olurlar.
- D) İnsanı insan yapan kalbinin güzelliğidir.
- E) İnsanlar birbirine saygı duymalıdır.

*Derinden derine ırmaklar ağlar,
Uzaktan uzağa çoban çeşmesi.
Ey suyun sesinden anlayan bağlar,
Ne söyler şu dağa çoban çeşmesi?*

14. Şiirin dizelerinde hangi sanata başvurulmuştur?

- A) Kişileştirme
- B) Abartma
- C) Benzetme
- D) Karşıtlık
- E) Konuşturma

Dün bir başıma markete giderek hiç aklımda olmayan çikolata, peynir, ayran ve ekmek gibi gıdaları sepetime dolduruverdim.

15. Yukarıdaki paragrafta virgül hangi amaçla kullanılmıştır?

- A) Özneyi vurgulamak
- B) Sıralı cümleleri ayırmak
- C) Eş görevli sözcükleri ayırmak
- D) Ara sözü ayırmak
- E) Hitap sözcüklerinden sonra



$$(21 - 3 \cdot 4) \cdot (5^2 - 25) + 3^4 - 6$$

16. Yukarıdaki işleminin sonucu kaçtır?

- A) 9 B) 75 C) 87 D) 147 E) 164

17. Aşağıdaki ifadelerden hangisi doğrudur?

- A) En küçük asal sayı 1'dir.
B) İki tane asal sayının toplamı her zaman çift sayıdır.
C) İki basamaklı en küçük asal sayı 13'tür.
D) Her asal sayının 2 doğal sayı böleni vardır.
E) 10'dan küçük 5 tane asal sayı vardır.

- I. Tam sayıların mutlak değeri daima pozitiftir.
II. Negatif bir tam sayının mutlak değeri kendisinden küçüktür.
III. Negatif tam sayılar küçüldükçe mutlak değeri büyür.

18. Yukarıdaki ifadelerden hangileri doğrudur?

- A) Yalnız I. B) Yalnız III. C) I ve III.
D) I, II ve III. E) II ve III.

19. Aşağıdaki eşitliklerden hangisi yanlıştır?

- A) $15 : \frac{1}{3} = 45$ B) $8 : \frac{1}{2} = 16$
C) $5 : \frac{1}{3} = 15$ D) $3 : \frac{1}{3} = 1$
E) $3 : \frac{1}{4} = 12$

20. Aşağıdaki eşitliklerden hangisi doğrudur?

- A) $2,35 \cdot 10 = 235$
B) $75,16 \cdot 100 = 7516$
C) $8,147 \cdot 1000 = 814,7$
D) $12,2 \cdot 1000 = 12\ 002$
E) $1,16 \cdot 100 = 11,6$

21. 36 tane oyuncak iki çocuğa $\frac{2}{7}$ oranında paylaştırılırsa fazla oyuncak alan çocuk kaç tane oyuncak alır?

- A) 8 B) 24 C) 20 D) 16 E) 28

22. $3xy + 2x - 1 - 3y$ cebirsel ifadesinin sabit terimi kaçtır?

- A) -3 B) 1 C) 2 D) 3 E) -1

23. 13, 44, x, 26, 38, 23 veri grubunun açıklığı 41 olduğuna göre x aşağıdakilerden hangisi olabilir?

- A) 50 B) 54 C) 64 D) 67 E) 53

20 kişilik bir sınıftaki öğrencilerin 8'i kızdır.

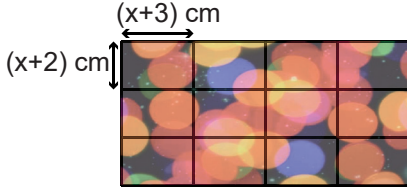
24. Sınıftaki kız ve erkek öğrenci sayılarının yüzde olarak gösterimi aşağıdakilerden hangisidir?

	<u>KIZ</u>	<u>ERKEK</u>
A)	% 60	% 40
B)	% 55	% 45
C)	% 45	% 55
D)	% 40	% 60
E)	% 20	% 80

$A = \{1, 2, 3, 4\}$, $B = \{1, 3, 5\}$ ve $C = \{2, 4, 6\}$ kümeleri veriliyor.

25. Buna göre aşağıdakilerden hangisi yanlıştır?

- A) $1 \in (A \cup C)$ B) $3 \in (A \cap B)$
C) $s(A \cup C) = 7$ D) $s(B \cap C) = 0$
E) $s(A \cup B) = 5$



Şekildeki tablo kenar uzunlukları $(x + 3)$ cm ve $(x + 2)$ cm olan eş dikdörtgen parçalardan oluşmuştur.

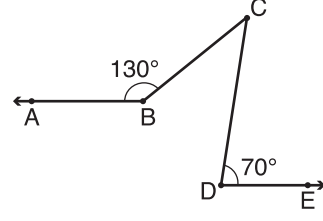
26. Bu tablonun çevre uzunluğu 148 cm olduğuna göre x kaçtır?

- A) 10 B) 9 C) 8 D) 7 E) 6

Bir çiftçi ürettiği 9500 kg patatesi 25 kilogramlık çuvallara doldurmuştur.

27. Bu çiftçi çuvallardan birini 14 liraya sattığına göre tüm çuvalları sattığında kaç lira gelir elde eder?

- A) 4900 B) 5040 C) 5180 D) 5320 E) 5400



28. Şekilde $[BA \parallel [DE$, $m(\widehat{ABC}) = 130^\circ$ ve $m(\widehat{CDE}) = 70^\circ$ olduğuna $m(\widehat{BCD})$ kaç derecedir?

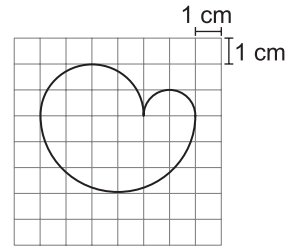
- A) 20 B) 30 C) 50 D) 60 E) 70

EKPSS MEBÖZEL

Ali'nin tarlası 4000 m² dir. Ahmet'in tarlası Ali'nin tarlasının 2 katından 10 ar fazladır.

29. Buna göre Ahmet'in tarlası kaç hektardır?

- A) 0,9 B) 8,1 C) 9 D) 81 E) 90



30. Kareli kâğıtta verilen üç yarım çemberden oluşan şeklin çevresinin uzunluğu kaç santimetredir? (π yerine 3 alınız.)

- A) 14 B) 16 C) 18 D) 20 E) 22

**1. Alp Er Tunga Destanı kime aittir?**

- A) Avarlar B) Kırgızlar C) İskitler
D) Macarlar E) Hazarlar

2. Divân-ı Hikmet kim tarafından yazılmıştır?

- A) Kaşgarlı Mahmut
B) Edip Ahmet Yükneki
C) Hoca Ahmet Yesevî
D) Yusuf Has Hacip
E) Gazneli Mahmut

3. I. Dünya Savaşı'nda Osmanlı Devleti hangi devletin yanında yer almıştır?

- A) İngiltere
B) Hindistan
C) Almanya
D) Fransa
E) Çin

4. Osmanlı Devlet'inin ilk anayasası aşağıdakilerden hangisidir?

- A) Kanun-i Esasi
B) Tanzimat Fermanı
C) Islahat Fermanı
D) Sened-i İttifak
E) Koçi Bey Risalesi

Osmanlı Devleti 19.yüzyıla gelindiğinde sanayileşen ülkelerin çok gerisinde kalmıştır. Çok az üretim yapıyordu ve aldığı borçları bile ödeyemez hale geldi.

5. Verilen bilgiye göre Osmanlının hangi alanda zayıfladığını söyleyebiliriz?

- A) Ekonomi B) Eğitim C) Sosyal
D) Askeri E) Kültürel

6. Aşağıdakilerden hangisi ekonomi alanında yapılan inkılaplardan biridir?

- A) Halifeliğin Kaldırılması
B) Cumhuriyetin İlanı
C) Türkiye İktisat Kongresi ve Millî Üretim Seferberliği
D) Tekke, Zaviye ve Türbelerin Kapatılması
E) Şapka Kanunu ve Kıyafette Değişim

7. Özel sektörün yetersiz kaldığı durumlarda, yatırımların devlet tarafından yapılmasını öngören ilkeye ne denir?

- A) Halkçılık
B) Milliyetçilik
C) İnkılapçılık
D) Laiklik
E) Devletçilik

8. Türkiye Cumhuriyeti boğazlar üzerindeki tam egemenliğini hangi antlaşma ile kazanmıştır?

- A) Mondros Ateşkes Antlaşması
B) Montrö Boğazlar Sözleşmesi
C) Ankara Antlaşması
D) Moskova Antlaşması
E) Mudanya Antlaşması

9. Mustafa Kemal Atatürk'e başkomutanlık yetkisi hangi savaş sonrası verilmiştir?

- A) Trablusgarp Savaşı
B) Balkan Savaşı
C) Kütahya-Eskişehir Savaşı
D) Çanakkale Savaşı
E) II. İnönü Muharebesi



10. İşgal edilen bölgelerde halkın kurmuş olduğu silahlı direniş topluluğuna ne ad verilir?

- A) Nizam-ı Cedid
- B) Yaya ve Müsellem
- C) Kuvay-ı Milliye
- D) Cebeciler
- E) Humbaracılar

11. 1939 yılında Anavatan'a katılan son toprağımız aşağıdakilerden hangisidir?

- A) Bursa
- B) İzmir
- C) Adana
- D) Hatay
- E) Mardin

12. Mustafa Kemal, Manastır Askeri İdadisinde okurken;

- Milli birlik ve beraberlik
- Vatan sevgisi,
- Türkçülük,

konularında aşağıdaki düşünürlerin hangisinden etkilendiği söylenemez?

- A) Mehmet Emin Yurdakul
- B) Namık Kemal
- C) Ziya Gökalp
- D) Voltaire
- E) Tefik Fikret

13. Aşağıdaki okullardan hangisi Atatürk'ün okuduğu okullardan biri değildir?

- A) Mahalle Mektebi
- B) Mehmet Efendi İlkokulu
- C) Selanik Askeri Rüştiyesi
- D) İstanbul Harp Okulu
- E) Manastır Askeri İdadisi

Sanayi tesislerinin bir kısmı hammadde alanlarına bir kısmı ise pazar alanlarına daha yakın olarak kurulur.

14. Aşağıdaki sanayi tesislerinden hangisinin kurulum yerinin seçiminde bu kriterler daha az önemlidir?

- A) Çimento
- B) Zeytinyağı
- C) Tekstil
- D) Mobilya
- E) Et ve süt ürünleri

15. Ankara'dan aşağıda verilen şehirlerimizden hangisine yüksek hızlı tren ile ulaşılmaz?

- A) Konya
- B) İstanbul
- C) Eskişehir
- D) Bilecik
- E) Kayseri

– Türkiye'nin üzüm ve incir ihracatının tamamı buradan yapılır.

– Modern bir limana sahiptir.

– Uluslararası fuarı sayesinde ticaret merkezi konumundadır.

16. Yukarıdaki özellikler hangi şehre aittir?

- A) Samsun
- B) Bursa
- C) İzmir
- D) Antalya
- E) Sinop

17. Kuşadası, Bodrum, Datça, Bozburun, Marmaris, Fethiye gibi yerlerde gelişen turizm çeşidi aşağıdakilerden hangisidir?

- A) Kıyı turizmi
- B) Yayla turizmi
- C) Golf turizmi
- D) Dağ turizmi
- E) Kültür turizmi



18. Bazı göllerin seviyesi yaz ve kış mevsiminde fazla değişiklik gösterir. Bu durum aşağıda verilen göllerden hangisinde diğerlerine göre daha belirgindir?

- A) Van Gölü B) Tuz Gölü C) Çıldır Gölü
D) Hazar Gölü E) İznik Gölü

19. Aşağıda verilen illerden hangisinde kış mevsiminde don olayının yaşanmasının tarım sektörüne olumsuz etkisi daha fazla olur?

- A) Ankara B) Antalya C) Konya
D) Diyarbakır E) Siirt

20. Aşağıda verilen yüksek mahkemelerden hangisinin bir kısım üyesini TBMM seçer?

- A) Danıştay
B) Yargıtay
C) Uyuşmazlık Mahkemesi
D) Anayasa Mahkemesi
E) YSK

21. 1982 Anayasasına göre yasama yetkisi aşağıdakilerden hangisine verilmiştir?

- A) Cumhurbaşkanı
B) Türkiye Büyük Millet Meclisi'ne
C) Bağımsız ve tarafsız mahkemelere
D) Milli Güvenlik Kurulu'na
E) Cumhurbaşkanı Yardımcısı'na

- I- Türk Silahlı Kuvetleri
II- Kamu Kuruluşları
III- Yargı

22. 1982 Anayasasının 2017 değişikliği göz önüne alındığında Devlet Denetleme Kurulu yukarıda verilenlerden hangilerini denetleyebilir?

- A) I B) II C) III D) I-II E) I-II-III

23. Son genel seçimlerde geçerli oyların yüzde kaçını alan siyasi partiler birlikte veya tek başına Cumhurbaşkanlığına aday gösterebilirler?

- A) %3 B) %4 C) %5 D) %7 E) %10

24. 2014 Yılında kaldırılan Sulh Ceza Mahkemeleri yerine aşağıdakilerden hangisi kurulmuştur?

- A) Asliye Hukuk Mahkemesi
B) Asliye Ceza Mahkemesi
C) Sulh Hukuk Mahkemesi
D) Sulh Ceza Hâkimliği
E) Ağır Ceza Mahkemesi

25. 1982 Anayasasına göre Belediye başkanı seçilme yaşı kaçtır?

- A) 18 B) 20 C) 21 D) 25 E) 30



26. Suriye’de 27 Şubat tarihinde İdlib kentinde Türk askerine yönelik düzenlenen hain saldırının ardından başlatılan karşı harekâtın ismi aşağıdakilerden hangisidir?

- A) Şafak Harekâtı
- B) Şah Fırat Harekâtı
- C) Bahar Kalkanı Harekati
- D) Zeytin Dalı Harekâtı
- E) Çekiç Harekâtı

27. Çin’in Wuhan kentinde ortaya çıkan ve dünyaya hızlıca yayılan, ölümcül salgın olarak da nitelendirilen virüs aşağıdakilerden hangisidir?

- A) İnfluenza A
- B) Brisbane
- C) İnfluenza B
- D) H7N9
- E) Kovid - 19

28. Şubat 2020 tarihinde 92’incisi düzenlenen Oscar Ödülleri’nde “en iyi film” ödülü verilen yapıt aşağıdakilerden hangisidir?

- A) Parazit
- B) Ford v Ferrari
- C) Joker
- D) Marriage Story
- E) The Irishman

29. Mart 2020 tarihinde Almanya’nın başkenti Berlin’de düzenlenen 70. Uluslararası Berlin Film Festivali’nde “en iyi film” kategorisinde “Altın Ayı” ödülü verilen yapıt aşağıdakilerden hangisidir?

- A) Oray
- B) Aidiyet
- C) Sheytan Vojud Nadarad
- D) Kız kardeşler
- E) Domangchin Yeoja

30. Pek çok kültürde, yılın neredeyse aynı günleri düşerek havayı, toprağı ve suyu ısıttığı tarih olarak kabul edilen, aynı zamanda baharın habercisi olarak tabir edilen Arapça kökenli sözcük aşağıdakilerden hangisidir?

- A) Araf
- B) Cemre
- C) Nevruz
- D) Yelda
- E) Hidirellez

EKPSS MEBÖZEL

CEVAP ANAHTARLARI

GENEL YETENEK

- | | | | | |
|------|-------|-------|-------|-------|
| 1) A | 7) A | 13) D | 19) D | 25) C |
| 2) C | 8) A | 14) A | 20) B | 26) C |
| 3) A | 9) C | 15) C | 21) E | 27) D |
| 4) C | 10) D | 16) B | 22) E | 28) A |
| 5) D | 11) B | 17) D | 23) B | 29) A |
| 6) D | 12) A | 18) C | 24) D | 30) C |

GENEL KÜLTÜR

- | | | | | |
|------|-------|-------|-------|-------|
| 1) C | 7) E | 13) B | 19) B | 25) A |
| 2) C | 8) B | 14) C | 20) D | 26) C |
| 3) C | 9) C | 15) E | 21) B | 27) E |
| 4) A | 10) C | 16) C | 22) D | 28) A |
| 5) A | 11) D | 17) A | 23) C | 29) C |
| 6) C | 12) D | 18) B | 24) D | 30) B |



ÖZEL EĞİTİM VE REHBERLİK HİZMETLERİ
GENEL MÜDÜRLÜĞÜ

MEBÖZEL
EKPS

ORTAÖĞRETİM
VE ÖN LİSANS



EKPSS MEBÖZEL DENEME SINAVI

Genel Yetenek - Genel Kültür

08



1. Aşağıdaki cümlelerin hangisinde deyim kullanılmamıştır?

- A) Bu kalemleri bulana kadar akla kararı seçtim.
- B) İşe geç kalmamak için sabah erkenden uyandı.
- C) Çok tatlı, cana yakın ve tez canlı bir çocuktur.
- D) Annesi, istediğini yapmayınca küplere bindi.
- E) Okula gitmek için sabah erkenden yol aldı.

2. Aşağıdaki cümlelerin hangisinde “gölge” sözcüğü mecaz anlamıyla kullanılmıştır?

- A) Ressam, bu çalışmasında gölge tekniğini iyi kullanmış.
- B) Dayısının gölgesinde kendini daha da güçlü hissediyordu.
- C) Ağacın gölgesinde oturup dinlenelim.
- D) Kuşun gölgesi duvarda belirdi.
- E) Evin gölgesi uzadıkça uzadı.

3. “Tutumluluk” konulu bir yazı yazmak isteyen Ayşe’nin aşağıdaki atasözlerinden hangisini yazısında kullanması uygun olmaz?

- A) Ak akçe kara gün içindir.
- B) İşten artmaz, dıştan artar.
- C) Sakla samanı, gelir zamanı.
- D) Haydan gelen huya gider.
- E) Ayağını yorganına göre uzat.

4. Aşağıdaki cümlelerin hangisinde bir varlığın dış görünüşünden bahsedilmiştir?

- A) Arkadaşlarımla dışarıya çıktık.
- B) Köpekler sürekli havlıyordu.
- C) Bütün hayvanlara yem attım.
- D) Kırmızı, şirin, küçük bir evde yaşıyordu.
- E) Denizde martılar balık avlıyor.

5. Aşağıdaki cümlelerin hangisinde özel isim yoktur?

- A) Arkadaşım Hasan eve geç gitti.
- B) Hatay’da seni dün hiç görmedim.
- C) Adam kuşuna Maviş adını verdi.
- D) Arkadaşlarıyla marketten yiyecek aldı.
- E) Amasya’da yağmur yağmaya başladı.

6. Aşağıdaki cümlelerin hangisinin sonuna soru işareti gelir?

- A) Ailemin resimlerini görünce şaşırdım
- B) Seni dün okulda hiç görmedim
- C) Yarın seni okulda bekliyorum
- D) Benim söylediklerimi duymuyor musun
- E) Yarın pazardan evin ihtiyaçlarını alalım

7. Aşağıdaki cümlelerin hangisinde karşılaştırma yapılmıştır?

- A) Bilgisayarında bütün özellikler bulunuyor.
- B) İlk kitabı da diğerleri gibi masal türündedir.
- C) Farkında değiliz belki ama zaman çok hızlı geçiyor.
- D) Yarışma sonrasında Antalya’da bir otelde kalmıştık.
- E) Kızıyla okula giderken yağmur yağdı.

Aziz Sancar, Mardin’in Savur ilçesinde 1946 yılında doğmuştur. İlk, orta ve lise öğrenimini Mardin’de; yükseköğrenimini İstanbul’da tamamlamıştır. ABD’de çalışmalarını yürütme şansı bulmuş ve önemli buluşlara imza atmıştır. Hücre dizilimi, DNA onarımı, biyolojik saat ve birçok hastalığın tedavisi üzerine önemli çalışmaları bulunmaktadır. Kimya dalında 2015 Nobel Ödülü’nü kazanan üç kişiden biridir.

8. Bu metne göre Aziz Sancar ile ilgili aşağıdakilerin hangisi söylenebilir?

- A) Daha önce de Nobel Ödülü aldığı
- B) Kimya dalında 2015 Nobel Ödülü’nü kazanan tek kişi olduğu
- C) Yükseköğrenimi sırasında maddi zorluklar yaşadığı
- D) Hücre dizilimi ile ilgili çalışmalarının olduğu
- E) Aziz Sancar’ın aile hayatına

**9. “Bazı meslekler yetenek gerektirir.” cümlesindeki altı çizili sözcüğün eş anlam-lısı aşağıdakilerden hangisidir?**

- A) Sabır B) Hoşgörü C) Kabiliyet
D) Uğraş E) Selamet

*Merhaba yeni gelen gün
Gökyüzünde belirsiz aydınlık
Denizde çivit mavisini
Merhaba yaşama gücüm*

10. Bu dördünlüğün ana duygusu aşağıdaki-lerden hangisidir?

- A) Doğa sevgisi B) Yaşama sevinci
C) Memleket özlemi D) Deniz hasreti
E) Vatan sevgisi

Birçok bilim insanı, Mars gezegeninin insanların ve başka canlıların yaşaması için uygun duruma getirilebileceği görüşünde. Çünkü Mars'ın Dünya koşullarına benzeyen özellikleri var. Örneğin her iki gezegende de bir günün uzunluğu yaklaşık 24 saat. Mars'ta Dünya'daki gibi dört mevsim var. Bu sebeplerden dolayı bilim insanları, canlıların Mars'ta yaşayabileceğini düşünüyor.

11. Bu metne en uygun başlık aşağıdaki-lerden hangisi olabilir?

- A) Mevsimler
B) Canlılar
C) Mars ve Dünya
D) Gezegenler ve Bilim İnsanı
E) Gezegen Bilimi

12. Aşağıdaki cümlelerin hangisinde karşıt anlamlı sözcükler bir arada verilmiştir?

- A) Taze yumurtaları köyden getirip dükkânında satıyordu.
B) Dünyanın en iyi işinde çalışıyorum, öğretmenlik.
C) Evinin çok sıcak olduğunu söyler dururdu.
D) Zor şartlar altında çalışarak onları büyütüştü.
E) Doğru yoldan gittiğini düşünürken yanlış yolda olduğunu fark etti.

13. “Önceden tasarlanan bir iş umulduğu gibi sonuçlanmaz, düşünüldüğü gibi olmaz.” Anlamına gelen atasözü aşağıdaki-lerden hangisidir?

- A) Gün doğmadan neler doğar.
B) Evdeki hesap çarşıya uymaz.
C) Öfkeyle kalkan zararlar oturur.
D) Davulun sesi uzaktan hoş gelir.
E) Ayağını yorganına göre uzat.

Babamın çok sevdiği bir arabası vardı. Yıllarca babamı hiç yolda bırakmadı. Beraber nice şehirleri, köyleri, ovaları geçtiler. Yıllar yılları götürdü, babamın arabasının emekliye ayrılma vakti gelmişti. Artık aileden olmuş bu arabayı götürüp hurdacıya sattı.

14. Bu metinde aşağıdakilerden hangisi insana özgü bir özellik kazanmıştır?

- A) Köy
B) Şehir
C) Yol
D) Araba
E) Ova

15. Aşağıdaki atasözlerinden hangisi “Bir insana çok güvenip onun için her şeyin yapılmasına rağmen o kişi tarafından zarara uğramayı” anlatır?

- A) Bir elin nesi var, iki elin sesi var.
B) Ayağını yorganına göre uzat.
C) İşini kış tut, yaz çıkarsa bahtına.
D) Besle kargayı, oysun gözünü.
E) Sakla samanı gelir zamanı

$$30 \square 6 \square 3 \square 6 = 23$$

16. Yukarıdaki eşitliğin doğru olması için \square 'lerin yerine toplama (+), çıkarma (-), çarpma (x) ve bölme sembollerinden hangilerinin sırasıyla yerleştirilmesi gerekir?

- A) : , + , · B) : , - , · C) + , : , +
D) - , : , + E) - , : , :

17. Aşağıdaki sayılardan hangisinin asal çarpan sayısı diğerlerinden fazladır?

- A) 20 B) 35 C) 70 D) 80 E) 91

18. İki basamaklı rakamları farklı en küçük tam sayının mutlak değeri aşağıdakilerden hangisidir?

- A) 10 B) 12 C) 97 D) 98 E) 99

$\frac{2}{5}$		$\frac{1}{15}$
	$\frac{7}{30}$	
$\frac{1}{10}$?

Yukarıdaki şekilde her satır ve her sütundaki sayıların toplamı 1'e eşittir.

19. Buna göre “?” olan kareye hangi sayı yazılmalıdır?

- A) $\frac{2}{3}$ B) $\frac{3}{5}$ C) $\frac{1}{2}$ D) $\frac{3}{10}$ E) $\frac{3}{15}$

20. Aşağıdaki eşitliklerden hangisi doğrudur?

- A) $12,6 : 100 = ,0 126$
B) $25,4 : 10 = 0,254$
C) $8790 : 100 = 0 0,879$
D) $1453 : 100 = 1,453$
E) $14,3 : 10 = 0,143$

Bir sınıfın kitaplığındaki kitapların türlerine göre dağılımı aşağıdaki tabloda verilmiştir.

Tablo: Kitaplıktaki Kitapların Türlerine Göre Dağılımı

Kitap Türü	Kitap Sayısı
Hikâye	15
Masal	20
Şiir	10

21. Tabloya göre aşağıdakilerden hangisi yanlıştır?

- A) Masal kitabı sayısının, şiir kitabı sayısına oranı 2'dir.
B) Hikâye kitabı sayısının, tüm kitapların sayısına oran $\frac{1}{2}$ 'dir.
C) Şiir kitabı sayısının, hikâye kitabı sayısına oranı $\frac{2}{3}$ 'dir.
D) Tüm kitapların sayısının, masal kitabı sayısına oran $\frac{9}{4}$ dur.
E) Masal ve şiir kitabı toplamı hikaye kitabı sayısının 2 katıdır.

EKPS MEBÖZEL

Vedat'ın x lirası, Hakan'ın ise 30 lirası vardır.

Vedat parasının $\frac{2}{3}$ 'sini, Hakan ise $\frac{1}{2}$ 'ini yardım kampanyası için para toplayan kişiye veriyorlar.

22. Vedat ile Hakan'ın yardım için verdikleri toplam parayı lira cinsinden ifade eden cebirsel ifade aşağıdakilerden hangisidir?

- A) $\frac{2x + 30}{3}$ B) $\frac{2x}{3} + \frac{10}{3}$ C) $\frac{3x}{2} + 15$
D) $\frac{3x + 20}{2}$ E) $\frac{2x}{3} + 15$

Aşağıdaki tabloda beş kişiden dördünün yarışı bitirme süreleri verilmiştir.

Tablo: Kişilerin Yarışı Bitirme Süreleri

Kişiler	Yarışı Bitirme Süreleri (dk.)
İbrahim	84
Kemal	63
Oğuzhan	
Ahmet	75
Mehmet	59

23. Yarışı bitirme sürelerinin açıklığı 27 olduğuna göre Oğuzhan yarışı kaç dakikada bitirmiş olabilir?

- A) 47 B) 52 C) 74 D) 86 E) 87

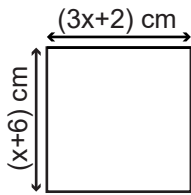
24. Aşağıdaki ifadelerden hangisi doğrudur?

- A) 50'nin % 10'u 10'dur.
B) 25'in % 20'si 15'tir.
C) 60'ın % 30'u 24'tür.
D) 80'in % 25'i 20'dir.
E) 40'in % 10'u 8'dir.

AB iki basamaklı sayısı rakamları toplamının 6 katına eşittir.

25. Buna göre bu koşula uyan iki basamaklı sayı kaçtır?

- A) 45 B) 74 C) 63 D) 54 E) 98



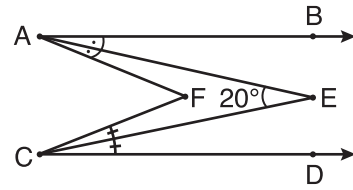
26. Yukarıda kenar uzunlukları verilen karenin çevre uzunluğu kaç santimetredir?

- A) 44 B) 40 C) 36 D) 32 E) 34

Bir voleybol maçının bilet fiyatları çocuklar için 8 lira, yetişkinler için 15 liradır.

27. Bu maçı biletli 50 çocuk ve 350 yetişkin izlediğine göre bilet satışından toplam kaç lira gelir elde edilmiştir?

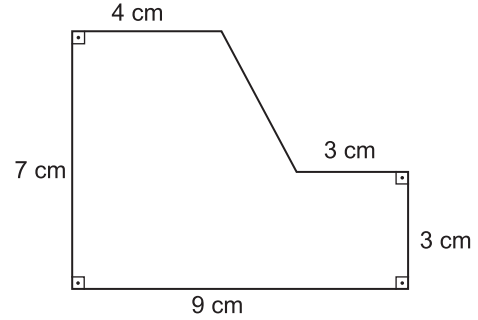
- A) 5650 B) 5550 C) 5450 D) 5250 E) 5150



Şekilde $[AB \parallel [CD$, $[AE]$, \widehat{BAF} 'nin; $[CE]$, \widehat{FCD} 'nin açıortaylarıdır.

28. $m(\widehat{AEC}) = 20^\circ$ olduğuna göre $m(\widehat{AFC})$ kaç derecedir?

- A) 10 B) 20 C) 30 D) 40 E) 50



29. Verilen şeklin alanı kaç santimetreka- redir?

- A) 57 B) 54 C) 47 D) 44 E) 39

30. Bir otomobilin 720 m yol gidebilmesi için çapının uzunluğu 80 cm olan bir tekerleğinin kaç tur dönmesi gerekir? (π yerine 3 alınız.)

- A) 150 B) 300 C) 420 D) 600 E) 200



1. Türklerin ilk anayurdu neresidir?

- A) Avrupa
- B) Orta Asya
- C) Afrika
- D) Arabistan
- E) Orta Doğu

2. Anadolu'da kurulmuş olan ilk Türk beyliği hangisidir?

- A) Danişmentliler
- B) Saltuklular
- C) Mengücekliler
- D) Artuklular
- E) Çaka Beyliği

3. Ahi teşkilatına üye, ayakkabı satan bir esnaf olduğunuz durumda hangi davranışı yapmanız doğru olmaz?

- A) Sağlam ve dayanıklı ayakkabılar üretmek
- B) Müşterilere karşı güler yüzlü ve doğru sözlü olmak
- C) Daha fazla para kazanmak için ürünleri yüksek fiyata satmak
- D) Ticarete dürüst olmak
- E) Ahlaklı olmak

4. Osmanlı Devleti'nde yoksullara yiyecek dağıtılan hayır kurumu aşağıdakilerden hangisidir?

- A) Medrese
- B) İmarethane
- C) Bedesten
- D) Cami
- E) Külliye

5. Aşağıdakilerden hangisi Mustafa Kemal'in katıldığı savaşlardan değildir?

- A) Çanakkale
- B) Trablusgarp
- C) Kafkas
- D) 93 Harbi
- E) Büyük Taarruz

6. Türk milletini çağdaş bir görünüme kavuşturmak amacıyla yapılan inkılap aşağıdakilerden hangisidir ?

- A) Soyadı Kanunu
- B) Saltanatın Kaldırılması
- C) Cumhuriyet'in İlanı
- D) Kılık-Kıyafet Değişikliği
- E) Kabotaj Kanunu

Mustafa Kemal, askerlik hayatı boyunca sa-
vaşı son çare olarak görmüş; sorunları önce-
likle diplomasi yoluyla çözmeyi tercih etmiştir.

7. Yukarıda Mustafa Kemal'in hangi özelliği üzerinde durulmuştur?

- A) Kararlılık
- B) Barışçılık
- C) İleri görüşlülük
- D) Tutarlılık
- E) Çok Yönlülük

8. Aşağıdakilerden hangisi Doğu Cephesi'nin komutanıdır?

- A) Mustafa Kemal
- B) Ali Fuat Cebesoy
- C) Refet Bele
- D) Rauf Orbay
- E) Kazım Karabekir

9. TBMM'yi tanıyan ilk devlet aşağıdakilerden hangisidir?

- A) Portekiz
- B) İspanya
- C) İtalya
- D) Rusya
- E) Ermenistan

**10. Aşağıdakilerden hangisi toplumsal alanda yapılan inkılaplardan biri değildir?**

- A) Şapka Kanunu ve Kıyafette Değişim
- B) Tekke, Zaviye ve Türbelerin Kapatılması
- C) Takvim, Saat ve Ölçülerde Değişim
- D) Soyadı Kanunu
- E) Ankara'nın Başkent Oluşu

'Kırk Asırlık Türk Yurdu düşman elinde esir kalmaz'

11. Mustafa Kemal Atatürk bu sözle hangi soruna dikkat çekmiştir?

- A) Yabancı Okullar Sorunu
- B) Hatay Sorunu
- C) Nüfus Mübadelesi Sorunu
- D) Adalar Sorunu
- E) Dış Borçlar Sorunu

12. Çok partili hayata geçiş denemelerinde kurulan ilk muhalefet partisi aşağıdakilerden hangisidir?

- A) Terakkiperver Partisi
- B) Demokrat Parti
- C) Hürriyet ve İtilaf Partisi
- D) İttihat ve Terakki Partisi
- E) Milli Kalkınma Partisi

"Siyasi yalnızlıktan kurtulmak, mevcut topraklarını korumak ve yakın dönemde kaybettiği toprakları geri almak isteyen Osmanlı Devleti"

13. Verilen paragraf aşağıdaki cümlelerin hangisiyle tamamlanabilir?

- A) İttifak Devletleri'nin yanında I. Dünya Savaşı'na girdi
- B) Londra Konferansı'na katıldı.
- C) İngiltere ile ittifak antlaşması yaptı.
- D) Brest-Litovsk Antlaşması'nı imzaladı.
- E) Meşrutiyeti ilan etti.

14. Haziran tarihinde aşağıdaki illerin hangisinde gündüz süresi diğerlerinden daha uzun yaşanır?

- A) Antalya
- B) İzmir
- C) Çanakkale
- D) Konya
- E) Sinop

Geçmişten günümüze değişen iklim koşullarına rağmen, kendi yaşam bölgelerinde varlıklarını devam ettiren kalıntı bitkilere.....denir.

15. Yukarıdaki boşluğa aşağıdakilerden hangisi getirilirse cümle tamamlanmış olur?

- A) Endemik
- B) Relikt
- C) Psödomaki
- D) Antropojen Bozkır
- E) Habitat

16. Aşağıdaki yer şekillerinden hangisinin oluşumunda iç kuvvetlerin doğrudan etkili olduğu söylenebilir?

- A) Çukurova Deltası
- B) Pamukkale Travertenleri
- C) Toros Dağları
- D) Damлатаş Mağarası
- E) Çarşamba Ovası

Nüfus piramidi, nüfusun cinsiyete ve yaş gruplarına dağılımını gösteren grafiklerdir.

17. Türkiye'nin nüfus piramidine bakılarak aşağıdakilerden hangisine ulaşamaz?

- A) Nüfus miktarı
- B) Ortalama yaşam süresi
- C) Nüfus artış hızı
- D) Nüfus yoğunluğu
- E) Doğum oranı



18. Aşağıda verilen illerden hangisinde yer şekillerinin olumsuz etkisiyle daha çok ekstansif tarım metodu uygulanmaktadır?

- A) Adana B) Bursa C) Rize
D) Samsun E) Konya

19. Ülkemizde sünger avcılığı daha çok aşağıdaki kıyılardan hangisinde yapılmaktadır?

- A) Çarşamba B) Silifke C) Bodrum
D) Sinop E) Adapazarı

20. TBMM Genel Kurulundaki görüşmeler tam olarak aşağıdakilerden hangisinde yayımlanır?

- A) Resmi gazete B) Kanun dergisi
C) Tutanak dergisi D) Meclis TV
E) Meclis dergisi

**21. Meclis başkanlık divanı içinde bir yasa-
ma döneminde kaç kez seçim yapılır?**

- A) 1 B) 2 C) 3 D) 4 E) 5

22. Cumhurbaşkanı Kararlarının yargısal denetimini aşağıdakilerden hangisi yapar?

- A) Anayasa Mahkemesi
B) Yargıtay
C) Danıştay
D) Sayıştay
E) HSK

23. Aşağıdakilerden hangisi Cumhurbaşkanı görevleri arasında yer almaz?

- A) Anayasa Mahkemesine 12 üye seçmek
B) Anayasa değişikliklerini halkoyuna sunmak
C) Kanunları yayımlamak
D) Belediye başkanını seçmek
E) Genelkurmay Başkanını atamak

24. Aşağıda verilenlerden hangisi adli mahkemeler arasında yer almaz?

- A) Sulh hukuk mahkemesi
B) Asliye ceza mahkemesi
C) Ağır ceza mahkemesi
D) Asliye hukuk mahkemesi
E) İdare mahkemesi



25. Aday memurluk süresi en az - en fazla kaç yıldır?

- A) 1-2 B) 1-3 C) 2-3 D) 1-4 E) 3-4

26. 2021 yılı Yüksek Seçim Kurulu başkanı aşağıdakilerden hangisidir?

- A) Muharrem Akkaya
B) Sadi Güven
C) İsmail Rüştü Cirit
D) Mustafa Şentop
E) Zerrin Güngör

27. Çin'in Wuhan kentinde ortaya çıkan, bu virüs nedeniyle milyonların hayatını kaybettiği, yüzlerce kişinin karantinaya alındığı virüs aşağıdakilerden hangisidir?

- A) Sars virüsü
B) İnfluenza virüsü
C) H1N1 Virüsü
D) Corona virüsü
E) H3N2 Virüsü

28. Dünya şehirlerini suç işleme oranlarına göre sıralayan araştırma firması Numbeo'nun açıkladığı verilere göre 2020'nin en güvenliği şehri Abu Dai hangi ülkededir?

- A) Katar
B) Maldiv Cumhuriyeti
C) İspanya
D) Finlandiya
E) Birleşik Arap Emirlikleri

29. Aşağıda verilen ülkelerden hangisi 2023 yılında dünya ekonomisinin yarısından fazlasına sahip olması ve dünya ekonomisini kontrol etmesi öngörülen ülkelerinden biri değildir?

- A) Çin
B) Türkiye
C) Japonya
D) Rusya
E) Hindistan

30. 2021 yılı AB dönem başkanlığını yürütecek ülkeler aşağıdakilerden hangisidir?

- A) Portekiz - Almanya
B) Macaristan - Fransa
C) Portekiz - Slovenya
D) Polonya - Slovenya
E) Danimarka - Belçika

EKPSS MEBÖZEL

CEVAP ANAHTARLARI

GENEL YETENEK

- | | | | | |
|------|-------|-------|-------|-------|
| 1) B | 7) B | 13) B | 19) A | 25) D |
| 2) B | 8) D | 14) D | 20) A | 26) D |
| 3) D | 9) C | 15) D | 21) B | 27) A |
| 4) D | 10) B | 16) A | 22) E | 28) D |
| 5) D | 11) C | 17) C | 23) D | 29) C |
| 6) D | 12) E | 18) D | 24) D | 30) B |

GENEL KÜLTÜR

- | | | | | |
|------|-------|-------|-------|-------|
| 1) B | 7) B | 13) A | 19) C | 25) A |
| 2) B | 8) E | 14) E | 20) C | 26) A |
| 3) C | 9) E | 15) B | 21) B | 27) D |
| 4) B | 10) E | 16) C | 22) C | 28) E |
| 5) D | 11) B | 17) D | 23) D | 29) C |
| 6) D | 12) A | 18) C | 24) E | 30) C |



ÖZEL EĞİTİM VE REHBERLİK HİZMETLERİ
GENEL MÜDÜRLÜĞÜ

MEBÖZEL
EKPS

ORTAÖĞRETİM
VE ÖN LİSANS



EKPSS MEBÖZEL DENEME SINAVI

Genel Yetenek - Genel Kültür

09





1. “Yatmak” kelimesi aşağıdaki cümlelerin hangisinde “boş yere beklemek” anlamında kullanılmıştır?

- A) Mallar uzun zamandır depoda yatıyordu.
- B) Bu gece de teyzemlerde yatalım diyoruz.
- C) Su almaya başlayan gemi yan yatmaya başladı.
- D) Zor bir gün geçirdiğim için erkenden yattım.
- E) Dün gece evde yatmadım.

Desem ki sen benim için,
Hava kadar lazım,
Ekmek kadar mübarek,
Su gibi aziz bir şeysin;
Nimettensin, nimettensin!

Cahit Sıtkı TARANCI

2. Bu dizelerdeki “ekmek” sözcüğünün sesteşi aşağıdakilerin hangisinde kullanılmıştır?

- A) Sabah kahvaltılarında fırında ısıtılmış ekmek gibisi yoktur.
- B) Tarlaya tohumları ekmek için gitti.
- C) Kimsenin ekmeğinde gözümüz yoktur, herkesçe biline.
- D) Ekmeğini taştan çıkaran bir kişi olarak bilinirdi etrafta.
- E) Bu işten artık ekmek kazanmak zor oldu.

(I) Güneş en güler yüzüyle yine dünyamızı selamlıyordu. (II) Etrafta koşuşturan çocukların neşesi gözlerinden belliydi. (III) Bu çocukların içinde öyle bir çocuk vardı ki diğerlerinden hemencecik ayrılıyordu. (IV) Ali; yeşil gözlü, nispeten uzun boylu ve yaşının üstünde olgunluk sergileyen bir çocuktur. (V) Arkadaşlarını görünce çok mutlu oluyordu.

3. Bu parçada numaralandırılmış cümlelerin hangisinde hayal ürünü bir durum söz konusudur?

- A) I B) II C) III D) IV E) V

4. Aşağıdaki cümlelerin hangisinde karşılaştırma yapılmıştır?

- A) Sabahın erken saatlerinde işinin başındaydı.
- B) Arkadaşını dün sokakta bekledi.
- C) Dalgın dalgın camdan dışarıya bakıyordu.
- D) Etraftaki gürültüden rahatsız olduğu belliydi.
- E) Bugün, en sevdiği kırmızı kazağını giymişti.

5. “Herhangi bir duruma alışkın olan kimseyi benzer kötü durumlar etkilemez.” anlamında kullanılan atasözü aşağıdakilerden hangisidir?

- A) Acı patıcanı kırağı çalmaz.
- B) Can çıkmayınca huy çıkmaz.
- C) Zahmetsiz rahmet olmaz.
- D) Yuvarlanan taş yosun tutmaz.
- E) Sakla samanı gelir zamanı

Benzetme, bir şeyin niteliğini anlatmak için o niteliği eksiksiz taşıyan bir şeyi örnek olarak göstermektir.

Örnek: Tüy gibi bir çocuktur.

6. Buna göre aşağıdaki cümlelerin hangisinde benzetme yapılmıştır?

- A) Öyle ya da böyle bu işi yapacağız.
- B) Sabaha kadar bebekler gibi uyumuşum.
- C) Karşıdan karşıya geçerken gördüm onu.
- D) Gökyüzündeki yıldızlar yanıp yanıp sönüyor.
- E) Bu işin olmayacağını söyledim.

ÖZEL EĞİTİM VE REHBERLİK HİZMETLERİ
GENEL MÜDÜRLÜĞÜ

Nesnel Cümle: Söyleyenin duygu ve düşüncelerinden arınmış, doğruluğu ya da yanlışlığı kişiden kişiye değişmeyen cümlelerdir.

7. Buna göre aşağıdakilerden hangisi nesnel cümledir?

- A) 10 Mart'ta yaşanan Güneş tutulması etrafı büyüleyici bir kızılığa bürüdü.
B) Perşembe günü saat 11.13'te yağın kar, kartpostalık manzaralar oluşturdu.
C) Bir bardak suda hidrojen ile oksijenin eşsiz dansının yansımalarını görebilirsiniz.
D) Yazarın en son romanı da 150 sayfadan oluşuyormuş.
E) Sevgi, dünyayı düzeltecek en muhteşem duygudur.

8. "Hiçbir hak size kendiliğinden verilmez, gücünüz yetiyorsa onu siz kendiniz alırsınız." diyen bir kişi için aşağıdakilerden hangisi söylenebilir?

- A) Azimli B) Çıkarıcı C) Bencil
D) Hayalci E) Sabırlı

9. Aşağıdaki cümlelerin hangisinde amaç-sonuç ilişkisi vardır?

- A) Çanakkale'de dünya diz çöktü önümüze.
B) Özgürlük, içimizde yanan bir alev gibi parıldar.
C) Tarihe adımızı kazımak için çok kan döktük.
D) Özgürlüğün kıymetini bilmek gerekir.
E) Güzel günler yakında gelecektir.

Çocuklarımız neleri sevmiyorlar ki...
Uçurtmayı seviyorlar söz gelişi,

Bir havalandı mı uçurtmaları
Daha da güzelleşiyorlar.
Maviliklerde gözleri
Özgürlüğü yaşıyorlar
Uçurtmalarla birlikte.

10. Bu şiire getirebilecek en uygun başlık aşağıdakilerden hangisidir?

- A) Renkler B) Neşe C) Özgürlük
D) Uçurtma E) Mavilik

Ayakkabıcı çırağı, ustasının verdiği ilk tamir işini hevesle yapmaya çalışıyordu. Heyecandan sürekli ellerine iğne batırıyor bu da canını çok yakıyordu. Daracık tamirci dükkânın içerisinde ustasının verdiği ilk işi yetiştirmek için çok çabaladı, çok emek verdi, çok da canı yandı ama sonuç da buna değdi doğrusu.

11. Bu parçada hikâye unsurlarından hangisi yoktur?

- A) Olay B) Kişi C) Yer
D) Zaman E) Kahraman

- I. Öğretmen kara tahtaya ismini yazdı.
II. Yoksul bir ailesi vardı.
III. Akşam eve misafir geldi.
IV. Ali sorulara yanlış cevap vermişti.

12. Aşağıda verilen seçeneklerdeki sözcüklerden hangisi yukarıda verilen cümlelerdeki altı çizili sözcüklerden herhangi birinin eş anlamlısı değildir?

- A) Endişe B) Fakir C) Konuk
D) Siyah E) Yanıt

13. "-lık" eki aşağıdaki sözcüklerden hangisinin sonuna getirilirse araç-gereç bildiren bir isim olur?

- A) Yok B) Sorumlu C) Öğretmen
D) Kulak E) Kış



14. "Topraklar emdikleri sularla ormanlara can verirler." cümlesinde geçen "can" sözcüğünün yerine aşağıdakilerden hangisi getirilebilir?

- A) Hayat B) Su C) Isı D) Işık E) Sevgi

Atasözlerinden bazıları gerçek, bazıları mecaz, bazıları ise hem gerçek hem mecaz anlamlıdır.

15. Aşağıdaki atasözlerinden hangisi sadece gerçek anlamlıdır?

- A) Ayağını yorganına göre uzat.
B) Mum dibine ışık vermez.
C) Bal tutan parmağını yalar.
D) İyilik eden iyilik bulur.
E) Sakla samanı gelir zamanı

$$32 - 8 : 4 - 3 \cdot 2$$

16. Yukarıdaki işlemin sonucunun 0 (sıfır) olması için hangi işlem parantez içine alınmalıdır?

- A) $32 - 8$ B) $8 : 4$ C) $4 - 3$
D) $3 \cdot 2$ E) $4 - 3 \cdot 2$

Erdem Bey evine aldığı buzdolabının ücretinin tamamını satıcıya 9 eşit taksit ile ödemiştir.


Erdem Bey'in buzdolabı için ödediği toplam tutar dört basamaklı $3 \blacktriangle 50$ doğal sayısına eşittir.

17. Buna göre \blacktriangle kaçtır?

- A) 1 B) 2 C) 3 D) 4 E) 5

18. K tam sayısının mutlak değeri 3'ten küçük olduğuna göre K'nin alabileceği kaç farklı değer vardır?

- A) 2 B) 3 C) 4 D) 5 E) 6



Yukarıdaki şemada \square içerisindeki sayılara \square içerisindeki işlemler uygulanıp elde edilen sonuç boş kutucuklara yazılacaktır.

19. Buna göre en sağdaki boş kutucuğa hangi sayı yazılmalıdır?

- A) 3 B) $\frac{5}{2}$ C) $\frac{5}{4}$ D) 1 E) 2

50 lira ile markete giden Hatice kilogramı 2,75 lira olan patatesten 7 kg ve kilogramı 1,35 lira olan undan 10 kg almıştır.

20. Hatice para üstü olarak kaç lira alır?

- A) 17,75 B) 19,75 C) 25,25
D) 32,75 E) 17,25

Bir bahçede 12 elma, 20 kayısı ve 16 armut ağacı vardır.

21. Bu bahçedeki armut ağaçlarının sayısının tüm ağaçların sayısına oranı kaçtır?

- A) $\frac{1}{2}$ B) $\frac{5}{12}$ C) $\frac{1}{3}$ D) $\frac{1}{4}$ E) $\frac{4}{2}$



Pelin'in yaşı Ömer'in yaşının 2 katı, Sevgi'nin yaşının 4 eksiklidir.

22. Ömer'in yaşı a olduğuna göre Sevgi'nin yaşını gösteren cebirsel ifade aşağıdakilerden hangisidir?

- A) $2a - 4$ B) $4a + 2$ C) $2a + 2$
D) $4a - 2$ E) $2a + 4$

Aşağıdaki tabloda bir ülkenin ithalat ve ihracat miktarlarının yıllara göre dağılımı verilmiştir.

Tablo: İhracat ve İthalat Miktarlarının Yıllara Göre Dağılımı

Yıllar	İhracat (Milyar Dolar)	İthalat (Milyar Dolar)
2015	135	241
2016	152	237
2017	152	252
2018	157	242

23. Buna göre aşağıdakilerden hangisi yanlıştır?

- A) İhracat miktarlarının ortalaması, ithalat miktarlarının ortalamasından azdır.
B) İthalat miktarlarından oluşan veri grubunun açıklığı ihracat miktarlarından oluşan veri grubunun açıklığından fazladır.
C) İthalat miktarlarının ortalaması 243 milyar dolardır.
D) İhracat miktarlarından oluşan veri grubunun açıklığı 22 milyar dolardır.
E) İthalatın açıklığı ihracatın açıklığından 7 eksiktir.

Bir ankete katılan kişilerin % 35'i "katılıyorum" cevabını vermiştir.

24. Ankete 200 kişi katıldığına göre "katılıyorum" cevabını veren kaç kişi vardır?

- A) 35 B) 60 C) 70 D) 105 C) 65

A = {KAHRAMANKAZAN kelimesinin harfleri}

B = {KAHRAMANMARAŞ kelimesinin harfleri}

kümeleri veriliyor.

25. Buna göre aşağıdakilerden hangisi doğrudur?

- A) $s(A) = 8$ B) $s(B) = 9$
C) $s(A \cap B) = 6$ D) $s(A \cup B) = 11$
E) $s(A) + s(B) = 12$

Bir tabak, içindeki eş kütleli 25 çikolata ile birlikte tartıldığında 400 gram, boşken tartıldığında 150 gram gelmektedir.

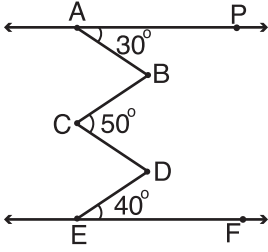
26. Buna göre çikolatalardan her biri kaç gramdır?

- A) 10 B) 15 C) 16 D) 20 E) 25

Bir manav demeti 35 kuruştan 80 demet maydanoz satın almıştır. Maydanozların 10 demetini taşıma sırasında çürüdüğü için atmıştır.

27. Manavın 14 lira kâr etmesi için kalan demetlerin tanesini kaç kuruşa satması gerekir?

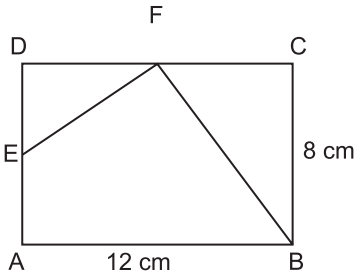
- A) 60 B) 55 C) 50 D) 40 E) 45



Şekilde $\overleftrightarrow{AP} \parallel \overleftrightarrow{EF}$, $m(\widehat{FCD}) = 30^\circ$, $m(\widehat{BCD}) = 50^\circ$,

28. $m(\widehat{DEF}) = 40^\circ$ olduğuna göre $m(\widehat{ABC}) + m(\widehat{CDE})$ kaç derecedir?

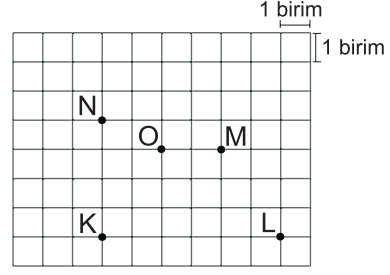
- A) 100 B) 110 C) 120 D) 140 E) 150



Kenar uzunlukları 12 cm ve 8 cm olan şekildeki dikdörtgende E ve F noktaları üzerinde buldukları kenarların orta noktalarıdır.

29. Buna göre AEFB dörtgeninin alanı kaç santimetrekaredir?

- A) 70 B) 60 C) 50 D) 40 E) 30



Kareli kâğıtta K, L, M, N, O noktaları verilmiştir.

Bir öğrenci pergelini iki ucu arasındaki uzaklık 3 birim olacak şekilde açarak pergelin iğneli ucunu kareli kâğıttaki O noktasına koyuyor ve merkezi O noktası olan bir çember çiziyor.

30. Aşağıdaki noktalardan hangileri çizilen bu çemberin iç bölgesinde yer alır?

- A) K ve L B) M ve K C) M ve N
D) N ve L E) M ve L



1. Türkiye Selçuklu Devleti'nin simgesi aşağıdakilerden hangisidir?

- A) Kurt B) Kılıç
C) Çift başlı kartal D) Aslan
E) Ok

2. Büyük Selçuklu Devleti'ni kuran Oğuz boyu aşağıdakilerden hangisidir?

- A) Kayı B) Avşar C) Bayat
D) Bayındır E) Kınık

- I. Asakir-i Mansure-i Muhammediyenin kurulması
II. İtfaiye teşkilatının kurulması
III. Takvim-i Vekayi gazetesinin çıkarılması
IV. Ziraat Bankasının kurulması
V. Yeniçeri Ocağı'nın kaldırılması

3. Yukarıdakilerden hangisi kültürel alanda yapılan bir ıslahattır?

- A) I B) II C) III D) IV E) V

Osmanlı Devleti'nin I. Dünya Savaşı'ndan sonra İtilaf Devletleri ile imzaladığı Mondros Ateşkes Anlaşması'na göre ' Osmanlı ordusu dağıtılacak, silahlar İtilaf Devletlerine verilecektir'.

4. İtilaf Devletleri böyle bir maddeyi koyarak aşağıdakilerden hangisini amaçlamışlardır?

- A) Osmanlıyı tekrar eski gücüne kavuşturmak
B) Osmanlı ordusunu güçlendirmek
C) Osmanlı'nın eğitim seviyesini arttırmak
D) Osmanlı topraklarını daha kolay ele geçirmek
E) Osmanlı ekonomisini geliştirmek

5. Seyyahların yazmış olduğu kitaplara ne ad verilirdi?

- A) Nutuk B) Risale C) Seyahatname
D) Sefaretname E) Siyasetname

- I. Namık Kemal
II. Mehmet Emin Yurdakul
III. Ziya Gökalp

6. Yukarıdaki yazarlardan hangileri Mustafa Kemal'in fikri yapısı üzerinde etkili olmuştur?

- A) Yalnız I. B) Yalnız III. C) I ve II.
D) II ve III. E) I, II ve III.

7. Mustafa Kemal milli mücadeleyi başlatmak amacıyla 19 Mayıs 1919 tarihinde aşağıdaki şehirlerden hangisine ayak basmıştır?

- A) Kastamonu B) Rize
C) Samsun D) Trabzon
E) Sinop

8. Aşağıdakilerden hangisi Kurtuluş savaşında savaştığımız cephelerden biridir?

- A) Galicya Cephesi
B) Batı Cephesi
C) Makedonya Cephesi
D) Kanal Cephesi
E) Hicaz-Yemen Cephesi



Halkçılık; bütün vatandaşların yasalar önünde eşit olmalarını, devlet imkânlarından eşit olarak yararlanmalarını esas alan ve her türlü ayrımcılığı reddeden Atatürk ilkesidir.

9. Buna göre aşağıdaki uygulamalardan hangisi Atatürk'ün halkçılık ilkesine göre hareket edildiğinin göstergesidir?

- A) Millî kültürün korunması ve geliştirilmesi
- B) Büyük yatırımların devlet tarafından gerçekleştirilmesi
- C) Dünyadaki bilimsel ve teknolojik gelişmelerin takip edilmesi
- D) Sosyal ve ekonomik alanda kadınlara erkeklerle aynı hakların sağlanması
- E) Fabrikaların kurulması

10. Aşağıdakilerden hangisi hukuk alanında yapılan inkılaplardan biridir?

- A) Cumhuriyetin İlanı
- B) Şapka Kanunu ve Kıyafette Değişim
- C) Türk Medeni Kanunu'nun Kabul Edilmesi
- D) Halifeliğin Kaldırılması
- E) Tekke, Zaviye ve Türbelerin Kapatılması

11. Yeni alfabenin öğretilmesi için açılan okullar aşağıdakilerden hangisidir?

- A) Medreseler
- B) Darül Fünun
- C) Ziraat Mektepleri
- D) Hukuk Mektepleri
- E) Millet Mektepleri

12. Türkiye Cumhuriyeti Hatay sorununu hangi ülkeyle yaşamıştır?

- A) İsviçre
- B) İngiltere
- C) Çin
- D) Fransa
- E) Almanya

13. Mustafa Kemal Atatürk'e 'Gazilik Unvanı' ve 'Mareşallik Rütbesi' hangi savaş sonrası verilmiştir?

- A) Sakarya Savaşı
- B) I. İnönü Muharebesi
- C) II. İnönü Muharebesi
- D) Trablusgarp Savaşı
- E) 93 Harbi

14. Aşağıdakilerden hangisi bir madenin işletilmesi için gerekli koşullardan değildir?

- A) Rezervinin yeterli miktarda olması
- B) Saf metal oranının yüksek olması
- C) İklim koşullarından etkilenmemesi
- D) Çıkarılma ve taşıma masrafının az olması
- E) Gerekli sermaye ve teknolojinin olması

15. Aşağıdakilerden hangisi Türkiye'de pamuklu dokuma sanayinin en fazla geliştiği şehirlerden biridir?

- A) Konya
- B) Karaman
- C) Aksaray
- D) Adana
- E) Niğde

16. Aşağıdakilerden hangisi ulaşım faaliyetleri üzerinde etkili olan doğal faktörlerden biridir?

- A) İş gücü
- B) Su kaynakları
- C) Sanayi üretimi
- D) Sermaye birikimi
- E) Teknolojik gelişmeler



17. Diğer ülkelerde kaliteli ve ucuz mallar üretilmesine karşın yerli üretimi korumak için mal alımında uygulanan sınırlamaya ne ad verilir?

- A) Kambiyo B) Dış ticaret C) Kota
D) İthalat E) İhracat

18. Aşağıda verilen göllerden hangisi doğal set gölü değildir?

- A) Uzungöl B) Tortum
C) Van D) Küçük Çekmece
E) Atatürk

19. Aşağıdakilerden hangisi Türkiye’de bulunan zonal topraklardan değildir?

- A) Tundra
B) Terra rossa
C) Kahverengi orman
D) Çemozyom
E) Kestane renkli bozkır

20. Kanunlara karşı Anayasa Mahkemesi’ne esastan iptal davası açma süresi kaç gündür?

- A) 10 B) 15 C) 25 D) 30 E) 60

21. “Beyan ve eylemlerinden dolayı partisinin kapatılmasına sebep olan milletvekilinin vekilliği düşer” ifadesi hangi yıl yapılan değişiklikle kaldırılmıştır?

- A) 2004 B) 2007 C) 2010
D) 2017 E) 2014

22. TBMM tatil veya ara verme iken ülke ani bir saldırıya uğrarsa silahlı kuvvetlerin kullanılmasına aşağıdakilerden hangisi karar verebilir?

- A) TBMM Başkanı
B) Genelkurmay Başkanı
C) Milli savunma Bakanı
D) Cumhurbaşkanı
E) İçişleri Bakanı

- I- Anayasa Mahkemesi
II- Danıştay
III- HSK

23. 1982 Anayasasına göre Cumhurbaşkanı yukarıda verilenlerden hangilerine üye seçer?

- A) I B) II C) III D) I-II E) I-II-III

24. 1982 Anayasasına göre aşağıdakilerden hangisi Yüce Divanda yargılananlar arasında yer almaz?

- A) Genelkurmay Başkanı
B) Milli savunma Bakanı
C) Anayasa Mahkemesi Üyeleri
D) Kara Kuvvetleri Komutanı
E) Milletvekilleri

25. Aşağıdakilerden hangisi seçimle başa gelmez?

- A) Cumhurbaşkanı
- B) Belediye başkanı
- C) Köy muhtarı
- D) Mahalle muhtarı
- E) Vali

26. “Kudüs Şairi” olarak tanıdığımız şair/ yazar aşağıdakilerden hangisidir?

- A) Cahit Zarifoğlu
- B) Abdürrahim Karakoç
- C) Nuri Pakdil
- D) Nurettin Topçu
- E) Cemil Meriç

27. Cumhurbaşkanı kararnamesiyle milli park olmaktan çıkarılan Göreme Vadisi hangi şehrimizdedir?

- A) Kastamonu
- B) Bartın
- C) Konya
- D) Nevşehir
- E) Kırşehir

28. 2021 yılı Borsa İstanbul Genel Müdürü (BİST) görevini yürüten isim aşağıdakilerden hangisidir?

- A) Prof. Dr. Erişah Arıcan
- B) Murat Uysal
- C) Murat Çetinkaya
- D) Doç. Dr. Erdem Başçı
- E) Mehmet Hakan Atilla

29. Osmanlı Devleti'nin kurucusu Osman Gazi'nin babaannesi olan, aynı zamanda devletin kuruluşunda oynadığı hayati rol dolayısıyla “Devlet Ana” olarak bilinen kahraman Türk kadını aşağıdakilerden hangisidir?

- A) Nene Hatun
- B) Şerife Bacı
- C) Halime Çavuş
- D) Hayme Ana
- E) Fatma Seher Erden

30. UNESCO 2021 Dünya Kitap Başkenti ilan edilen şehir aşağıdakilerden hangisidir?

- A) Batum
- B) Tiflis
- C) Astana
- D) İzmir
- E) Bakü

EKPSS MEBÖZEL

CEVAP ANAHTARLARI

GENEL YETENEK

- | | | | | |
|------|-------|-------|-------|-------|
| 1) A | 7) D | 13) D | 19) B | 25) C |
| 2) B | 8) A | 14) A | 20) E | 26) A |
| 3) A | 9) C | 15) D | 21) C | 27) A |
| 4) E | 10) D | 16) A | 22) E | 28) C |
| 5) A | 11) D | 17) A | 23) B | 29) B |
| 6) B | 12) A | 18) D | 24) C | 30) C |

GENEL KÜLTÜR

- | | | | | |
|------|-------|-------|-------|-------|
| 1) C | 7) C | 13) A | 19) A | 25) E |
| 2) E | 8) B | 14) C | 20) E | 26) C |
| 3) C | 9) D | 15) D | 21) C | 27) D |
| 4) D | 10) C | 16) B | 22) D | 28) E |
| 5) C | 11) E | 17) C | 23) E | 29) D |
| 6) E | 12) D | 18) E | 24) E | 30) B |



ÖZEL EĞİTİM VE REHBERLİK HİZMETLERİ
GENEL MÜDÜRLÜĞÜ

MEBÖZEL
EKPS

ORTAÖĞRETİM
VE ÖN LİSANS



EKPSS MEBÖZEL DENEME SINAVI

Genel Yetenek - Genel Kültür

10



Annesi, Arda'nın kazandığı parayı yatağın altından çıkardı ve saydı. Yüzünde hafif bir gülümsemeyle "Bu para senin okul ihtiyaçlarını karşılar; yarın uyu, kalkmana gerek yok." dedi. Arda'nın yarın için başka bir planı vardı. Sabah yine erkenden kalktı. Cüssesinden büyük boya sandığını sırladı ve her zaman olduğu gibi kardeşinin yanağına bir öpücük kondurarak evden çıktı. Bugün, diğer günlerden farklıydı; son kez ayakkabı boyayacaktı. Okul için gereken parayı biriktirmişti. Sadece kardeşine bir hediyeye almak için çıkmıştı.

1. Bu paragraf aşağıdaki türlerden hangisinden alınmış olabilir?

- A) Masal B) Anı C) Öykü
D) Deneme E) Makale

2. "Gitmek" sözcüğü aşağıdaki cümlelerin hangisinde yay ayrıç içindeki anlamıyla kullanılmamıştır?

- A) Elinde avucunda ne varsa gitti. (Yok olmak)
B) Yeni aldığı evin duvarlarında yer yer gitmiş boyaları fark etti. (Zarar görmüş olmak.)
C) Dün başlayan yolculuk hâlâ iyi gidiyor. (Yeterli olmak)
D) Kazandığı tüm para çocukların okul ihtiyacına gidiyor. (Harcamak, tüketmek)
E) Sen evden gidince içimi hüznü kapladı. (ayrılınca)

3. Aşağıdakilerin hangisinde "Herkesi bir-den gelen sıkıntı ve felakete katlanmak, yalnızca bir kişiye gelene katlanmaktan daha kolaydır." anlamına gelen bir atasözü vardır?

- A. El ile gelen düğün bayram.
B) Dostun attığı taş baş yamaz.
C) El kazanyla aş kaynamaz.
D) Ev alma komşu al.
E) İşleyen demir ışıldar.

4. Aşağıdaki cümlelerde geçen deyimlerden hangisinin anlamı yanlış verilmiştir?

- A) Yaşlı adam yıllardır memleket hasreti çekiyormuş. (Özlem duymak)
B) Çalışmalarıyla öğretmenin gözüne girdi. (Takdir toplamak)
C) Annem, yaptığı her işte kılı kırk yaran biridir. (Titizlenmek)
D) Yaptığı şakalar artık kabak tadı vermeye başladı. (Biktirmek, usandırmak)
E) Haftalardır hazırlanmayı ertelediği sınav sonunda geldi çatı. (Bir işi yapmayı ertelemek)

5. Aşağıdaki öğrencilerden hangisinin söylediği cümle kanıtlanabilirlik (nesnel öznel) açısından farklıdır?

- A) Ali: İnsan okuduğu her kitapla yeni bir dünyanın kapısını aralar.
B) Ece: Şartlar ne olursa olsun, bu sınavdan en yüksek notu almak istiyorum.
C) Şevket: Size bu kasabada yaşadığım en güzel anıyı anlatmak istiyorum.
D) Sevgi: Yıllar sonra ilkokul öğretmenimle eski evimizin önünde karşılaştım.
E) Özgür: Amasra'nın güzelliği karşısında büyüleneceğimi düşünmüştüm.

İyi dostlar yıldızlar gibidir, her zaman görmesek de orada olduklarını biliriz.

6. Aşağıdakilerden hangisi bu cümle ile yakın anlamdadır?

- A) Kilometrelerce ötede olsa da aynı gökyüzünü paylaştığımız sürece dostumuz yanı başımızdadır.
B) Birbirimizin küçük kusurlarını hoş görmezsek arkadaşlıktan bir şey anlayamayız.
C) En iyi dost, senin kusurunu yüzüne söyleyendir.
D) Hakiki arkadaşlık sağlıktan farksızdır, kıymeti ancak elden gittikten sonra anlaşılır.
E) Dostluklar engel ve mesafe tanımaz derler ama dostlarla yakın olmazsak aradaki bağ zayıflayabilir.

ÖZEL EĞİTİM VE REHBERLİK HİZMETLERİ
GENEL MÜDÜRLÜĞÜ

Hastanede yüksek sesle konuşanlardan çok rahatsız oluyorum.

- Hava serinlemeye başladı, hırkanı giyebilirsin.
- Bulutlar artıyor, yağmur yağabilir.
- Okuduğum en güzel kitap bu.
- Tut ki ödevini bitiremedin.

7. Bu cümlelerde aşağıdaki anlam özelliklerinden hangisi yoktur?

- A) Beğeni B) Yakınma C) Tahmin
D) Pişmanlık E) Varsayım

Sıcak bir İstanbul günü... Balık istifi denecek kadar kalabalık şirket vapuru ... Yolculuk esnasında arada karşılaşılıp selamlaşan üç eski okul arkadaşı, vapurun bir kenarına çökmüş sohbet etmektedir. Sohbetleri başta babalarının sefasını sürdürdüğü eski güzel İstanbul üzerindedir. Kahramanın arkadaşlarından şişman, kumral olanı eski İstanbul'da yaşamak istediğini belirtir. İsmi tam hatırlayamadığı Gülhane Rüştiyesinden tanıştığını düşündüğü diğer arkadaş da bu muhabbeti onaylayarak devam ettirir. İki arkadaş İstanbul'un güzelliği Boğaz'ın eğlencelerine imrenmektedir.

8. Bu parçadaki altı çizili söz grubu aşağıdaki hikâye unsurlarından hangisiyle ilgili bilgi vermektedir?

- A) Zaman B) Kişi C) Yer
D) Olay E) Ana düşünce

Yaylada şenlik var. Çevrede yaşayanlar buraya özgü en güzel giysilerini giymiş ve yaylaya çıkmış. Kemençe ve tulumu neşeyle çalan müzisyenler ve Karadeniz'in hareketli danslarından biri olan horonu oynayanlar da yaylada... İlık ılık esen rüzgâr, havadaki nemi hissettirmeden yüzümüzü okşuyor. Herkesin keyfi yerinde bugün. Çevrede mis gibi simit kokusu yayılıyor.

9. Bu metinde aşağıdaki duyulardan hangisiyle ilgili bir ayrıntıya yer verilmemiştir?

- A) Görme B) İşitme C) Tatma
D) Dokunma E) Koklama

Dünya, güneş, ay kelimeleri gezegen anlamı dışında kullanıldıklarında küçük harfle başlar.

10. Buna göre aşağıdaki seçeneklerin hangisinde bu kurala uyulmamıştır?

- A) Ona öyle kızgınım ki dünya bir araya gelse barışmam.
B) Bu evi bütün gün güneş aldığı için seçtik.
C) Dayımın teleskopu ile ay tutulmasını izlemek çok keyifliydi.
D) Bugün Dünya'nın yörüngesindeki uzay araçları ile ilgili bir ödev hazırladım.
E) Sen benim hayatıma güneş gibi girdin.

Herhangi bir olay ya da durumla ilgili memnuniyeti, iyi ve güzel düşünceleri anlatan cümlelere "beğeni cümlesi" denir.

11. Aşağıdakilerden hangisi beğeni cümlesi değildir?

- A) Dün akşam izlediğimiz macera filmi çok keyifliydi.
B) Yarınki partinin de çok güzel geçeceğini umuyorum.
C) Annemin pastası çok lezzetli olmuş, bayıldım.
D) Sergideki tablolar çok ustaca yapılmıştı.
E) Romandaki kurgu çok güzel olmuş.

(I) Çürük Yumurta kentinin en gevezeleri kimlermiş, biliyor musunuz? (II) Nereden bileceksiniz, hadi ben söyleyeyim. (III) Günlerini kent meydanlarındaki sakız ağacında çan çan konuşarak geçiren iki kargaymış. (IV) Kent halkı bu iki karganın sinir bozucu konuşmalarından usanmış, çareyi meydandan kilometrelerce uzağa taşınmakta bulmuş. (V) Bu kargalar herkesi sesleriyle bıktırmış.

12. Bu parçada numaralanmış cümlelerin hangisinde karşılaştırma vardır?

- A) I B) II C) III D) IV E) V



Beklenmeyen bir durumla karşılaştığında dile getirilen hayret duygusunu ifade eden cümlelere şaşırma cümleleri denir.

13. Buna göre aşağıdaki cümlelerin hangisinde “şaşıрма” anlamı vardır?

- A) Evdeki eksikleri tamamlamak için alışverişe çıkmış.
B) Bu kadar eşyayı tek başına mı taşıdın gerçekten?
C) Havanın yağmurlu olmadığı bir gün parka gidelim mi?
D) Yıllardır görmediğim memleketim burnumda tütüyor.
E) Okulun o güzel havası beni benden alıyor.

Bugünlerde canım çok sıkılıyor. Kitap okumazsam bu sıkıntıyı üzerimden atamıyorum. Kitaplar farklı diyarlara götürüyor beni. Yeni yeni yerler, insanlar... Meğer keşfedecek ne kadar çok şey varmış.

14. Bu parçanın ana fikri aşağıdakilerden hangisidir?

- A) Sıkıntı, keşfetmeyi engeller.
B) Kitap, insana yeni kapılar açar.
C) Gezerek çok şey öğrenebiliriz.
D) Kitap okumak geçici bir hevestir.
E) Kitap okumak gözleri yorar.

Bir şeyin niteliğini anlatmak için o niteliği eksiksiz taşıyan bir şeyi örnek olarak göstermeye “benzetme” denir.

Buna göre: Güzel günler bir geldi mi üç dört hafta aralıksız sürüp gider; akşamlar ılık, geceler sıcaktır. Yıldızlar gökten birer dost gibi sevgiyle göz kırparlar. Bereketli yaz yağmuru yağdı mı çabuk ve bol yağar, yerde sevinçle zıplar, ansızın sevinmiş bir insanın iri ve ılık gözyaşlarına benzer. Durur durmaz da güneş yine ışıklı ve tatlı sevgisiyle tarlaları, tepeleri kucaklayıp kurutur; bütün ülke mutlulukla gülümseyerek ona kollarnı açar.

15. Metinde yıldızlar ve yağmur neye benzetilmiştir?

- A) Dost – Gözyaşı B) Dost – İnsan
C) Güneş - İnsan D) Gözyaşı – Güneş
E) Dost- Güneş

$$33 \cdot (57 + \blacksquare) = 33 \cdot \blacktriangle + 33 \cdot 7$$

16. Yukarıdaki eşitliğe göre $\blacktriangle + \blacksquare$ kaçtır?

- A) 43 B) 50 C) 64 D) 67 E) 71

Ayşe Hemşire 6 günde bir Fatma Hemşire 8 günde bir nöbet tutmaktadır.

17. İkiisi birlikte nöbet tuttuktan en az kaç gün sonra tekrar birlikte nöbet tutarlar?

- A) 48 B) 24 C) 16 D) 12 E) 10

18. $-7, 0, +12, -3, -21, +9$ tam sayılarından kaç tanesi -4 'ten küçüktür?

- A) 2 B) 3 C) 4 D) 5 E) 6

Bir kasadaki 2500 lira paranın $\frac{2}{5}$ 'si çalışanlara veriliyor ve $\frac{3}{25}$ 'ü de diğer giderlere harcanıyor.

19. Bu kasada geriye kaç lira para kalır?

- A) 1100 B) 1200 C) 1300
D) 1400 E) 1500

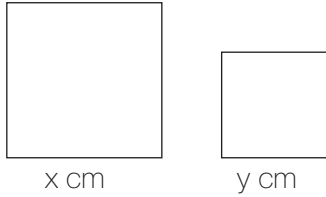
60 litre zeytinyağının 11,7 litresi harlandıktan sonra kalan kısmı 2,1 litrelik boş şişeleri tamamen dolduracak şekilde paylaştırılmıştır.

20. Bu iş için kaç şişe kullanılmıştır?

- A) 26 B) 25 C) 24 D) 21 E) 23

21. Aşağıda verilen oranlardan hangisi birimsizdir?

- A) $\frac{150 \text{ cm}}{42 \text{ kg}}$ B) $\frac{300 \text{ km}}{4 \text{ sa}}$ C) $\frac{25 \text{ kg}}{38 \text{ kg}}$
D) $\frac{7 \text{ m}}{90 \text{ sn}}$ E) $\frac{15 \text{ kg}}{10 \text{ dk}}$



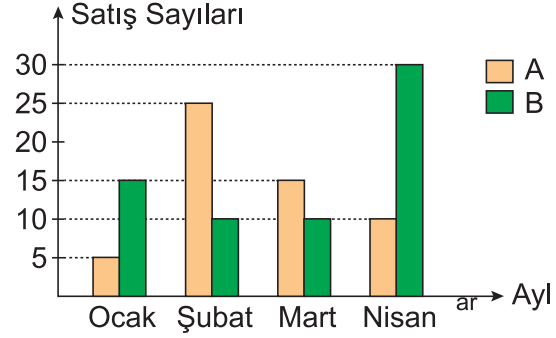
Yukarıda kenar uzunlukları x cm ve y cm olan kareler verilmiştir.

22. Bu iki karenin çevrelerinin uzunlukları toplamını santimetre cinsinden gösteren cebirsel ifade aşağıdakilerden hangisidir?

- A) $2x + y$ B) $3x + 3y$ C) $2x + 2y$
D) $x + y$ E) $4x + 4y$

Aşağıdaki grafikte bir mağazada satılan A ve B marka ürünlerin yılın ilk dört ayındaki satış sayıları gösterilmiştir.

Grafik: Ürünlerin Satış Sayıları



23. Buna göre hangi ay A ve B marka ürünlerin satış sayılarının açıklığı en küçüktür?

- A) Ocak B) Şubat C) Mart
D) Nisan E) Ocak ve Mart

Mustafa ve Sabri 140 000 lira sermaye ile bir şirket kurmuşlardır.

Bu sermayenin % 60'ını Sabri, kalanını Mustafa vermiştir.

24. Buna göre Mustafa kaç lira vermiştir?

- A) 56 000 B) 60 000
C) 64 000 D) 68 000
E) 58 000

Bir ressamın yaptığı doğa ve sayılar temalı iki farklı resim açık artırmayla satılacaktır.

Aşağıda açık artırmaya başvuranların tamamını gösteren liste verilmiştir.

	Doğa Temalı Resim	Sayılar Temalı Resim
Uğur Yıldırım	✓	✗
Bülent Kenan	✓	✓
Kerem Deniz	✗	✓
Hülya Çetin	✓	✗
Ayşe Kazan	✗	✓
Selda Çiçek	✓	✓
Mustafa Sarıgöz	✓	✗
Kaan Doruk	✗	✓
Eylül Aslan	✓	✗

25. Doğa temalı resim için açık artırmaya başvuranların oluşturduğu küme A, sayılar temalı resim için açık artırmaya başvuranların oluşturduğu küme B olduğuna göre aşağıdakilerden hangisi yanlıştır?

- A) $s(A) = 6$
 B) $s(B) = 5$
 C) $s(A \cap B) = 3$
 D) $s(A \cup B) = 9$
 E) $s(A) + s(B) = 11$

10. Üç arkadaş aynı kitaptan birer tane sipariş vermiştir. Tek paket içinde gelen bu sipariş için 7 TL kargo ücreti dahil olmak üzere toplam 49 TL ödenmiştir.

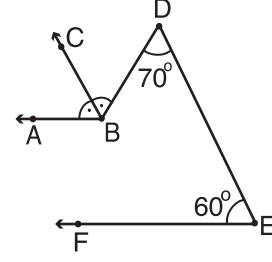
26. Buna göre bir kitabın fiyatı kaç liradır?

- A) 12 B) 13 C) 14 D) 15 E) 16

Elif 20 dakikada 4 m², Fatma 30 dakikada 5 m² halı dokuyabiliyor.

27. Aynı anda hiç ara vermeden halı dokumaya başlayan Elif ile Fatma 8 saat sonra toplam kaç metrekare halı dokurlar?

- A) 124 B) 144 C) 176 D) 196 E) 212



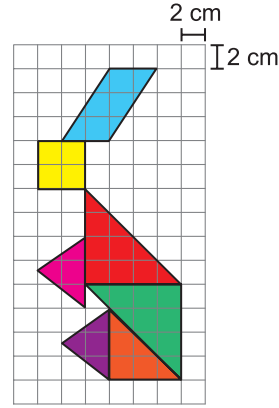
Şekilde $[BA \parallel [EF$ ve $[BC$, \widehat{ABD} 'nin açıortayıdır.

28. $m(\widehat{FED}) = 60^\circ$, $m(\widehat{EDB}) = 70^\circ$ olduğuna göre

$m(\widehat{ABC})$ kaç derecedir?

- A) 75 B) 70 C) 65 D) 60 E) 55

EKPSS MEBÖZEL



29. Bir kenarının uzunluğu 2 cm olan karelerden oluşan kareli kâğıtta verilen şeklin kapladığı toplam alan kaç santimetrekaredir?

- A) 134 B) 138 C) 146 D) 148 E) 152

30. Uzunluğu 96 cm olan bir çemberin üzerinde yer alan iki nokta arasındaki uzaklık en fazla kaç santimetredir? (π yerine 3 alın.)

- A) 8 B) 16 C) 24 D) 32 E) 20



1. Ahilik kim tarafından kurulmuştur?

- A) Yunus Emre B) İbn-i Bibi
C) Sadrettin Konevi D) Necmeddin Razi
E) Ahi Evran

2. Divriği Ulu Cami ve Darüşşifası hangi beyliğin eserleridir?

- A) Mengücekliler B) Saltuklular
C) Danişmentliler D) Artuklular
E) Çaka Beyliği

3. Mustafa Kemal'in, Çanakkale Savaşı'nda düşmanın nereden çıkarılacağını bilmesi hangi kişilik özelliğini gösterir?

- A) Yenilikçiliği B) İleri Görüşlülüğü
C) İnsan Sevgisi D) Eğitime verdiği önem
E) Kararlılığı

4. Aşağıdakilerden hangisi divan üyesi değildir?

- A) Kazasker B) Defterdar
C) Sadrazam D) Yeniçeri
E) Şeyhülislam

5. Aşağıdaki devirlerin hangisinde matbaa Osmanlı Devleti'nde kullanılmaya başlanmıştır?

- A) Kuruluş Devri B) Fetret Devri
C) Lale Devri D) Yükseliş Devri
E) Dağılma Devri

6. Hıfzıssıhha Enstitüsü'nün açılması hangi alanda yapılan bir inkılaptır?

- A) Eğitim B) Kültür C) Sağlık
D) Ekonomi E) Siyasi

7. Aşağıdakilerden hangisi Atatürk'ün eserlerinden biri değildir?

- A) Nutuk
B) Geometri kitabı
C) Vatandaş için medeni bilgiler
D) Siyasetname
E) Cumalı Orduğâhı

8. Lozan Barış Antlaşmasında çözümlenen nüfus mübadelesi sorunu ile hangi iki millet yer değiştirmiştir?

- A) Ruslar-Türkler
B) Çinliler-Türkler
C) Rumlar-Türkler
D) Gürcüler-Türkler
E) Ermeniler-Türkler

9. Yeni Türk Devleti'nin ilk anayasası aşağıdakilerden hangisidir?

- A) Sened-i İttifak
B) Magna Carta
C) Teşkilat-ı Esasiye
D) Tanzimat Fermanı
E) Fatih Kanunnamesi

10. Yeni Türk Devleti'nin ilk siyasi partisi aşağıdakilerden hangisidir?

- A) Terakkiperver Fırkası
B) Ahali Fırkası
C) Cumhuriyet Halk Fırkası
D) Hürriyet ve İtilaf Fırkası
E) Milli Ahrar Fırkası

- I. Selânik Mülkiye Rüştiyesi
II. İstanbul Harp Akademisi
III. Mahalle Mektebi
V. Şemsi Efendi İlkokulu

11. Yukarıda yer alan Mustafa Kemal'in öğrenim gördüğü okullardan hangileri askeri okuldur?

- A) Yalnız I.
B) Yalnız II.
C) II ve IV.
D) I, III ve IV
E) I ve II



12. Türkiye Cumhuriyeti'nin kurucusu aşağıdakilerden hangisidir?

- A) İsmet İnönü
- B) Mustafa Kemal Atatürk
- C) Kazım Karabekir
- D) Celal Bayar
- E) Ali Fuat Cebesoy

13. Aşağıdakilerden hangisi yararlı cemiyetlerdendir?

- A) Pontus Rum Cemiyeti
- B) İzmir Müdafaaı Hukuk Cemiyeti
- C) Mavri Mira Cemiyeti
- D) Hınçak Taşnak Cemiyeti
- E) Etniki Eteryä Cemiyeti

14. Aşağıdakilerden hangisi Türkiye'yi doğrudan ilgilendiren sorunlardan biri değildir?

- A) Suriye Sorunu
- B) Kıbrıs Sorunu
- C) Filistin Sorunu
- D) Batı Trakya Sorunu
- E) Ege Denizi'ndeki Kıta Sahaneliği Sorunu

15. Erciyes dağındaki kalıcı karların kuzey yamaçlarda daha aşağılara inmesi hangi faktörün etkisiyle açıklanabilir?

- A) Yükselti
- B) Karasallık
- C) Eğim
- D) Baki
- E) Enlem

16. "Yaşadığım kentte koy ve körfezler fazla değil iken gittiğim kentte daha fazla koy ve körfez gördüm." diyen bir kişi nereden nereye gitmiştir?

- A) Antalya - Adana
- B) İstanbul - Çanakkale
- C) Rize - İzmir
- D) Bursa - Adapazarı
- E) Sinop - Antalya

17. Ülkemizin bazı yerlerinde tünellere, viyadüklere ve köprülerin yapımına daha fazla ihtiyaç duyulmasını beşerî coğrafyanın hangi alt dalı inceler?

- A) Tarım Coğrafyası
- B) Nüfus Coğrafyası
- C) Ulaşım Coğrafyası
- D) Turizm Coğrafyası
- E) Yerleşme Coğrafyası

18. Aşağıdakilerden hangisi demir madeninin çıkartıldığı yerlerdendir?

- A) Emet (Kütahya)
- B) Ereğli (Zonguldak)
- C) Susurluk (Balıkesir)
- D) Divriği (Sivas)
- E) Borçka (Artvin)

19. Aşağıda verilenlerden hangisi petrol rafinerilerimizden biri değildir?

- A) İzmir—Aliağa
- B) Batman—Batman
- C) İzmit—İpraş
- D) Kırıkkale—Orta Anadolu
- E) İstanbul—Ambarlı



20. Yeni bir mahkemenin kurulması hakkında kanun teklifini en az kaç milletvekili verir?

- A) 1 B) 20 C) 60 D) 139 E) 151

21. TBMM seçim tutanakları ile Cumhurbaşkanı seçim tutanaklarını kabul etme yetkisi aşağıdakilerden hangisine aittir?

- A) İl Seçim Kurulu
B) Yüksek Seçim Kurulu
C) HSK
D) Anayasa Mahkemesi
E) Yargıtay

22. 1982 Anayasasına göre Devlet Denetleme Kurulu başkanını aşağıdakilerden hangisi seçer?

- A) TBMM Başkanı
B) Adalet bakanı
C) Cumhurbaşkanı
D) Cumhurbaşkanı Yardımcısı
E) İçişleri Bakanı

23. 1982 Anayasasına göre TBMM adına başkomutanlık yetkisi aşağıdakilerden hangisi tarafından temsil olunur?

- A) TBMM Başkanı
B) Genelkurmay Başkanı
C) Milli Savunma Bakanı
D) Cumhurbaşkanı
E) Jandarma Genel Komutanı

24. 1982 Anayasasına göre Anayasa Mahkemesine üye yaşı kaçtır?

- A) 18 B) 25 C) 30 D) 40 E) 45

I-Sözleşmeli Personel

II-Memur

III-Kamuda çalışan İşçiler

IV-Geçici personel

25. Yukarıda verilenlerden hangileri kamu görevlileri arasında yer alır?

- A) I-II B) I-II-III C) III-IV
D) I-II-IV E) I-II-III-IV

26. 2021 yılı Türk Silahlı Kuvvetleri Genelkurmay Başkanı görevini yürüten isim aşağıdakilerden hangisidir?

- A) Hasan Küçükakyüz
B) Adnan Özbal
C) Hulusi Akar
D) Yaşar Güler
E) Metin Gürak

27. Opera, müzikal ve senfonik orkestra besteleri bulunan, aynı zamanda Azerbaycan Milli Marşı'nın da müziğine imza atan, Türk ve İslam dünyasında ilk opera bestecisi olarak anılan isim aşağıdakilerden hangisidir?

- A) Aydın Gün
B) Semiha Berksoy
C) Üzeyir Hacıbeyli
D) Leyla Gencer
E) Cenk Karaferya



28. Ülkesini inatçı ve cesur bir şekilde savunması, onun “Medîne Müdâfii”, “Türk Kaplanı”, “Çöl Kaplanı”, “Medine Kahramanı” lakapları ile anılmasını sağlayan Osmanlı komutanı aşağıdakilerden hangisidir?

- A) Fahreddin Paşa
- B) Cemâl Paşa
- C) Enver Paşa
- D) Mahmud Şevket Paşa
- E) Gazi Osman Paşa

29. 2020 yılı G20 dönem başkanı ülke aşağıdakilerden hangisidir?

- A) Türkiye
- B) Rusya
- C) Almanya
- D) Japonya
- E) Suudi Arabistan

30. Sağlık Bakanlığı ve UNICEF işbirliğinde anne sütünün teşviki ve bebek dostu sağlık kuruluşları programı kapsamında “Altın Bebek Dostu İl” unvanı verilen şehir aşağıdakilerden hangisidir?

- A) Ankara
- B) Bolu
- C) İzmir
- D) Mersin
- E) Tekirdağ

EKPSS MEBÖZEL

CEVAP ANAHTARLARI

GENEL YETENEK

- | | | | | |
|------|-------|-------|-------|-------|
| 1) C | 7) D | 13) B | 19) B | 25) C |
| 2) C | 8) B | 14) B | 20) E | 26) C |
| 3) A | 9) C | 15) A | 21) C | 27) C |
| 4) E | 10) C | 16) C | 22) E | 28) C |
| 5) D | 11) B | 17) B | 23) C | 29) C |
| 6) A | 12) A | 18) A | 24) A | 30) D |

GENEL KÜLTÜR

- | | | | | |
|------|-------|-------|-------|-------|
| 1) E | 7) D | 13) B | 19) E | 25) B |
| 2) A | 8) C | 14) C | 20) A | 26) D |
| 3) B | 9) C | 15) D | 21) B | 27) C |
| 4) D | 10) C | 16) C | 22) C | 28) A |
| 5) C | 11) B | 17) C | 23) D | 29) E |
| 6) C | 12) B | 18) D | 24) E | 30) B |

